





英和ペーパー対策

3 0 1 [数量・図形・測定領域]



																			
---	--	--	--	--	--	--	--	--	--	--	--	--	--	--	--	--	--	--	--

																			
---	--	--	--	--	--	--	--	--	--	--	--	--	--	--	--	--	--	--	--

																			
---	--	--	--	--	--	--	--	--	--	--	--	--	--	--	--	--	--	--	--

																			
---	--	--	--	--	--	--	--	--	--	--	--	--	--	--	--	--	--	--	--


																			
---	--	--	--	--	--	--	--	--	--	--	--	--	--	--	--	--	--	--	--

																			
---	--	--	--	--	--	--	--	--	--	--	--	--	--	--	--	--	--	--	--

1.お店の中に、お客さんは何人いますか。その数だけ、男の人のお部屋に丸を描きましょう。6

2.カボチャと、とうもろこしの数を合わせるといくつになりますか。その数だけ、カボチャのお部屋に丸を描きましょう。9

3.大根が、このあと3本売れました。残っている大根は何本になりますか。その数だけ、大根のお部屋に○を描きましょう。6



--	--	--	--	--	--	--	--	--	--	--


--	--	--	--	--	--	--	--	--	--	--


--	--	--	--	--	--	--	--	--	--	--


4.お店の店員さんは、ここに見えている以外に、あと3人います。店員さんは、全部で何人いますか。その数だけ、店員さんのお部屋に丸を描きましょう。5

5.トマトを2つずつ袋に詰めていくと、何袋できますか。その数だけ、トマトのお部屋に丸を描きましょう。4


6.売り場のバナナを全部買って帰った家族がいます。その日のうちに、お父さんが2本、お母さんと子どもが1本ずつ食べると、その家族のおうちには、あと何本バナナが残っていますか。その数だけ、バナナのお部屋に○を描きましょう。5



											
---	--	--	--	--	--	--	--	--	--	--	--

											
---	--	--	--	--	--	--	--	--	--	--	--

											
---	--	--	--	--	--	--	--	--	--	--	--



--	--	--	--	--	--	--	--	--	--	--	--	--	--	--	--	--	--	--	--

--	--	--	--	--	--	--	--	--	--	--	--	--	--	--	--	--	--	--	--

--	--	--	--	--	--	--	--	--	--	--	--	--	--	--	--	--	--	--	--

--	--	--	--	--	--	--	--	--	--	--	--	--	--	--	--	--	--	--	--


--	--	--	--	--	--	--	--	--	--	--	--	--	--	--	--	--	--	--	--


--	--	--	--	--	--	--	--	--	--	--	--	--	--	--	--	--	--	--	--

1. 自転車は、何台ありますか。その数だけ、自転車のお部屋に丸を描きましょう。7


2. 犬と鳥の数を合わせると、いくつになりますか。その数だけ、犬のお部屋に丸を描きましょう。1

3. 花壇にあるお花のうち、3本を摘み取りました。花壇に残っているお花は何本になりますか。その数だけ、お花のお部屋に○を描きましょう。6




											
---	--	--	--	--	--	--	--	--	--	--	--

											
---	--	--	--	--	--	--	--	--	--	--	--

											
---	--	--	--	--	--	--	--	--	--	--	--

5. 1本の木にロープを2本ずつ巻いていきます。ロープは何本必要ですか。その数だけ、ロープのお部屋に丸を描きましょう。8

A black and white line drawing of a busy street scene. In the foreground, a man walks a dog, a woman walks a dog, and a child runs. A car is parked on the side. In the background, a car is driving, a person is riding a bicycle, and a person is walking. There are trees and a crosswalk.

								
---	--	--	--	--	--	--	--	--

[illegible][illegible]



--	--	--	--	--	--	--	--	--	--	--	--	--	--	--	--	--	--	--	--

--	--	--	--	--	--	--	--	--	--	--	--	--	--	--	--	--	--	--	--

--	--	--	--	--	--	--	--	--	--	--	--	--	--	--	--	--	--	--	--

--	--	--	--	--	--	--	--	--	--	--	--	--	--	--	--	--	--	--	--

--	--	--	--	--	--	--	--	--	--	--	--	--	--	--	--	--	--	--	--


--	--	--	--	--	--	--	--	--	--	--	--	--	--	--	--	--	--	--	--

1.カニは何匹売っていますか。その数だけ、カニのお部屋に丸を描きましょう。7


2.ここにいる人たちが、手に持っている袋と鞆の数を全部合わせると、いくつありますか。その数だけ、袋のお部屋に丸を描きましょう。4

3.ここにいる人のうち、お客さんはお店の人より何人多いですか。その数だけ、人のお部屋に丸を描きましょう。2



										
---	--	--	--	--	--	--	--	--	--	--

										
---	--	--	--	--	--	--	--	--	--	--


										
---	--	--	--	--	--	--	--	--	--	--

4.サザエが、朝に2個売れて、昼に1個売れたので、今は5個あります。もともとサザエは何個ありましたかその数だけ、サザエのお部屋に丸を描きましょう。6

5.さんまが八匹売っています。3人のお客さんが二匹ずつ買っていくと、残りは何匹になりますか。その数だけ、サンマのお部屋に丸を描きましょう。8

6.イカを二匹買うと、おまけでイワシを一匹もらえます。イカを8匹買ったら、おまけでもらえるイワシの数は何匹ですか。その数だけ、イワシのお部屋に○を描きましょう。1



											
---	--	--	--	--	--	--	--	--	--	--	--

											
---	--	--	--	--	--	--	--	--	--	--	--

											
---	--	--	--	--	--	--	--	--	--	--	--