













置き換え











(9 9 置き換え)













お手本と同じように、印をつけましょう。





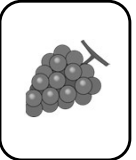



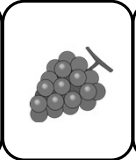





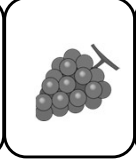

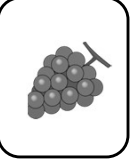





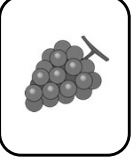




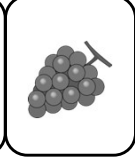




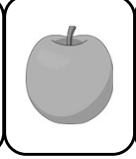
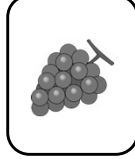

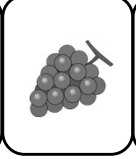


									
















上のお手本のカードのうち、りんごとバナナを入れ替えるとどのような並び方になりますか。その並び方を、下の三つの中から探して丸をつけましょう。











<div></div>	<div></div>	<div></div>
<div></div>	<div></div>	<div></div>
<div></div>	<div></div>	<div></div>
<div></div>	<div></div>	<div></div>











お手本と同じように、印をつけましょう。

おてほん

		
○	△	×

上のお手本のカードのうち、ダイヤの1とハートの4を入れ替えるとどのような並び方になりますか。その並び方を、下の三つの中から探して丸をつけましょう。

A

6

4

◆

♣

♥

A

6

4

3

A

5

4

♠

◆

♠

♥

3

A

5

4

6

4

A

2

♣

♥

◆

♠

6

4

A

2

6

4

A

♣

♥

◆

6

4

A

A

4

6

◆

♥

♣

A

4

6

4

6

A

♥

♣

◆

4

6

A

3

A

5

4

♠

◆

♠

♥

3

A

5

4

5

3

4

A

♠

♠

♥

◆

5

3

4

A

3

4

A

5

♠

♥

◆

♠

3

4

A

5

A

4

2

6

◆

♥

♠

♣

A

4

2

6

2

4

A

6

♠

♥

◆

♣

2

4

A

6

6

A

4

2

♣

◆

♥

♠

6

A

4

2

上のお部屋の白いところと黒いところを入れ替えるとどのような模様になりますか。その模様を、下の三つの中から探して丸をつけましょう。

■	□
□	■

□	□
■	■

■	□
□	■

□	■
■	□

□	■
□	□

■	□
□	□

■	□
■	■

■	□
□	■

□	■	□
□	■	□
■	■	■

■	□	■
■	□	■
□	□	□

■	■	■
□	■	□
□	■	□

□	■	□
■	□	■
□	■	□

■	□	□
■	■	□
□	■	■

□	□	■
□	■	■
■	■	□













□	■	■
□	□	■
■	□	□

■	■	□
□	■	■
□	□	■



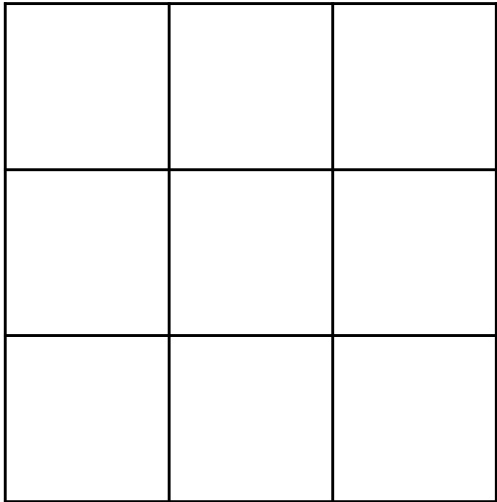
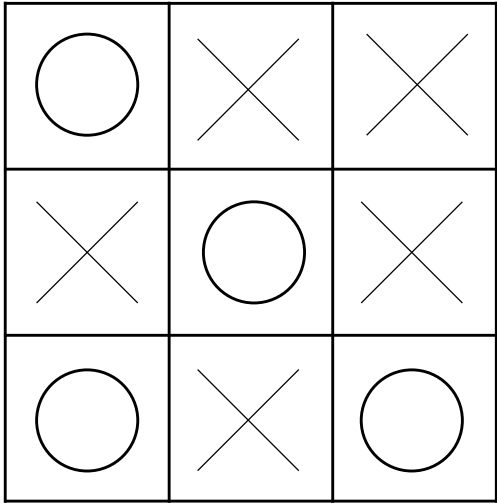
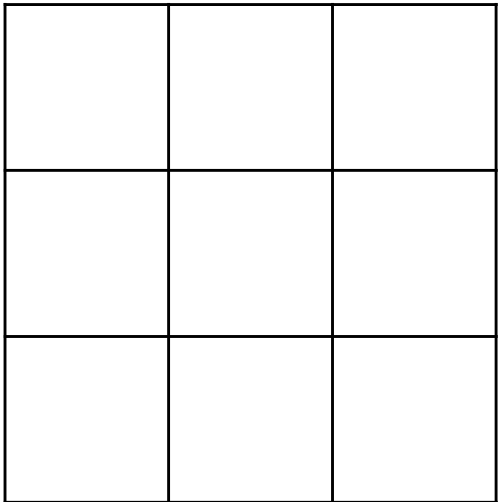
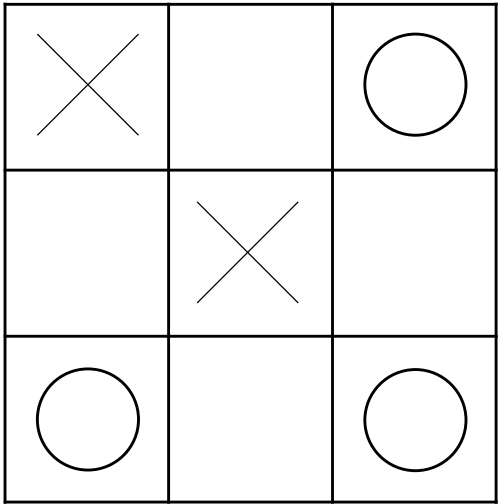
動物たちが1列に並んでいます。

鶏が一番前に行くと、どんな順番になりますか。右のお部屋から選んで、○をつけてください。
豚が一番前に行くと、どんな順番になりますか。右のお部屋から選んで、○をつけてください。
牛が一番前に行くと、どんな順番になりますか。右のお部屋から選んで、○をつけてください。

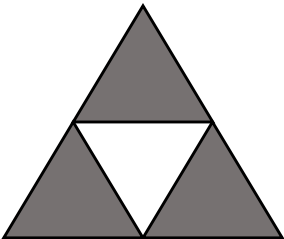
			
			
			

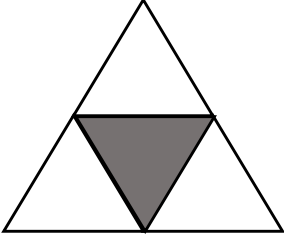
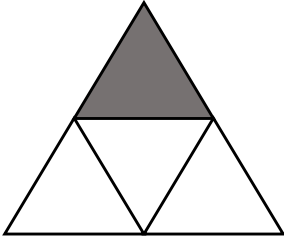
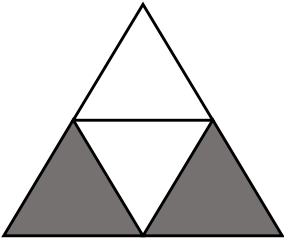
上のお部屋の、丸とペケとを入れ替えると、どのような模様になりますか。下のお部屋に描きましょう。

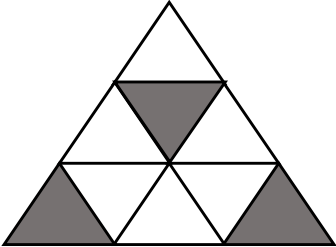
○ ⇄ ×

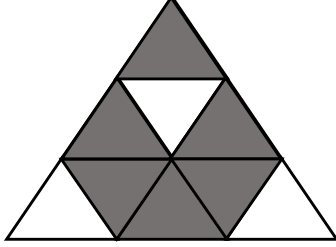
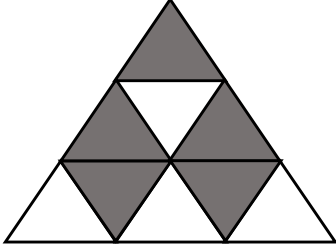
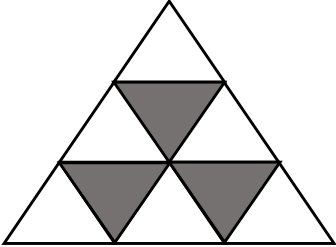


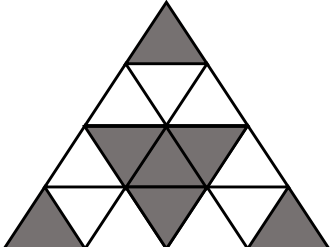
上のお部屋の白いところと黒いところを入れ替えるとどのような模様になりますか。その模様を、下の三つの中から探して丸をつけましょう。

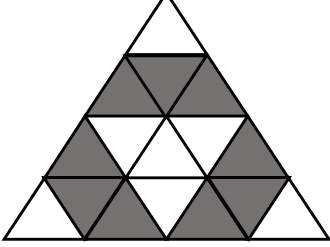
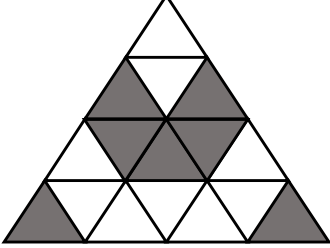
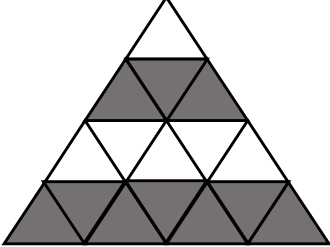




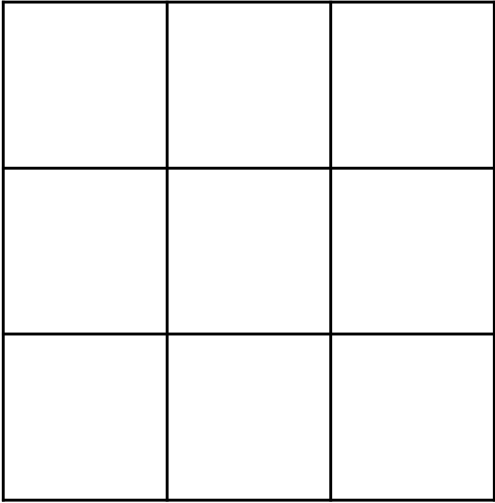

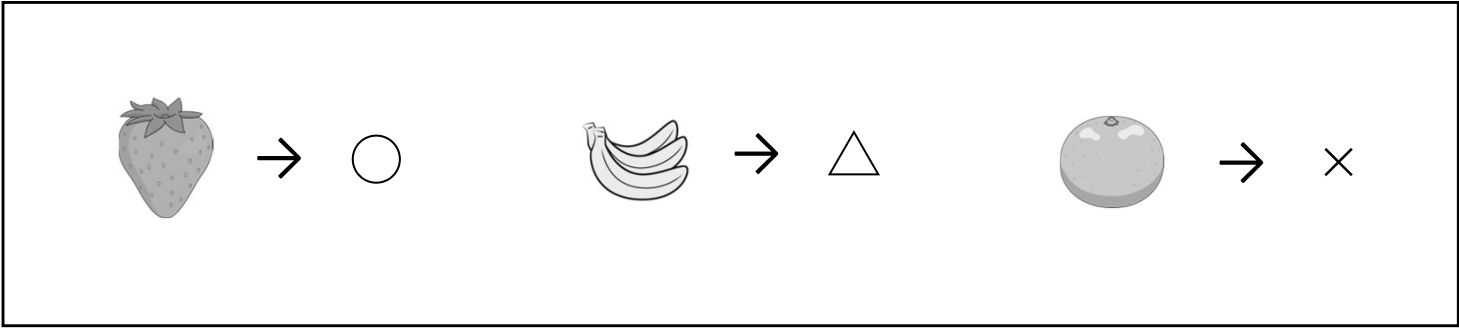




















左のお部屋の中の果物を、上のお手本のように印と入れ替えて、右のお部屋に描きましょう。















動物の絵がついた積み木が積んであります。

















サルを 上から二番目に入れた時の並び方を、右から選んで丸をつけましょう。

<div>  </div>	<div>  </div>	<div>  </div>	<div>  </div>
--	--	--	--


パンダを下から二番目に入れた時の並び方を、右から選んで丸をつけましょう。


<div>  </div>	<div>  </div>	<div>  </div>	<div>  </div>
--	--	--	--


サルを一番下に、猫を一番上にした時の並び方を、右から選んで丸をつけましょう。


<div>   </div>	<div>   </div>	<div>   </div>	<div>   </div>
--	--	--	--







それぞれ、上にあるお手本通りに動物の顔を形に変えて、下の部屋に描きましょう。

⇒○


⇒△


⇒×


⇒□


		
		
		










⇒○

⇒△

⇒×

⇒□

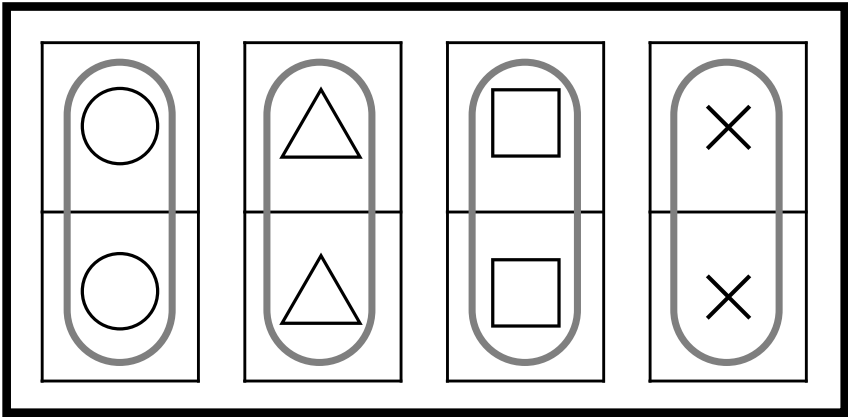
		
		
		





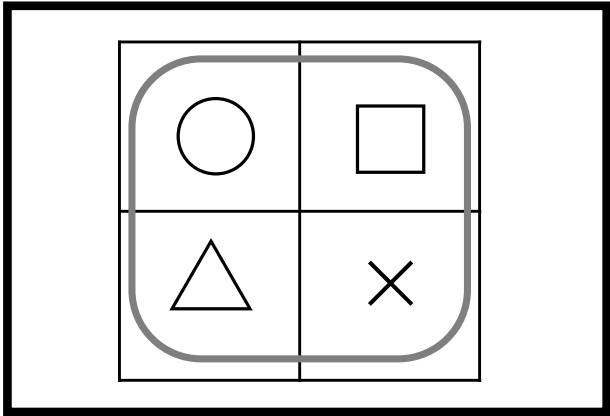
左の大きな部屋の中から、右のお手本のように同じ形が縦に二つ並んでいるところを探し、線で囲みましょう。

×	×	○	○	△	□
×	△	×	□	×	○
△	×	□	△	□	○
△	○	×	○	□	□
○	○	□	△	×	○
×	△	□	□	△	△

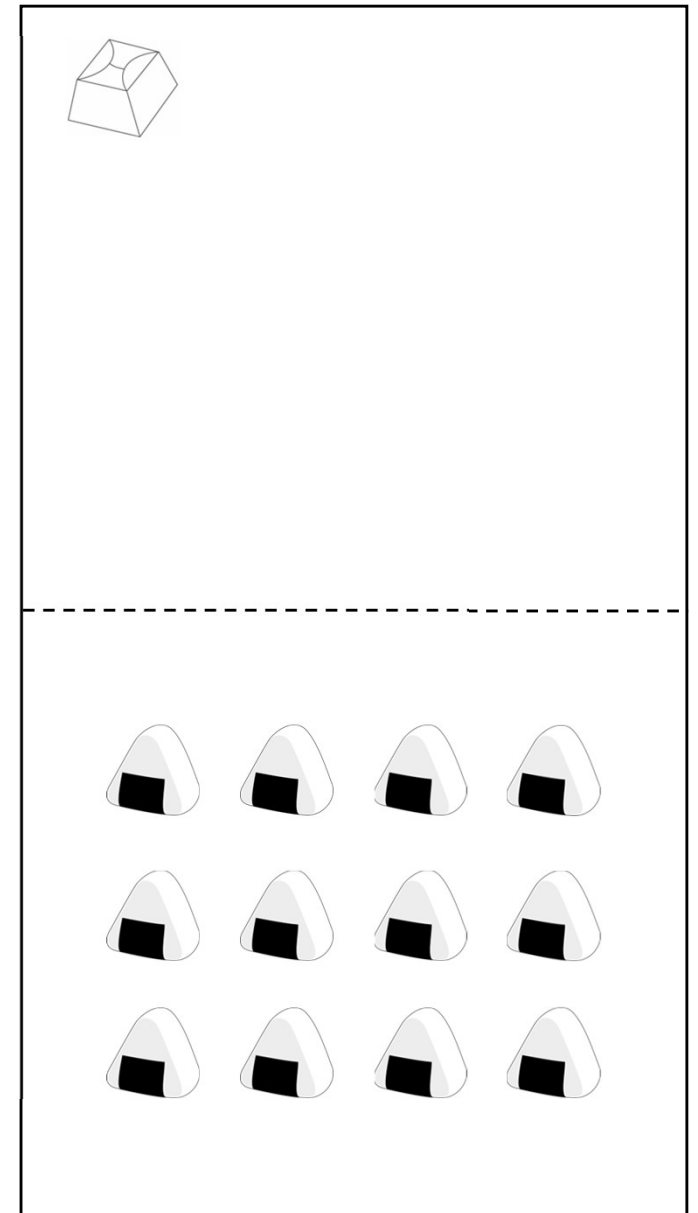
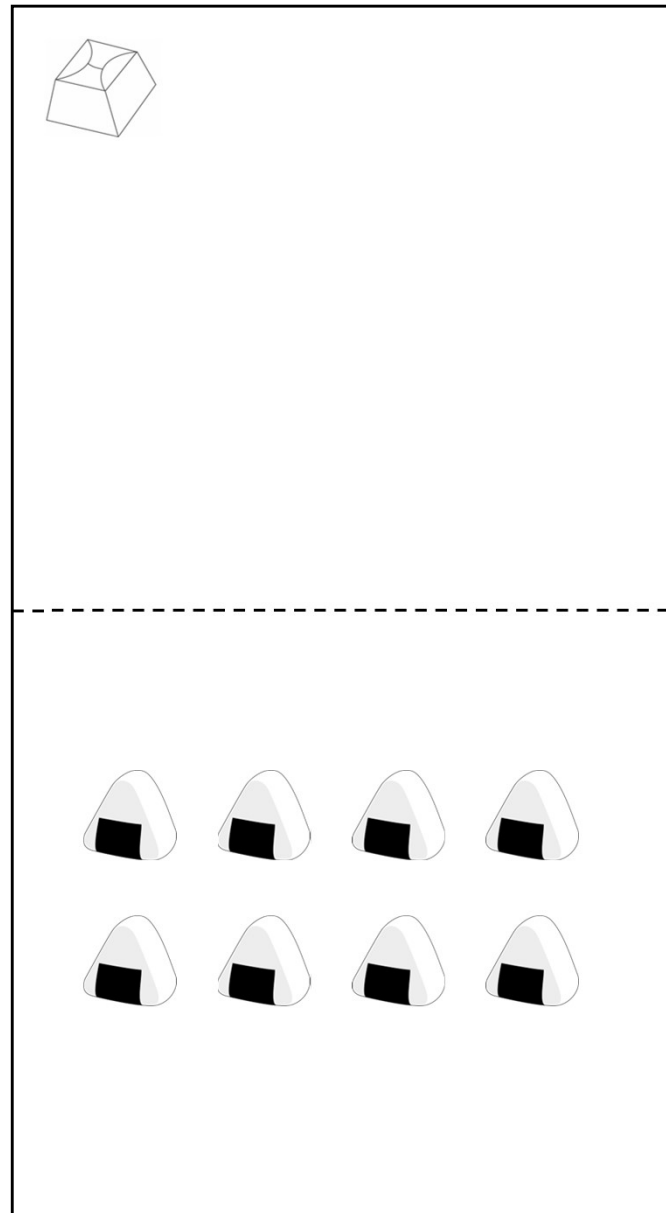
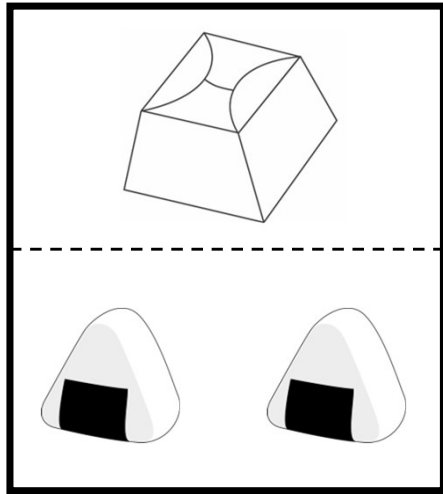


左の大きな部屋の中から、右のお手本のように形が並んでいるところを探し、線で囲みましょう。

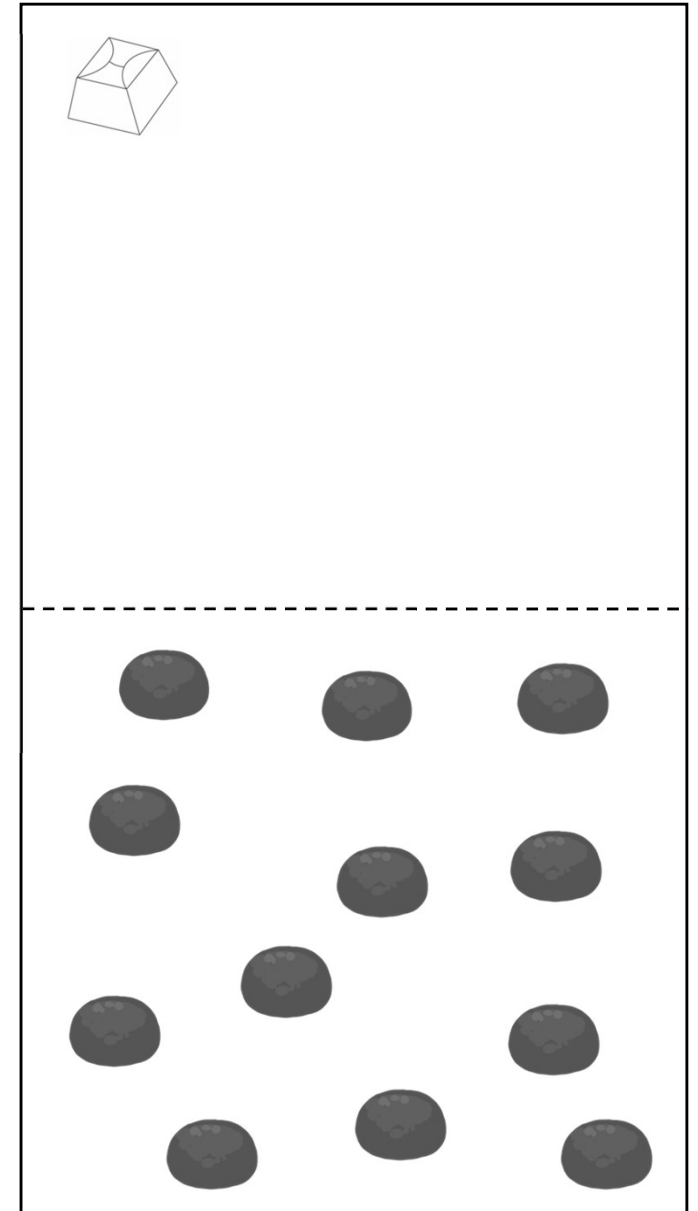
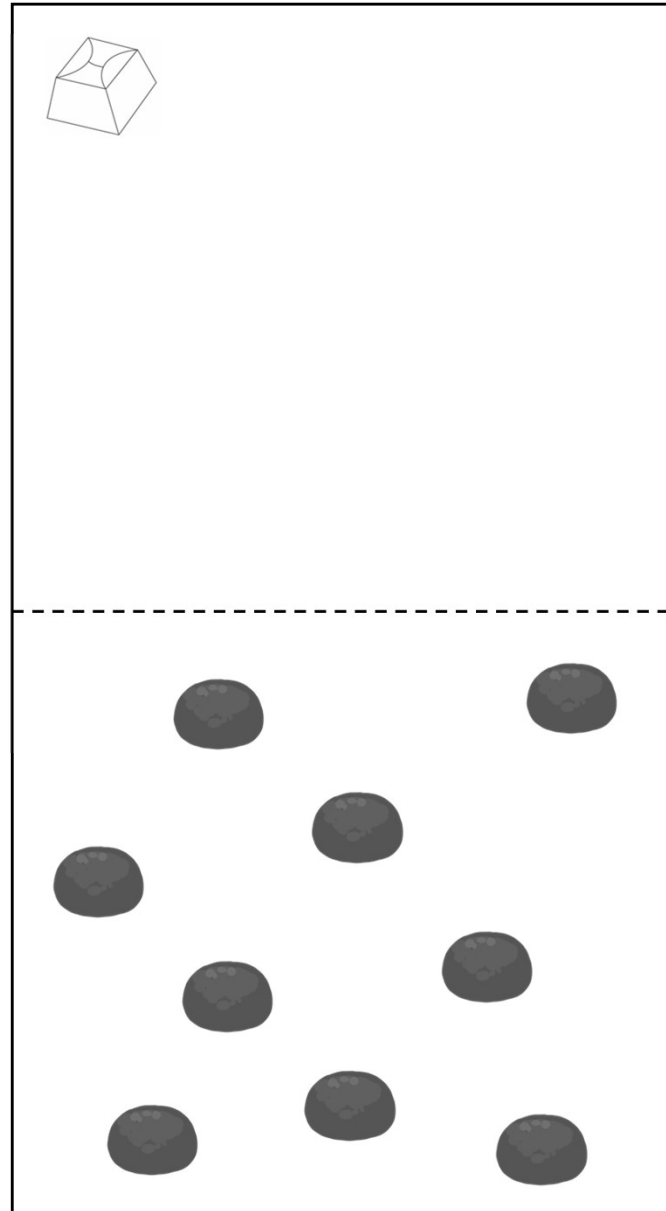
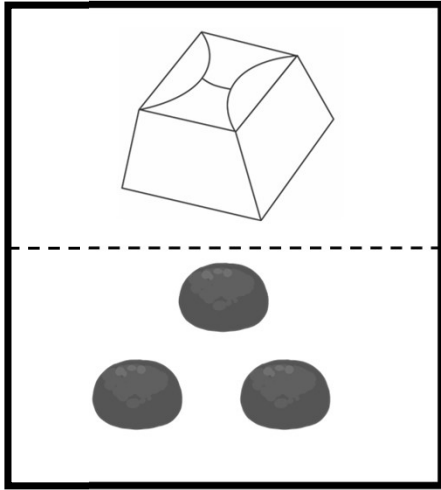
×	×	○	△	×	○	○	△	□
×	△	×	□	△	△	□	×	○
×	×	△	○	□	□	○	○	□
△	□	○	△	×	□	×	×	○
○	□	□	△	○	×	×	△	×
△	×	□	□	×	○	△	□	○
△	○	×	○	○	△	○	□	□
○	○	□	△	□	○	△	×	○
×	△	□	○	□	□	□	△	△



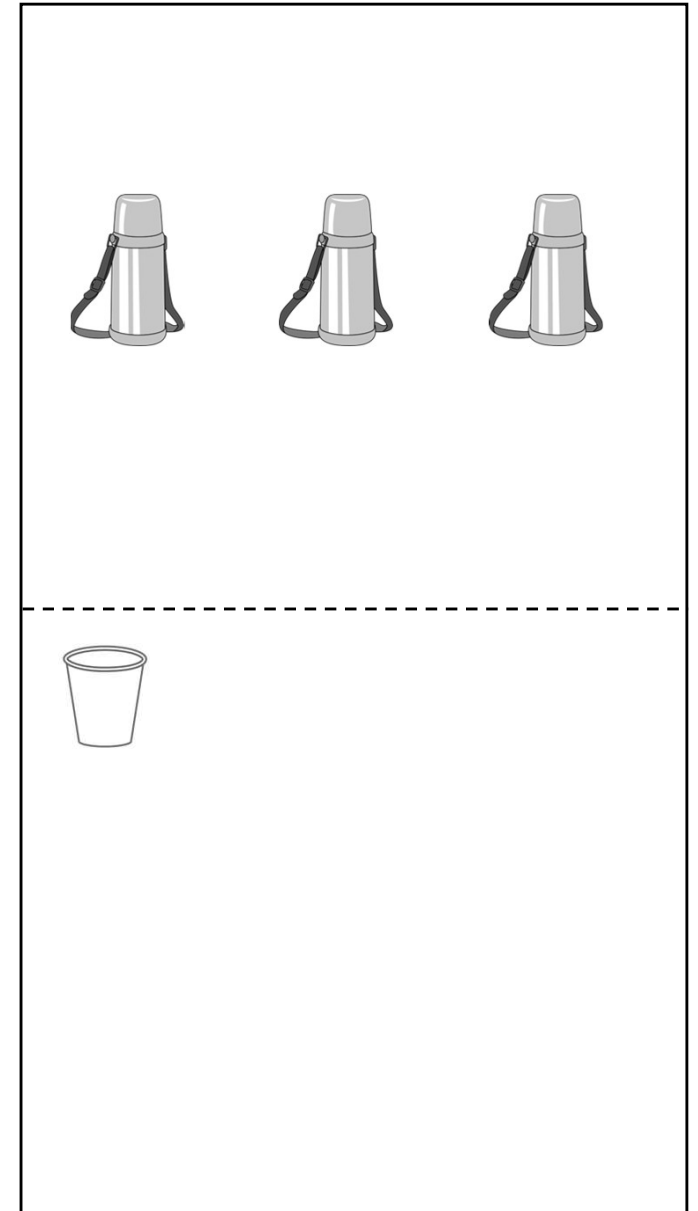
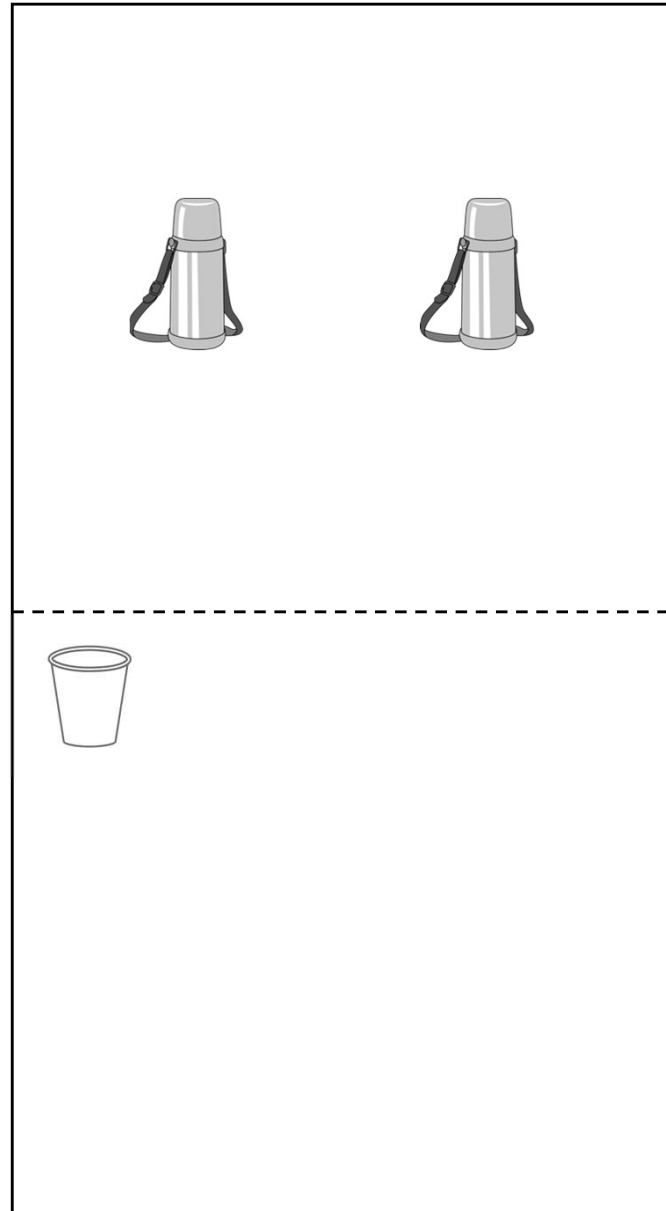
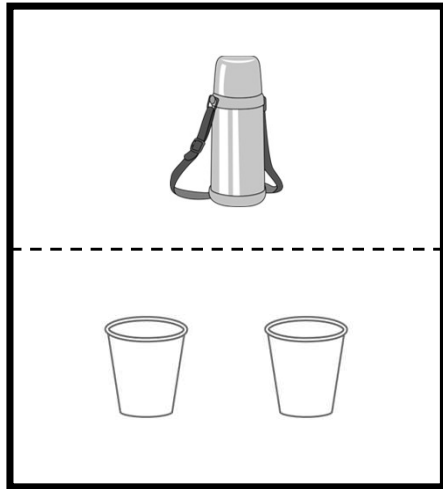
左のお手本のように、おにぎり二個を一つの箱に詰めます。それぞれのお部屋の下にある数だけおにぎりを箱に詰めていくと、箱はいくついきますか。その数だけ、箱のお部屋に丸を描きましょう。




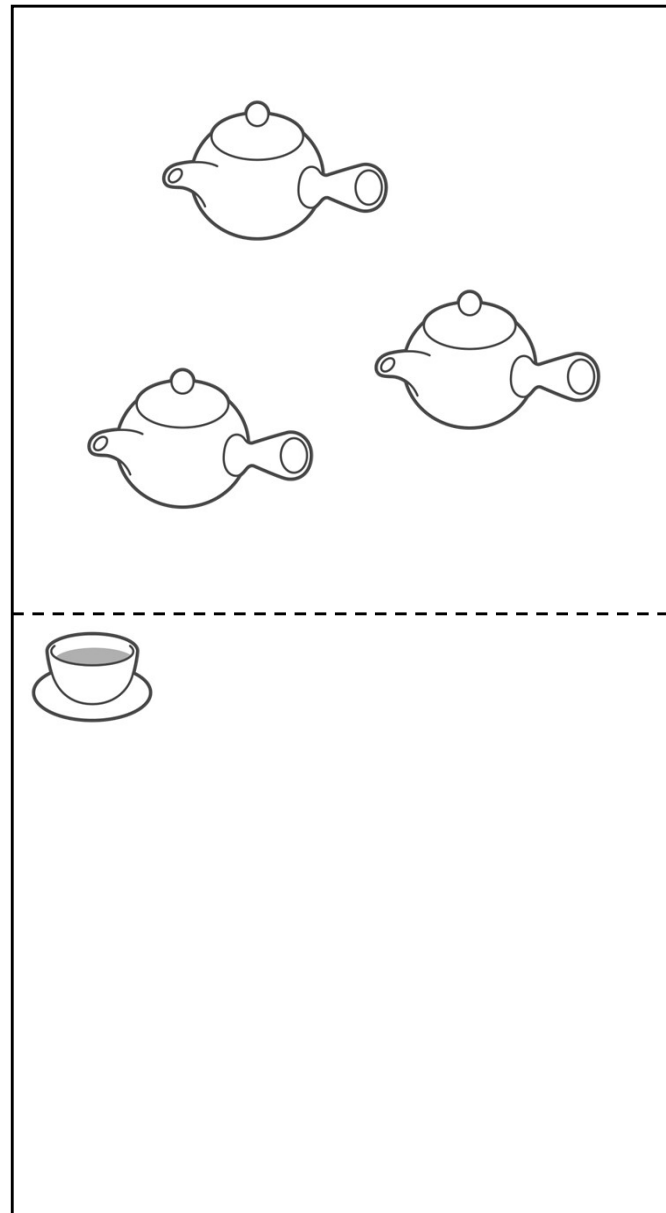
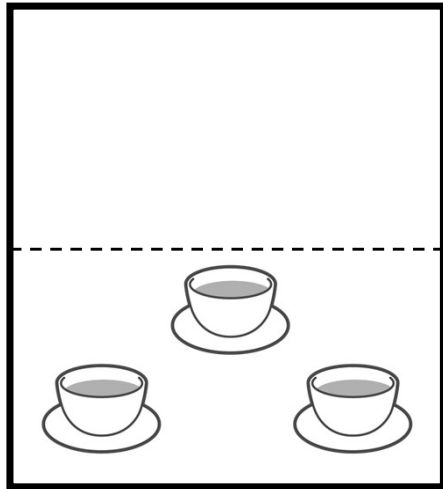
左のお手本のように、おまんじゅう三個を一つの箱に詰めます。それぞれのお部屋にある数だけおまんじゅうを箱に詰めていくと、箱はいくついらいますか。その数だけ、箱のお部屋に丸を描きましょう。



水筒一つには、コップ2杯分のお水が入っています。それぞれのお部屋にある数だけ、水筒があるとき、コップ何杯分の水がありますか。その数だけ、コップのお部屋に丸を描きましょう。






急須一つには、湯呑み3杯分のお茶が入っています。それぞれのお部屋にある数だけ、急須があるとき、湯飲みいくつ分のお茶がありますか。その数だけ、湯呑みのお部屋に丸を描きましょう。






(置き換え 3 つ、お手本の左から順に指示、お手本とは重複しない図形への置き換え、時間制限15秒)




左側のお部屋の、丸を三角、星をバツ、ハートを四角に変えて、右のお部屋に描きましょう。

左側のお部屋の、ハートをバツ、丸を四角、星を三角に変えて、右のお部屋に描きましょう。

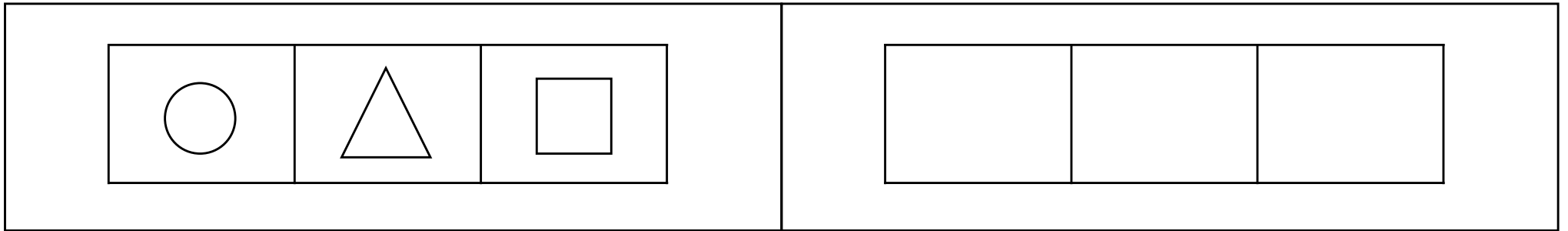
		

左側のお部屋の、星を三角、丸をバツ、ハートを四角に変えて、右のお部屋に描きましょう。

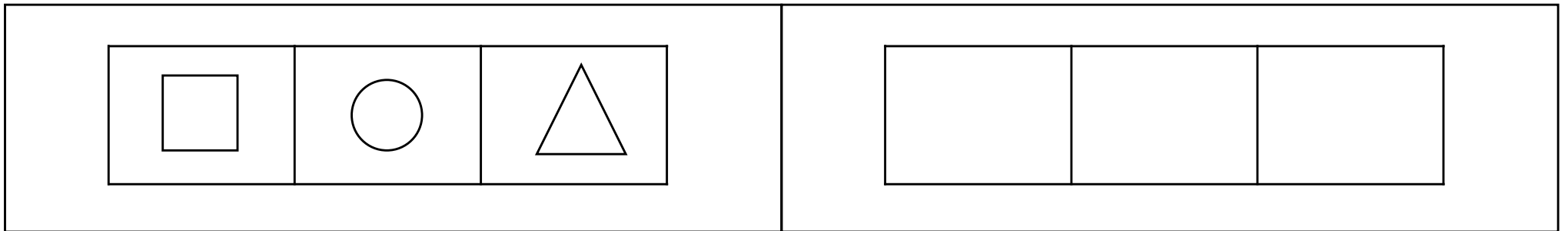
		

(置き換え 3 つ、お手本の左から順に指示、お手本と重複する図形への置き換え、時間制限15秒)

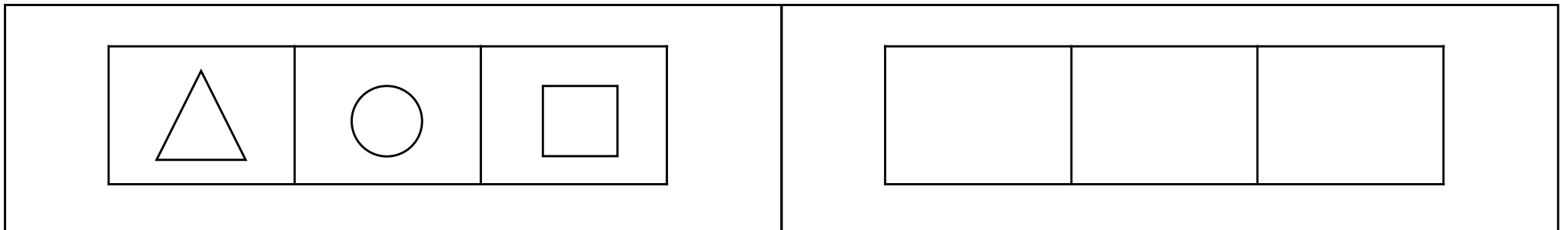
左側のお部屋の、丸を三角、三角を四角、四角を丸に変えて、右のお部屋に描きましょう。



左側のお部屋の、四角を三角、丸を四角、三角を丸に変えて、右のお部屋に描きましょう。






左側のお部屋の、三角を四角、丸を三角、四角を丸に変えて、右のお部屋に描きましょう。






(置き換え 3 つ、お手本の順とは別の順で指示、お手本とは重複しない図形への置き換え、時間制限15秒)




左側のお部屋の、星をバツ、丸を三角、ハートを四角に変えて、右のお部屋に描きましょう。

左側のお部屋の、星を三角、丸を四角、ハートをバツに変えて、右のお部屋に描きましょう。

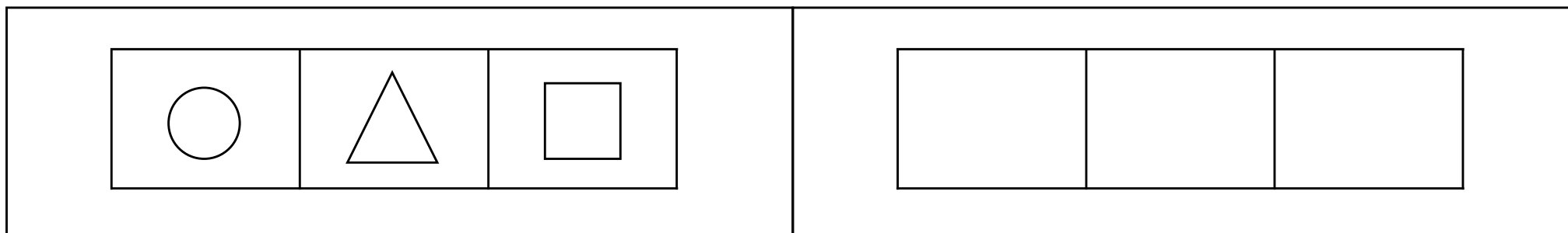
		

左側のお部屋の、丸をバツ、星を三角、ハートを四角に変えて、右のお部屋に描きましょう。

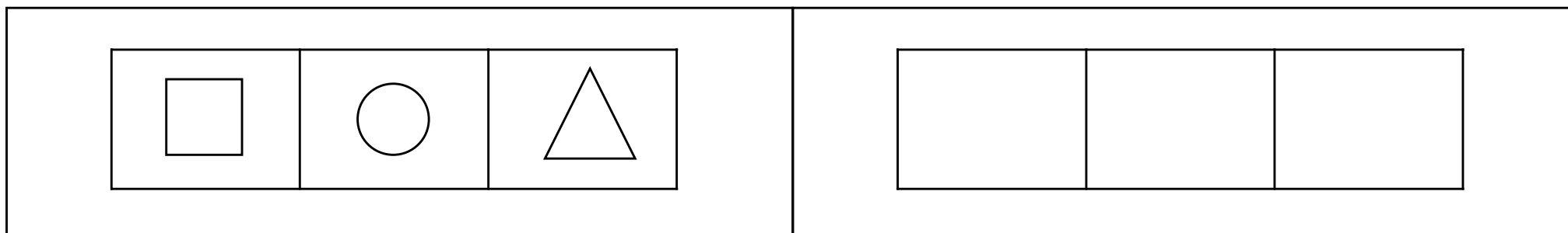
		

(置き換え 3 つ、お手本の順とは別の順で指示、お手本と重複する図形への置き換え、時間制限15秒)

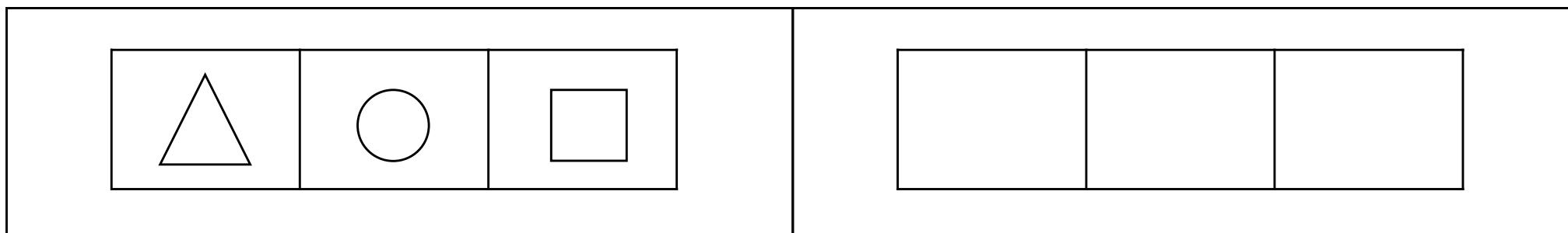
左側のお部屋の、三角を四角、丸を三角、四角を丸に変えて、右のお部屋に描きましょう。



左側のお部屋の、三角を丸、丸を四角、四角を三角に変えて、右のお部屋に描きましょう。







左側のお部屋の、丸を三角、三角を四角、四角を丸に変えて、右のお部屋に描きましょう。







(置き換え 4 つ、お手本の左から順に指示、お手本とは重複しない図形への置き換え、時間制限20秒)





左側のお部屋の、丸を三角、星をバツ、ハートを四角、雲を二重丸に変えて、右のお部屋に描きましょう。

							
---	---	---	---	--	--	--	--

左側のお部屋の、ハートをバツ、丸を二重丸、雲をバツ、星を三角に変えて、右のお部屋に描きましょう。





							
---	---	---	---	--	--	--	--

左側のお部屋の、星を三角、雲を四角、丸をバツ、ハートを二重丸に変えて、右のお部屋に描きましょう。





							
---	---	---	---	--	--	--	--

(置き換え 4 つ、お手本の左から順に指示、お手本と重複する図形への置き換え、時間制限20秒)

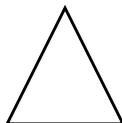



左側のお部屋の、丸を三角、三角を四角、四角を菱形、菱形を丸に変えて、右のお部屋に描きましょう。

左側のお部屋の、四角を三角、丸を菱形、菱形を三角、三角を丸に変えて、右のお部屋に描きましょう。





			

左側のお部屋の、三角を丸、菱形を四角、丸を菱形、四角を三角に変えて、右のお部屋に描きましょう。





			

(置き換え 4 つ、お手本の順とは別の順で指示、お手本とは重複しない図形への置き換え、時間制限20秒)



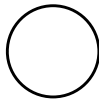

左側のお部屋の、星をバツ、丸を三角、雲を二重丸、ハートを四角に変えて、右のお部屋に描きましょう。

左側のお部屋の、雲を二重丸、星を三角、丸を四角、ハートをバツに変えて、右のお部屋に描きましょう。





			

左側のお部屋の、丸をバツ、星を三角、ハートを四角、雲を二重丸に変えて、右のお部屋に描きましょう。





			

(置き換え 4 つ、お手本の順とは別の順で指示、お手本と重複する図形への置き換え、時間制限20秒)

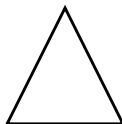



左側のお部屋の、三角を四角、丸を三角、菱形を丸、四角を菱形に変えて、右のお部屋に描きましょう。

左側のお部屋の、三角を丸、丸を四角、菱形を三角、四角を菱形に変えて、右のお部屋に描きましょう。






			

左側のお部屋の、丸を三角、三角を四角、菱形を丸、四角を菱形に変えて、右のお部屋に描きましょう。



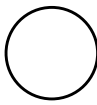


			

(置き換え 5 つ、お手本の左から順に指示、お手本とは重複しない図形への置き換え、時間制限25秒)



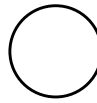


左側のお部屋の、丸を三角、星をバツ、ハートを四角、雲を二重丸、太陽を菱形に変えて、右のお部屋に描きましょう。

									
---	---	---	---	---	--	--	--	--	--

左側のお部屋の、ハートをバツ、太陽を三角、丸を二重丸、雲をバツ、星を菱形に変えて、右のお部屋に描きましょう。

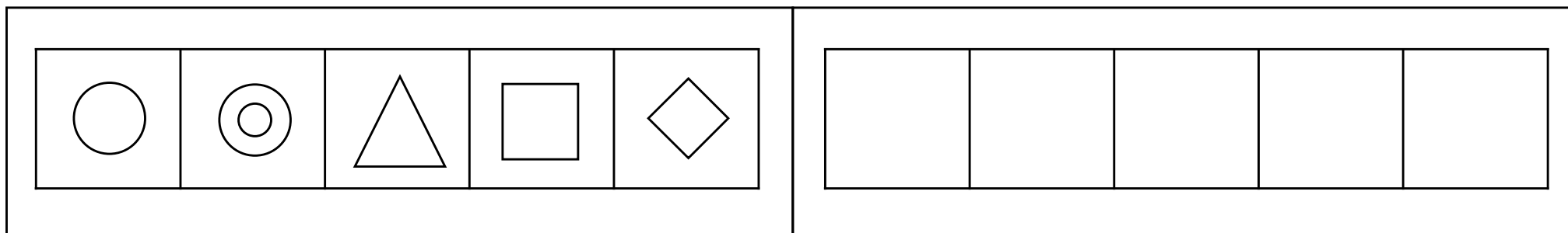
									
---	---	---	---	--	--	--	--	--	--

左側のお部屋の、星を三角、雲を四角、丸を菱形、太陽をバツ、ハートを二重丸に変えて、右のお部屋に描きましょう。

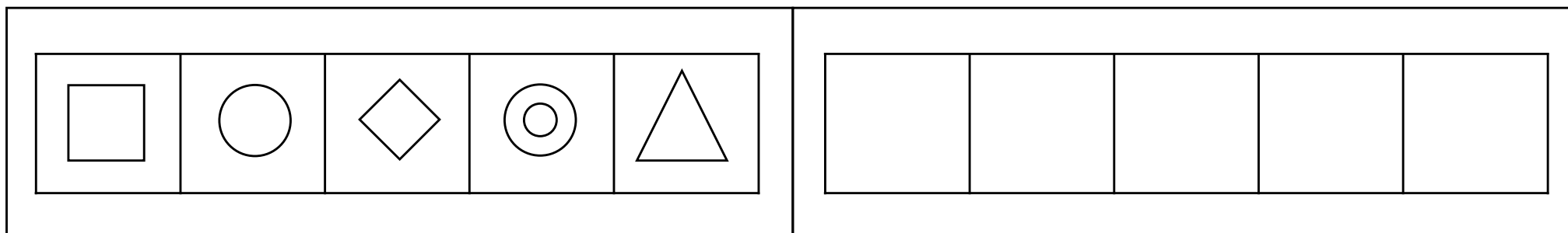
									
---	---	---	---	---	--	--	--	--	--

(置き換え 5 つ、お手本の左から順に指示、お手本と重複する図形への置き換え、時間制限25秒)

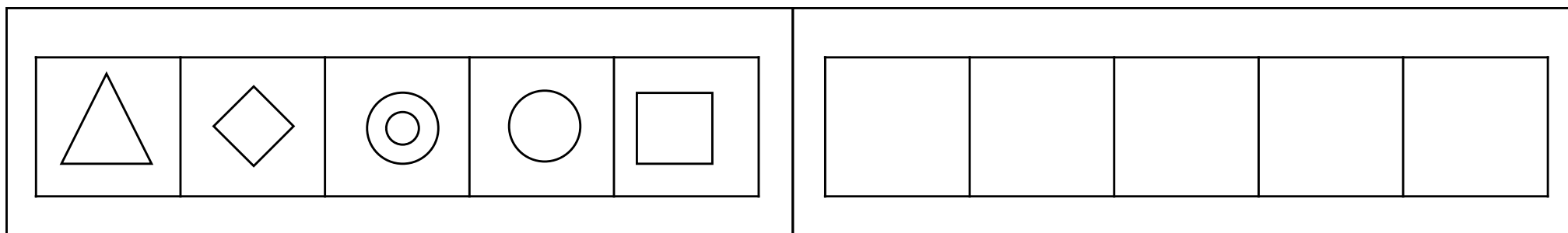
左側のお部屋の、丸を三角、二重丸を四角、三角を菱形、四角を丸、菱形を二重丸に変えて、右のお部屋に描きましょう。



左側のお部屋の、四角を二重丸、丸を三角、菱形を四角、二重丸を丸、三角を菱形に変えて、右のお部屋に描きましょう。








左側のお部屋の、三角を丸、菱形を四角、二重丸を三角、丸を菱形、四角を二重丸に変えて、右のお部屋に描きましょう。








(置き換え 4 つ、お手本の順とは別の順で指示、お手本とは重複しない図形への置き換え、時間制限25秒)






左側のお部屋の、星をバツ、丸を三角、太陽を菱形、雲を二重丸、ハートを四角に変えて、右のお部屋に描きましょう。

									
---	---	---	---	--	--	--	--	--	--

左側のお部屋の、雲を二重丸、星を三角、丸をバツ、ハートを菱形、太陽を四角に変えて、右のお部屋に描きましょう。

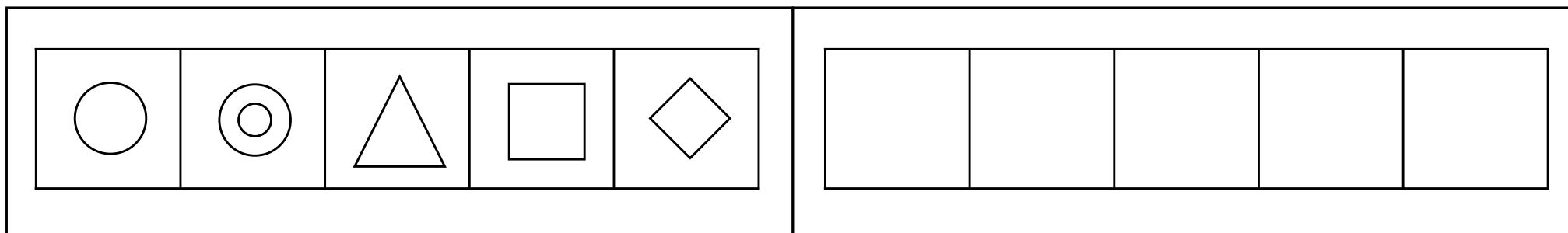
									
---	---	---	---	--	--	--	--	--	--

左側のお部屋の、太陽を三角、丸をバツ、星を菱形、ハートを四角、雲を二重丸に変えて、右のお部屋に描きましょう。

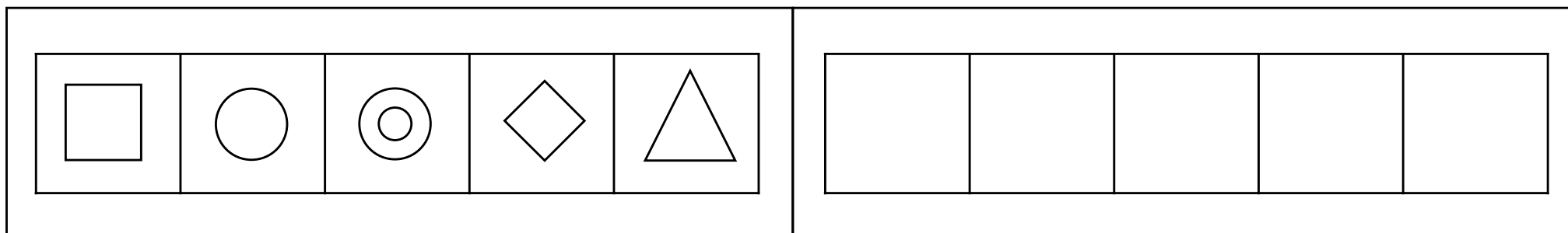
									
---	---	---	---	---	--	--	--	--	--

(置き換え 4 つ、お手本の順とは別の順で指示、お手本と重複する図形への置き換え、時間制限25秒)

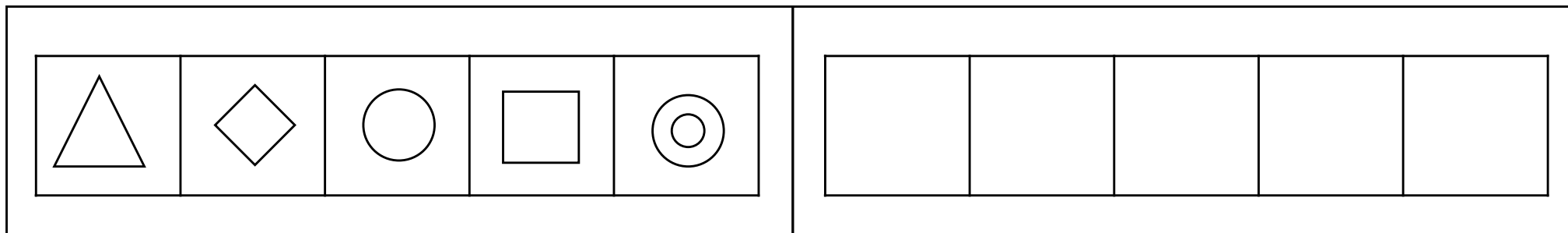
左側のお部屋の、三角を二重丸、二重丸を四角、丸を三角、菱形を丸、四角を菱形に変えて、右のお部屋に描きましょう。



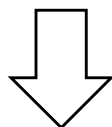


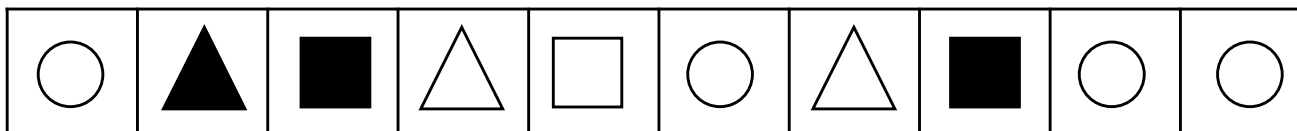
左側のお部屋の、三角を丸、丸を二重丸、菱形を三角、二重丸を四角、四角を菱形に変えて、右のお部屋に描きましょう。





左側のお部屋の、丸を三角、二重丸を四角、三角を二重丸、菱形を丸、四角を菱形に変えて、右のお部屋に描きましょう。























お部屋の中に形が並んでいます。黒い矢印の前と後では、元々白い三角だった形が黒い丸に変わり、その他の形は変わりません。その後、白い矢印の前と後では形は変わらずに、全部の形の色が白に変わります。空いているところに正しい形を描きましょう。













お手本と同じように、印をつけましょう。

	
○	×



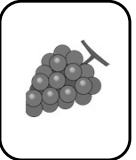



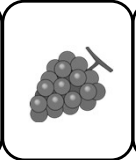





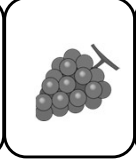

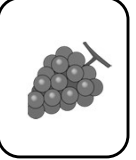





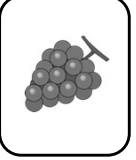




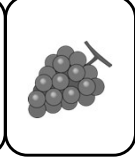




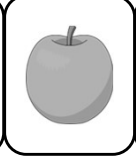
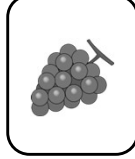

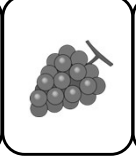


									
×	○	×	×	○	×	○	○	×	×

									
×	○	×	○	×	×	○	○	×	○

									
○	○	×	○	×	○	×	○	×	○
















上のお手本のカードのうち、りんごとバナナを入れ替えるとどのような並び方になりますか。その並び方を、下の三つの中から探して丸をつけましょう。











<div></div>	<div></div>	<div></div>
<div></div>	<div></div>	<div></div>
<div></div>	<div></div>	<div></div>
<div></div>	<div></div>	<div></div>











お手本と同じように、印をつけましょう。

おてほん

		
○	△	×

上のお手本のカードのうち、ダイヤの1とハートの4を入れ替えるとどのような並び方になりますか。その並び方を、下の三つの中から探して丸をつけましょう。

A

6

4

♠

♣

♥

A

6

4

6

4

A

♣

♥

♠

6

4

A

A

4

6

♠

♥

♣

A

4

6

4

6

A

♥

♣

♠

4

6

A

3

A

5

4

♠

♠

♠

♥

A

♠

♠

♥

5

4

4

4

3

4

5

A

♠

♥

♠

♠

4

♥

♥

♠

A

♠

♠

♥

5

3

4

A

♠

♠

♠

♥

4

♥

♥

♠

A

♠

♠

♥

3

4

A

5

♠

♥

♠

♠

A

♠

♠

♥

5

4

4

4

6

4

A

2

♣

♥

♠

♠

6

4

A

2

A

4

2

6

♠

♥

♠

♣

A

4

2

6

2

4

A

6

♠

♥

♠

♣

2

4

A

6

6

A

4

2

♣

♠

♥

♠

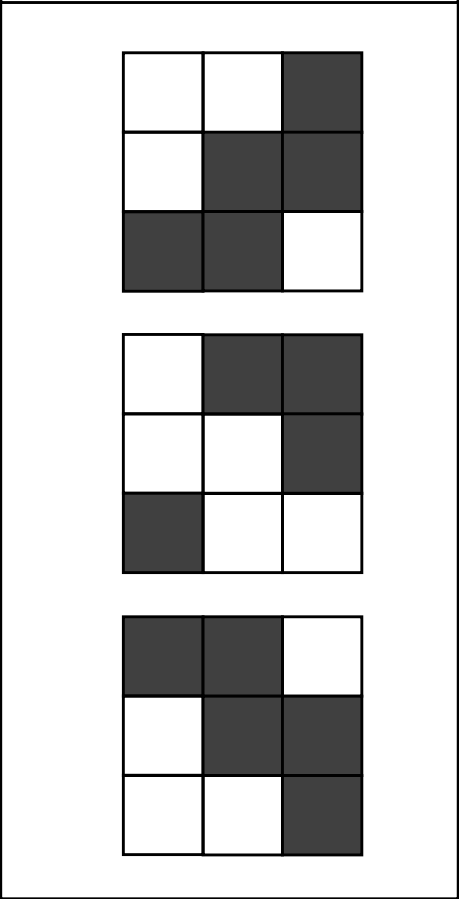
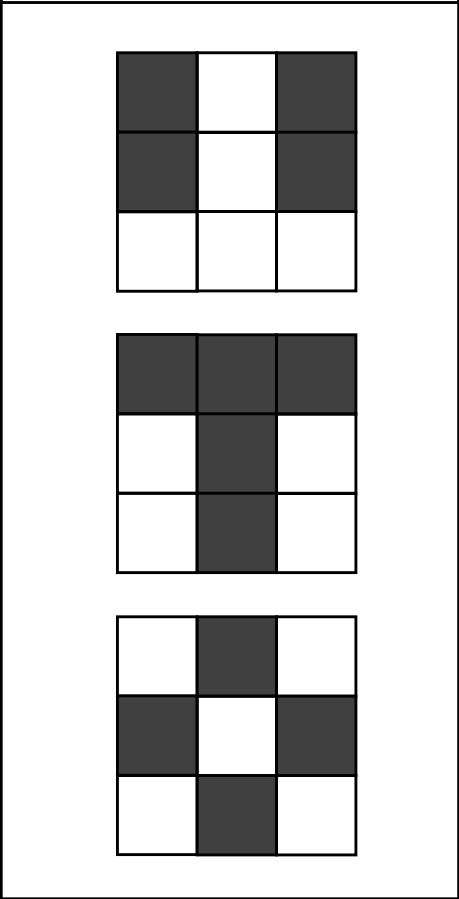
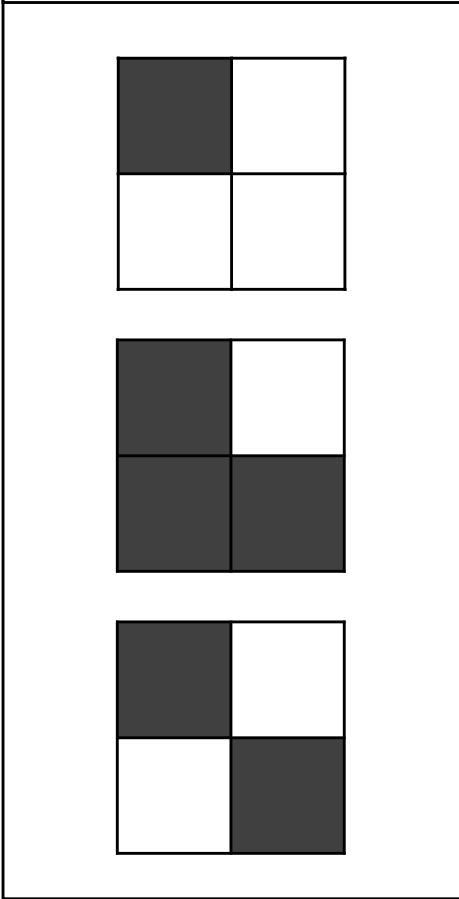
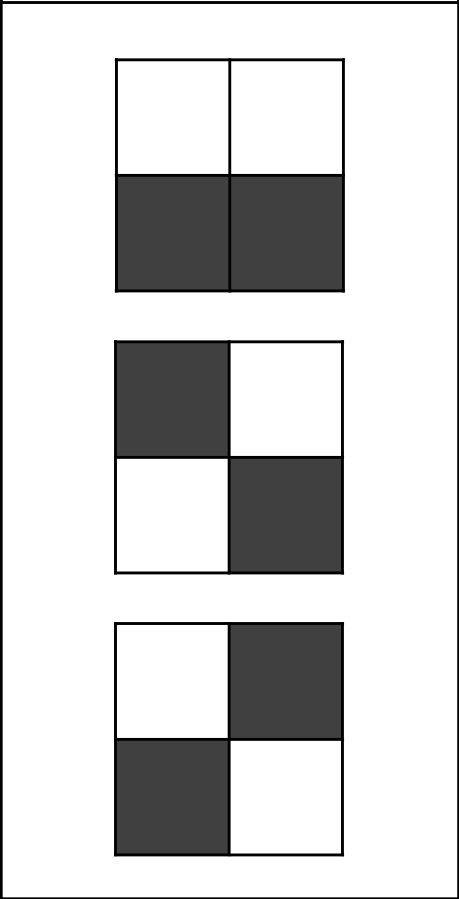
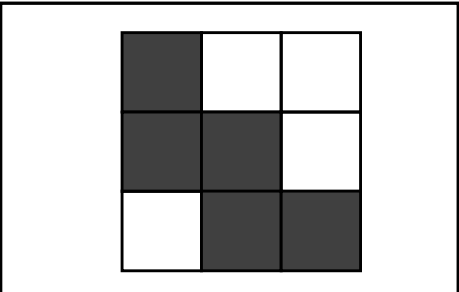
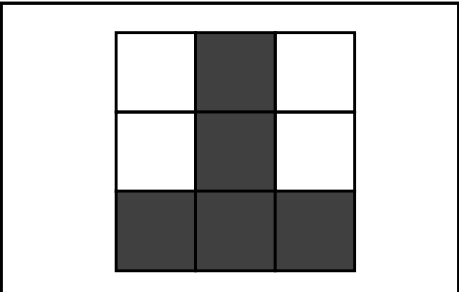
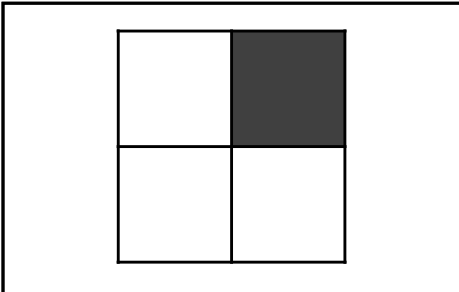
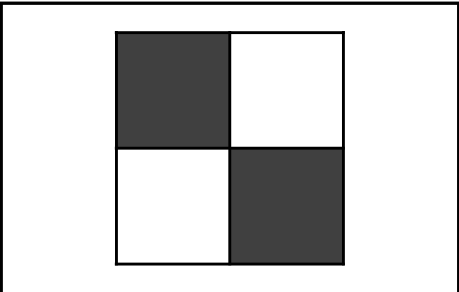
6

A

4













2

上のお部屋の白いところと黒いところを入れ替えるとどのような模様になりますか。その模様を、下の三つの中から探して丸をつけましょう。



動物たちが1列に並んでいます。

鶏が一番前に行くと、どんな順番になりますか。右のお部屋から選んで、○をつけてください。
豚が一番前に行くと、どんな順番になりますか。右のお部屋から選んで、○をつけてください。
牛が一番前に行くと、どんな順番になりますか。右のお部屋から選んで、○をつけてください。

上のお部屋の、丸とペケとを入れ替えると、どのような模様になりますか。下のお部屋に描きましょう。

○ ⇄ ×

×		○
	×	
○		○

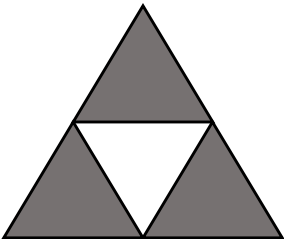
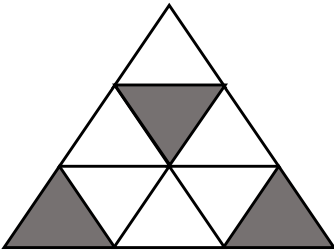
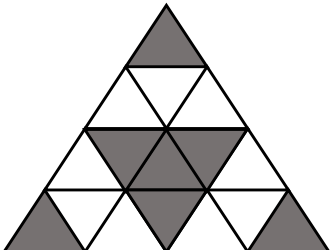
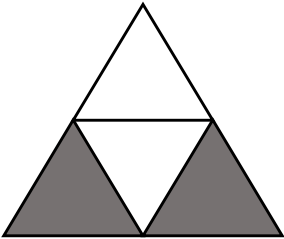
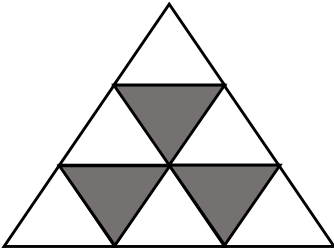
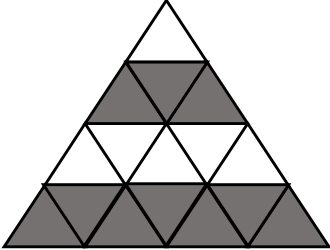
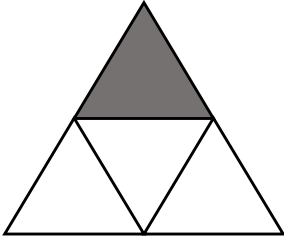
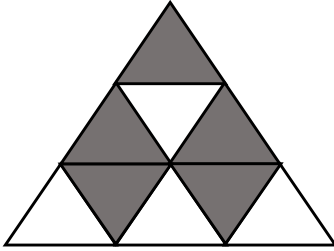
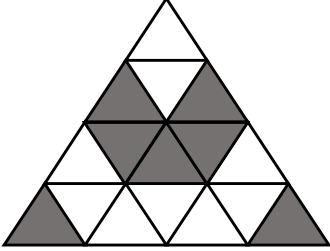
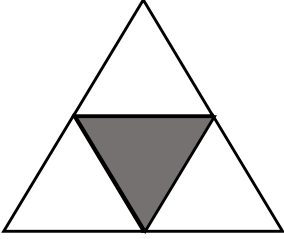
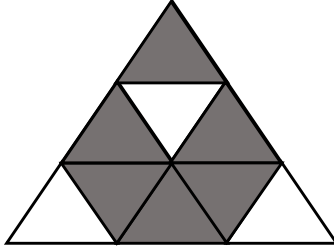
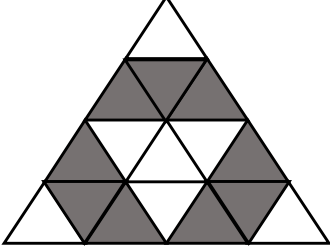


○	×	×
×	○	×
○	×	○








上のお部屋の白いところと黒いところを入れ替えるとどのような模様になりますか。その模様を、下の三つの中から探して丸をつけましょう。







		
		
		
		

左のお部屋の中の果物を、上のお手本のように印と入れ替えて、右のお部屋に描きましょう。

 → ○

 → △

 → ×













		
		
		

















動物の絵がついた積み木が積んであります。

















サルを 上から二番目に入れた時の並び方を、右から選んで丸をつけましょう。

<div>  </div>	<div>  </div>	<div>  </div>	<div>  </div>
--	--	--	--


パンダを下から二番目に入れた時の並び方を、右から選んで丸をつけましょう。


<div>  </div>	<div>  </div>	<div>  </div>	<div>  </div>
--	--	--	--


サルを一番下に、猫を一番上にした時の並び方を、右から選んで丸をつけましょう。


<div>   </div>	<div>   </div>	<div>   </div>	<div>   </div>
--	--	--	--







それぞれ、上にあるお手本通りに動物の顔を形に変えて、下の部屋に描きましょう。

⇒○


⇒△


⇒×


⇒□


		
		
		










⇒○

⇒△

⇒×

⇒□

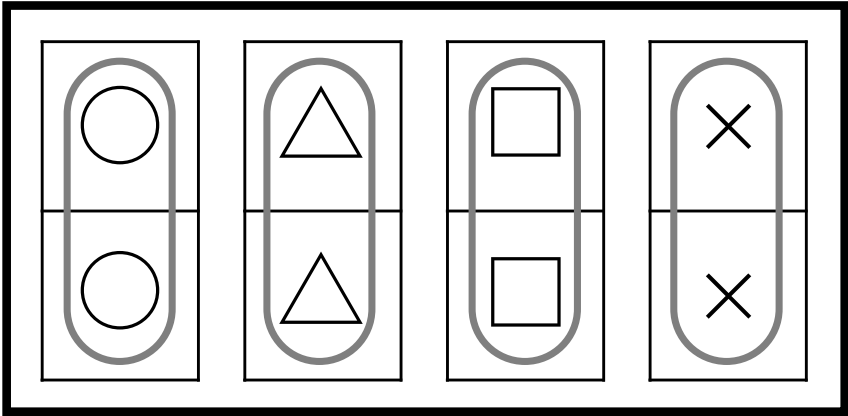
		
		
		





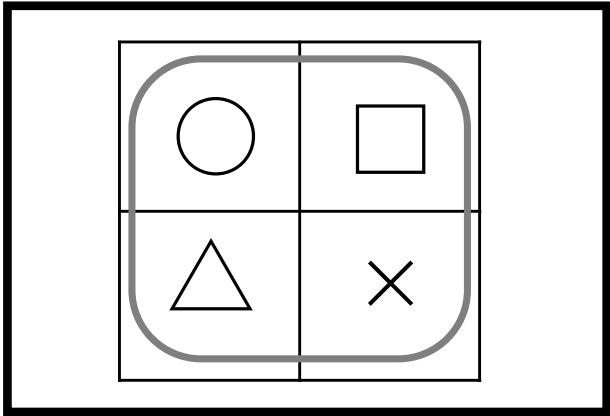
左の大きな部屋の中から、右のお手本のように同じ形が縦に二つ並んでいるところを探し、線で囲みましょう。

×	×	○	○	△	□
×	△	×	□	×	○
△	×	□	△	□	○
△	○	×	○	□	□
○	○	□	△	×	○
×	△	□	□	△	△

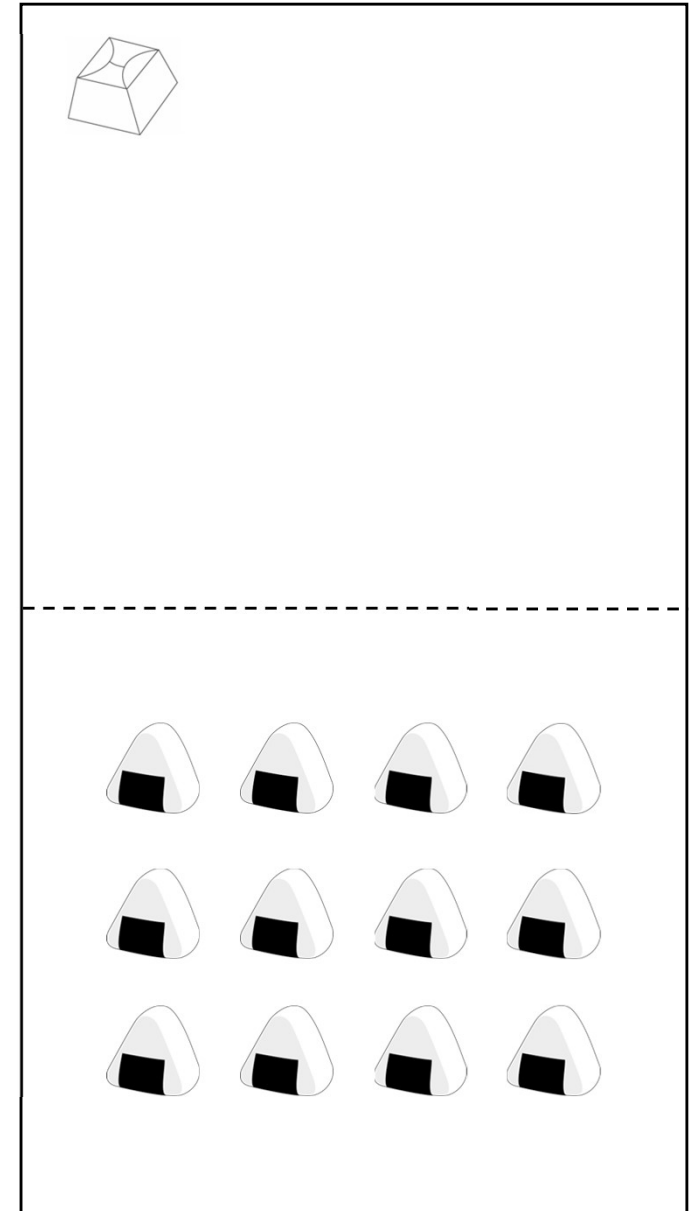
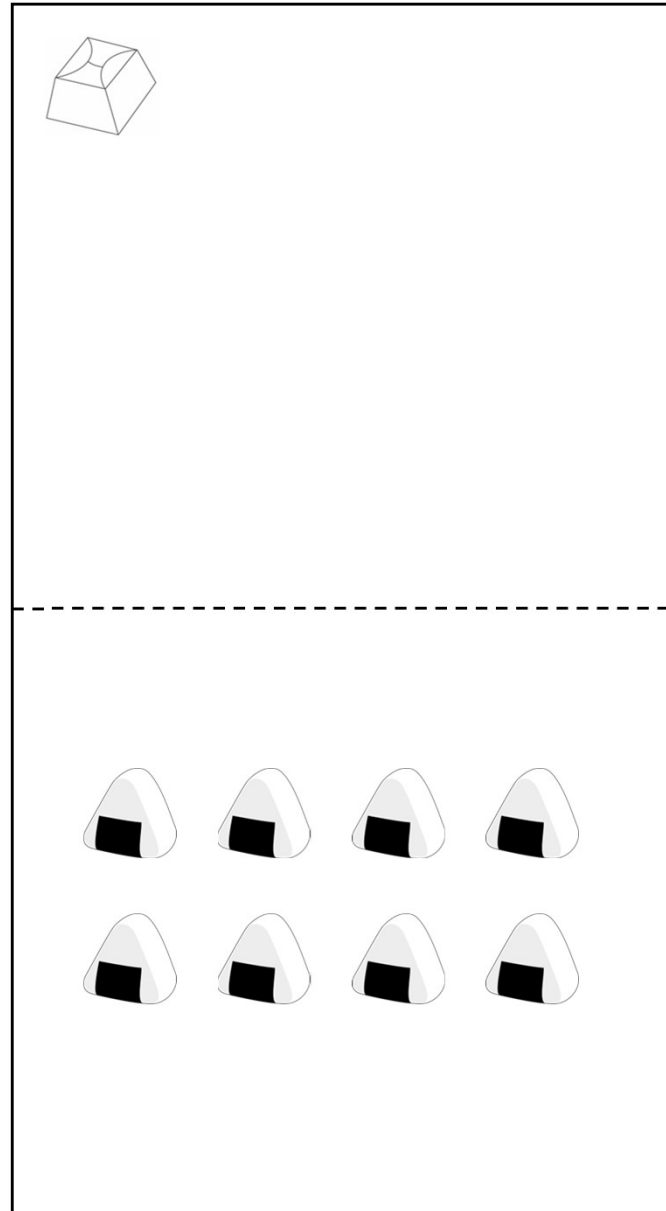
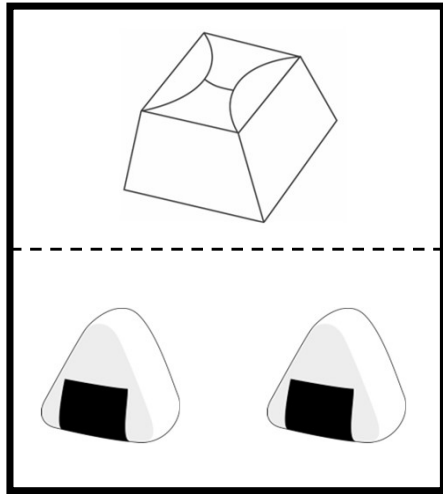


左の大きな部屋の中から、右のお手本のように形が並んでいるところを探し、線で囲みましょう。

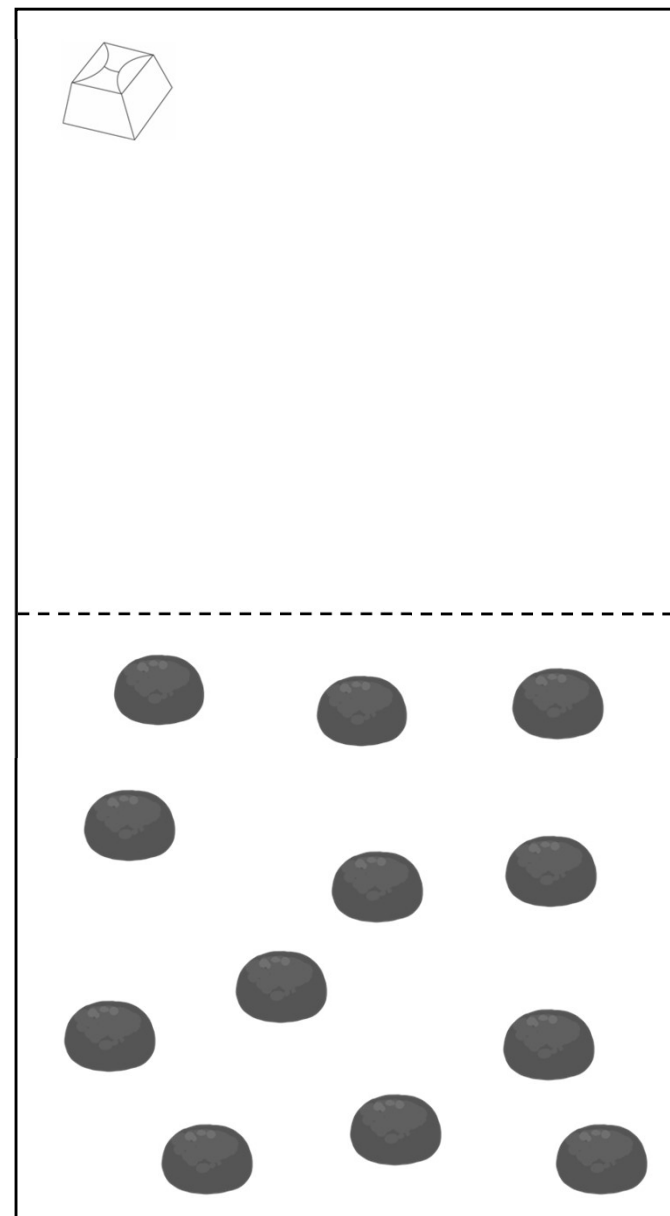
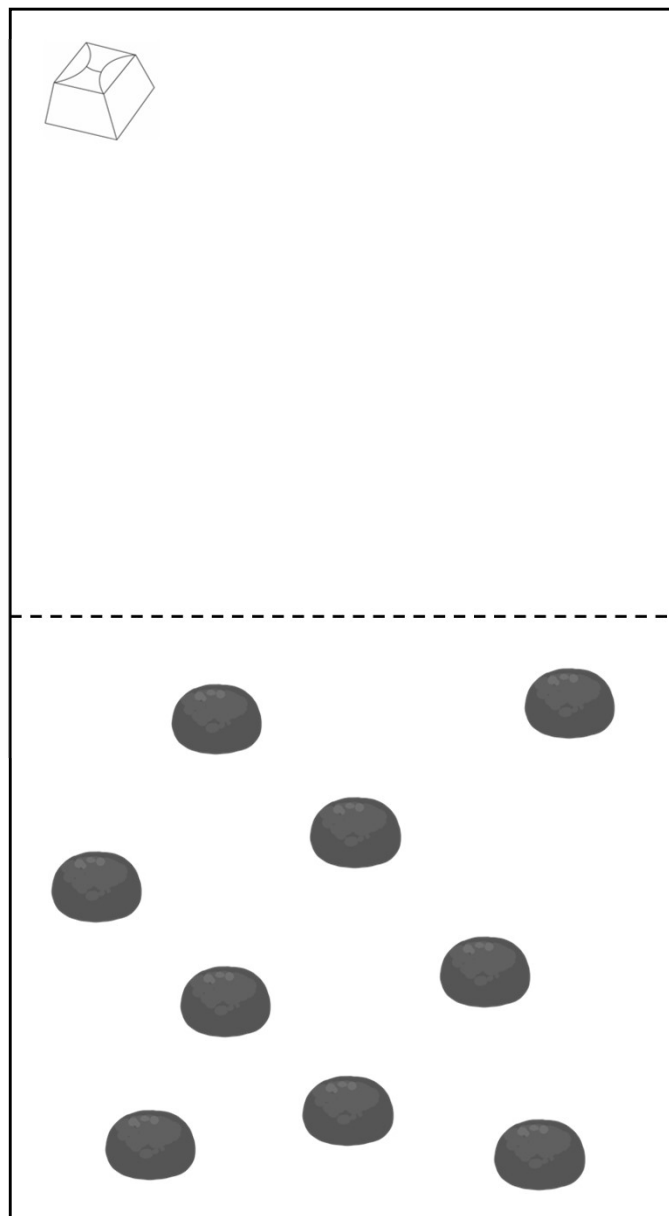
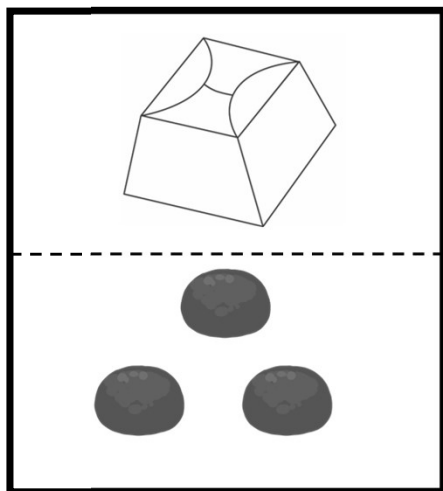
×	×	○	△	×	○	○	△	□
×	△	×	□	△	△	□	×	○
×	×	△	○	□	□	○	○	□
△	□	○	△	×	□	×	×	○
○	□	□	△	○	×	×	△	×
△	×	□	□	×	○	△	□	○
△	○	×	○	○	△	○	□	□
○	○	□	△	□	○	△	×	○
×	△	□	○	□	□	□	△	△



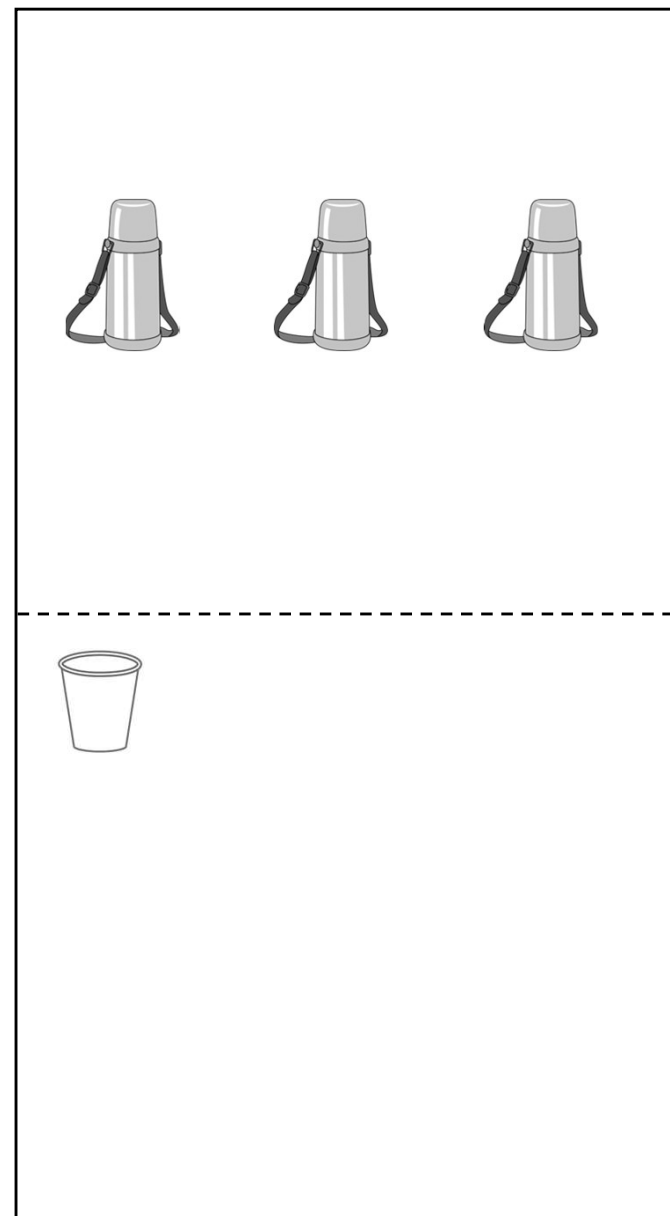
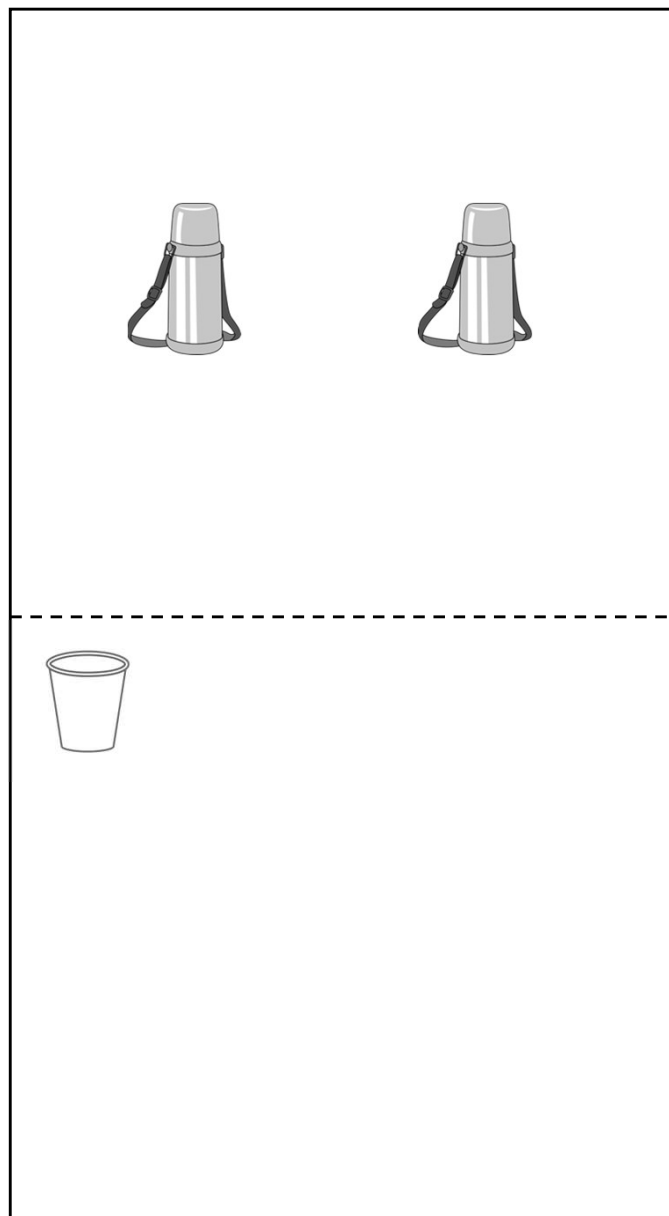
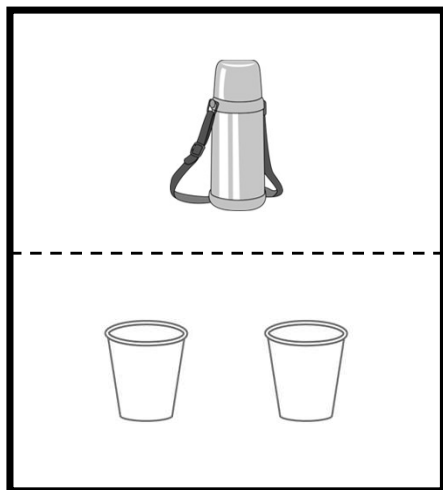
左のお手本のように、おにぎり二個を一つの箱に詰めます。それぞれのお部屋の下にある数だけおにぎりを箱に詰めていくと、箱はいくついきますか。その数だけ、箱のお部屋に丸を描きましょう。




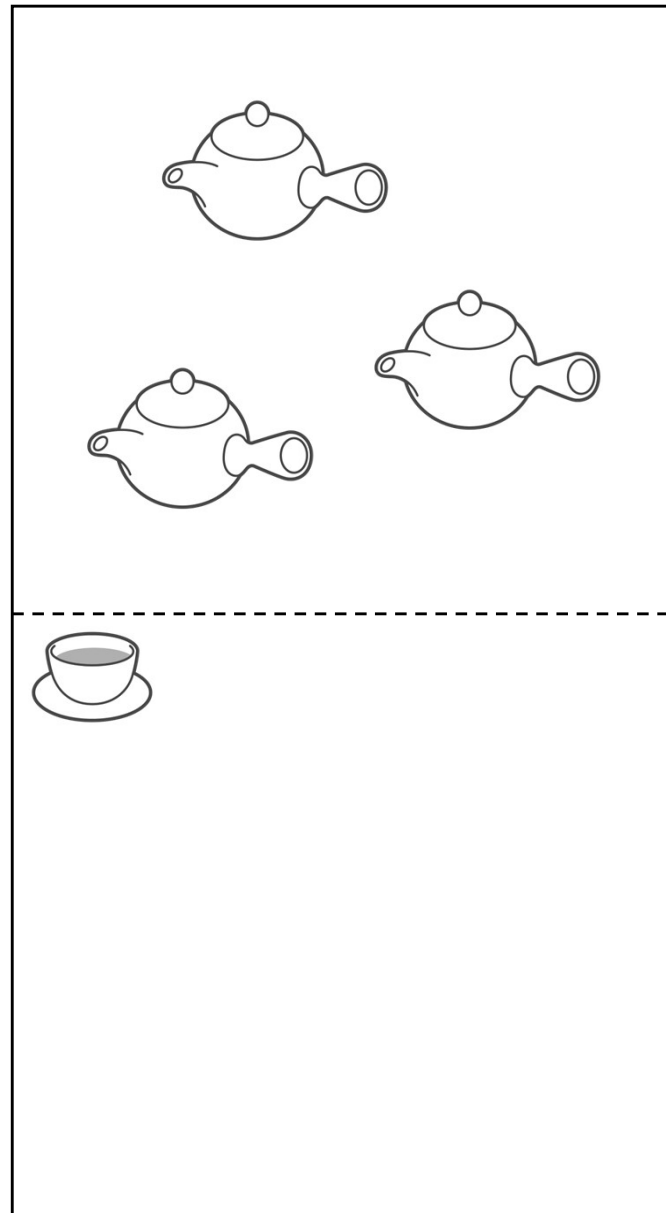
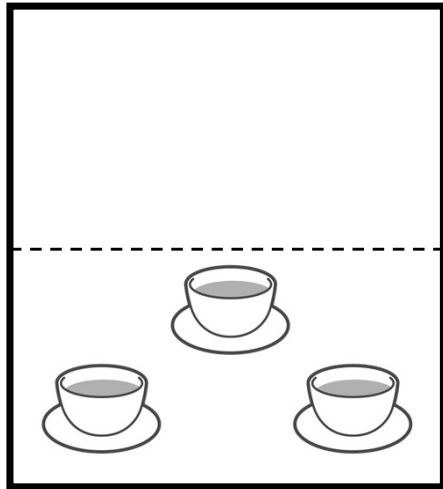
左のお手本のように、おまんじゅう三個を一つの箱に詰めます。それぞれのお部屋にある数だけおまんじゅうを箱に詰めていくと、箱はいくつになりますか。その数だけ、箱のお部屋に丸を描きましょう。



水筒一つには、コップ2杯分のお水が入っています。それぞれのお部屋にある数だけ、水筒があるとき、コップ何杯分の水がありますか。その数だけ、コップのお部屋に丸を描きましょう。






急須一つには、湯呑み3杯分のお茶が入っています。それぞれのお部屋にある数だけ、急須があるとき、湯飲みいくつ分のお茶がありますか。その数だけ、湯呑みのお部屋に丸を描きましょう。






(置き換え 3 つ、お手本の左から順に指示、お手本とは重複しない図形への置き換え、時間制限15秒)




左側のお部屋の、丸を三角、星をバツ、ハートを四角に変えて、右のお部屋に描きましょう。

左側のお部屋の、ハートをバツ、丸を四角、星を三角に変えて、右のお部屋に描きましょう。

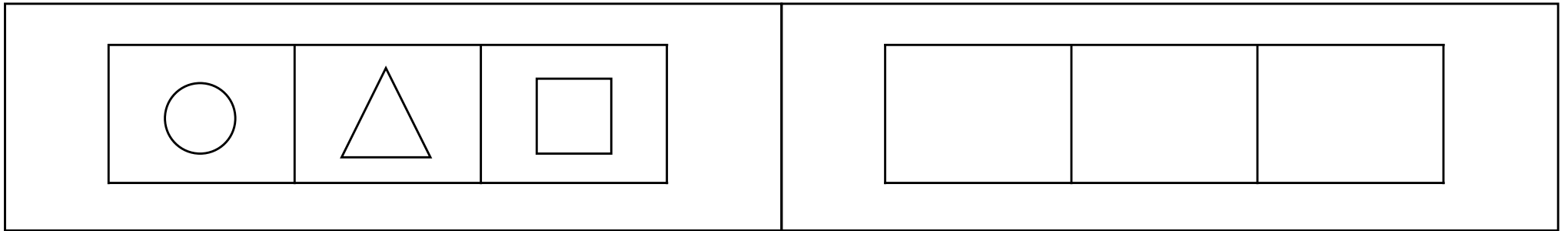
		

左側のお部屋の、星を三角、丸をバツ、ハートを四角に変えて、右のお部屋に描きましょう。

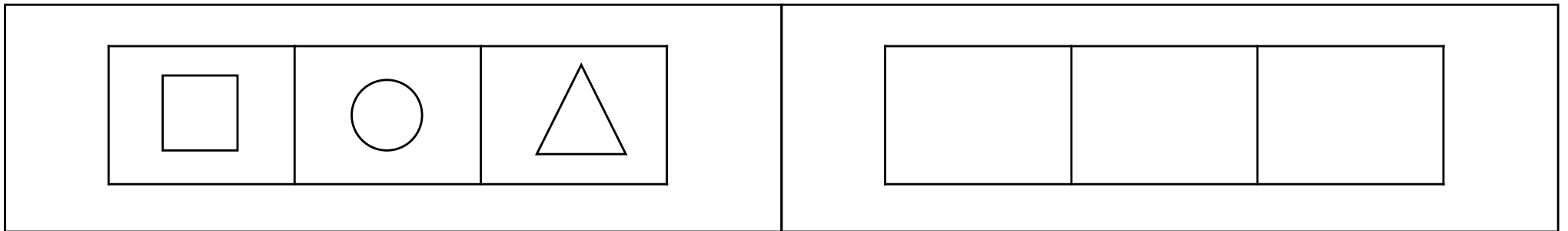
		

(置き換え 3 つ、お手本の左から順に指示、お手本と重複する図形への置き換え、時間制限15秒)

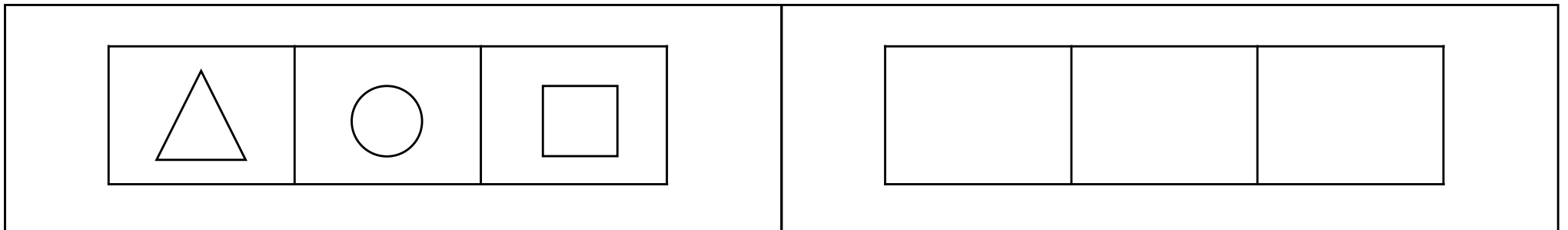
左側のお部屋の、丸を三角、三角を四角、四角を丸に変えて、右のお部屋に描きましょう。



左側のお部屋の、四角を三角、丸を四角、三角を丸に変えて、右のお部屋に描きましょう。






左側のお部屋の、三角を四角、丸を三角、四角を丸に変えて、右のお部屋に描きましょう。






(置き換え 3 つ、お手本の順とは別の順で指示、お手本とは重複しない図形への置き換え、時間制限15秒)




左側のお部屋の、星をバツ、丸を三角、ハートを四角に変えて、右のお部屋に描きましょう。

左側のお部屋の、星を三角、丸を四角、ハートをバツに変えて、右のお部屋に描きましょう。

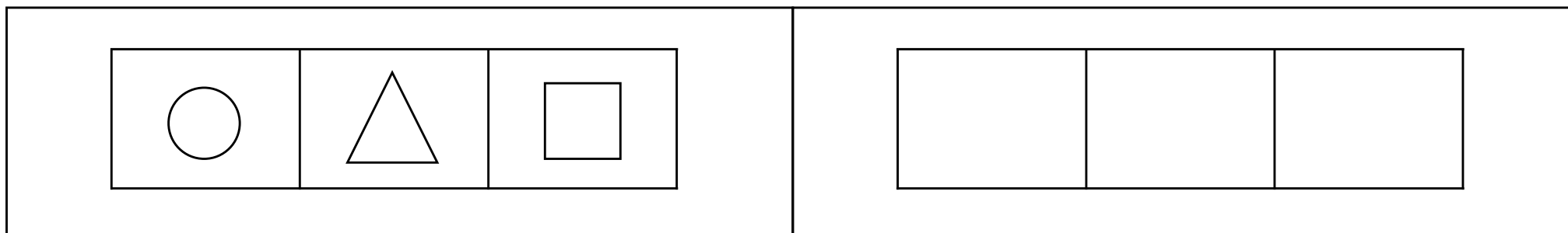
		

左側のお部屋の、丸をバツ、星を三角、ハートを四角に変えて、右のお部屋に描きましょう。

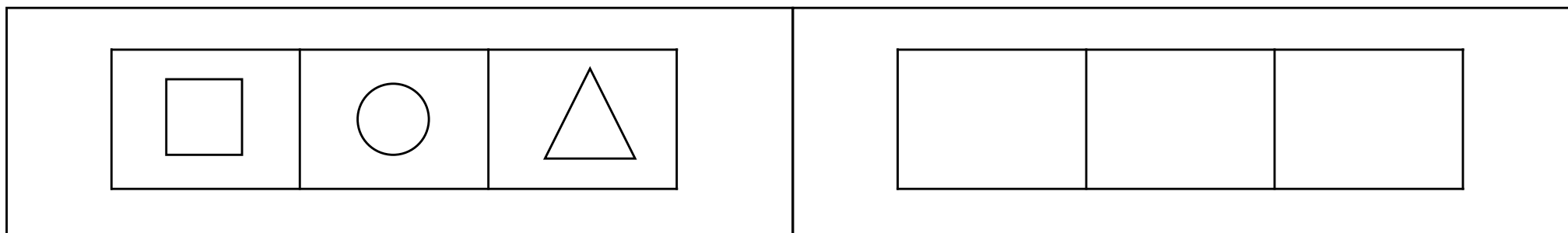
		

(置き換え 3 つ、お手本の順とは別の順で指示、お手本と重複する図形への置き換え、時間制限15秒)

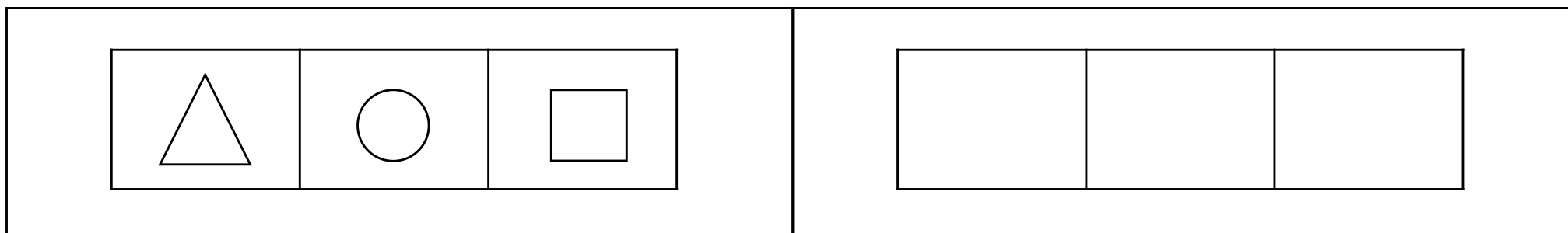
左側のお部屋の、三角を四角、丸を三角、四角を丸に変えて、右のお部屋に描きましょう。



左側のお部屋の、三角を丸、丸を四角、四角を三角に変えて、右のお部屋に描きましょう。







左側のお部屋の、丸を三角、三角を四角、四角を丸に変えて、右のお部屋に描きましょう。







(置き換え 4 つ、お手本の左から順に指示、お手本とは重複しない図形への置き換え、時間制限20秒)





左側のお部屋の、丸を三角、星をバツ、ハートを四角、雲を二重丸に変えて、右のお部屋に描きましょう。

							
---	---	---	---	--	--	--	--

左側のお部屋の、ハートをバツ、丸を二重丸、雲をバツ、星を三角に変えて、右のお部屋に描きましょう。





							
---	---	---	---	--	--	--	--

左側のお部屋の、星を三角、雲を四角、丸をバツ、ハートを二重丸に変えて、右のお部屋に描きましょう。





							
---	---	---	---	--	--	--	--

(置き換え 4 つ、お手本の左から順に指示、お手本と重複する図形への置き換え、時間制限20秒)

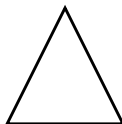



左側のお部屋の、丸を三角、三角を四角、四角を菱形、菱形を丸に変えて、右のお部屋に描きましょう。

左側のお部屋の、四角を三角、丸を菱形、菱形を三角、三角を丸に変えて、右のお部屋に描きましょう。





			

左側のお部屋の、三角を丸、菱形を四角、丸を菱形、四角を三角に変えて、右のお部屋に描きましょう。





			

(置き換え 4 つ、お手本の順とは別の順で指示、お手本とは重複しない図形への置き換え、時間制限20秒)





左側のお部屋の、星をバツ、丸を三角、雲を二重丸、ハートを四角に変えて、右のお部屋に描きましょう。

							
---	---	---	---	--	--	--	--

左側のお部屋の、雲を二重丸、星を三角、丸を四角、ハートをバツに変えて、右のお部屋に描きましょう。





							
---	---	---	---	--	--	--	--

左側のお部屋の、丸をバツ、星を三角、ハートを四角、雲を二重丸に変えて、右のお部屋に描きましょう。





							
---	---	---	---	--	--	--	--

(置き換え 4 つ、お手本の順とは別の順で指示、お手本と重複する図形への置き換え、時間制限20秒)





左側のお部屋の、三角を四角、丸を三角、菱形を丸、四角を菱形に変えて、右のお部屋に描きましょう。

左側のお部屋の、三角を丸、丸を四角、菱形を三角、四角を菱形に変えて、右のお部屋に描きましょう。






			

左側のお部屋の、丸を三角、三角を四角、菱形を丸、四角を菱形に変えて、右のお部屋に描きましょう。






			

(置き換え5つ、お手本の左から順に指示、お手本とは重複しない図形への置き換え、時間制限25秒)






左側のお部屋の、丸を三角、星をバツ、ハートを四角、雲を二重丸、太陽を菱形に変えて、右のお部屋に描きましょう。

									
---	---	---	---	---	--	--	--	--	--

左側のお部屋の、ハートをバツ、太陽を三角、丸を二重丸、雲をバツ、星を菱形に変えて、右のお部屋に描きましょう。

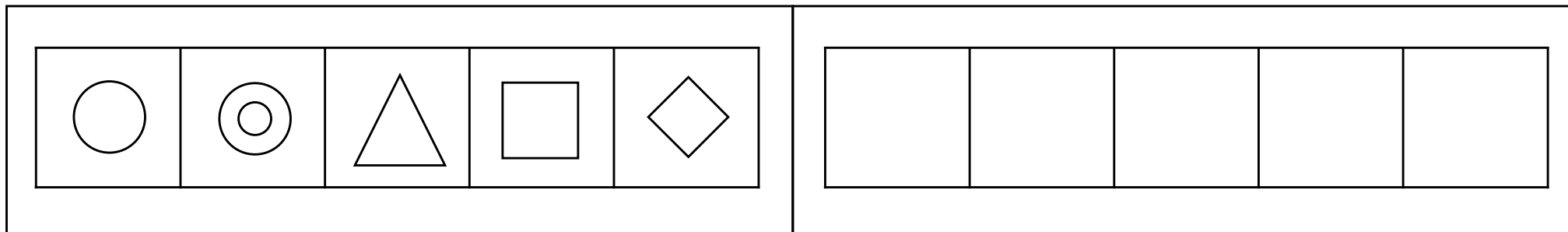
									
---	---	---	---	--	--	--	--	--	--

左側のお部屋の、星を三角、雲を四角、丸を菱形、太陽をバツ、ハートを二重丸に変えて、右のお部屋に描きましょう。

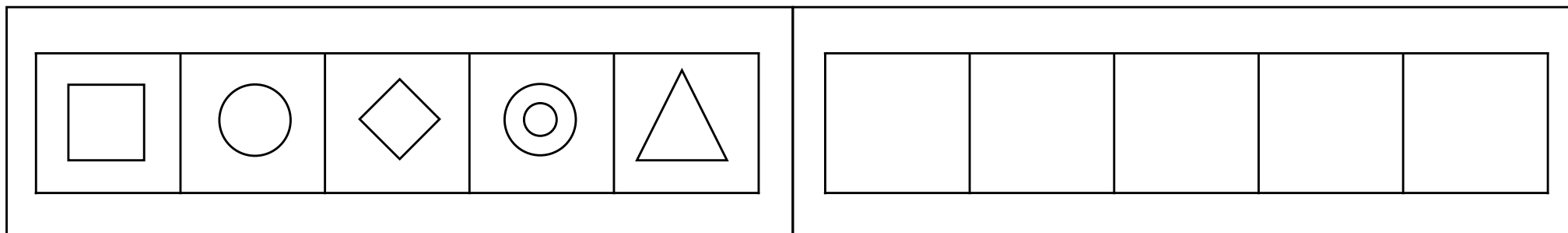
									
---	---	---	---	---	--	--	--	--	--

(置き換え 5 つ、お手本の左から順に指示、お手本と重複する図形への置き換え、時間制限25秒)

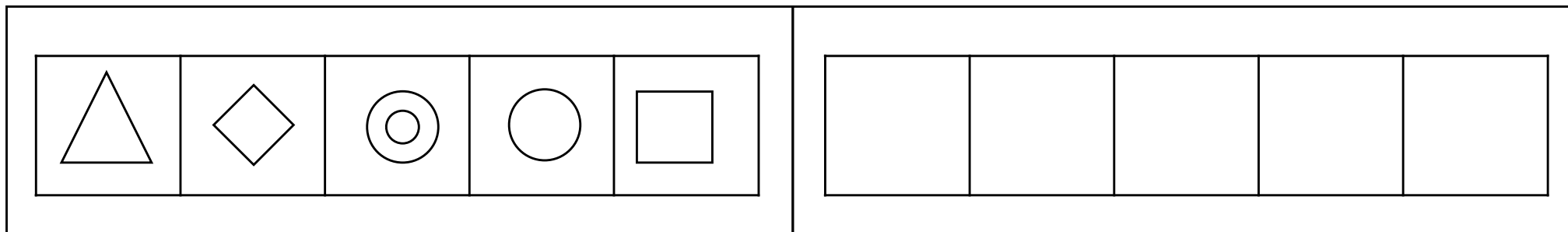
左側のお部屋の、丸を三角、二重丸を四角、三角を菱形、四角を丸、菱形を二重丸に変えて、右のお部屋に描きましょう。



左側のお部屋の、四角を二重丸、丸を三角、菱形を四角、二重丸を丸、三角を菱形に変えて、右のお部屋に描きましょう。








左側のお部屋の、三角を丸、菱形を四角、二重丸を三角、丸を菱形、四角を二重丸に変えて、右のお部屋に描きましょう。








(置き換え 4 つ、お手本の順とは別の順で指示、お手本とは重複しない図形への置き換え、時間制限25秒)






左側のお部屋の、星をバツ、丸を三角、太陽を菱形、雲を二重丸、ハートを四角に変えて、右のお部屋に描きましょう。

									
---	---	---	---	--	--	--	--	--	--

左側のお部屋の、雲を二重丸、星を三角、丸をバツ、ハートを菱形、太陽を四角に変えて、右のお部屋に描きましょう。

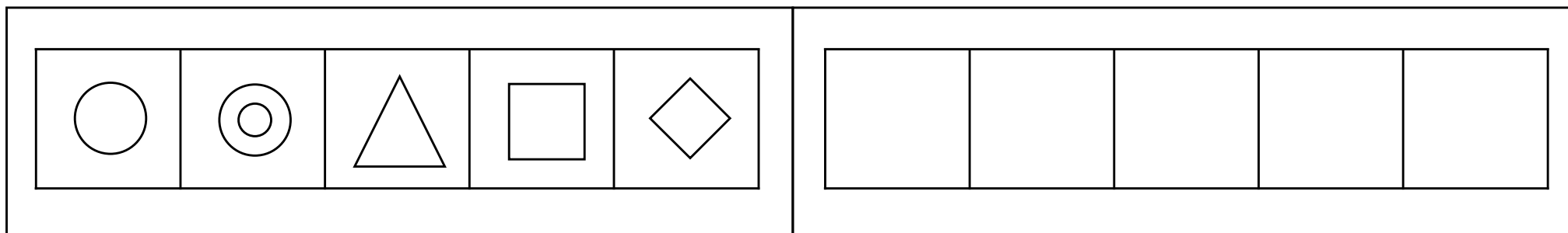
									
---	---	---	---	--	--	--	--	--	--

左側のお部屋の、太陽を三角、丸をバツ、星を菱形、ハートを四角、雲を二重丸に変えて、右のお部屋に描きましょう。

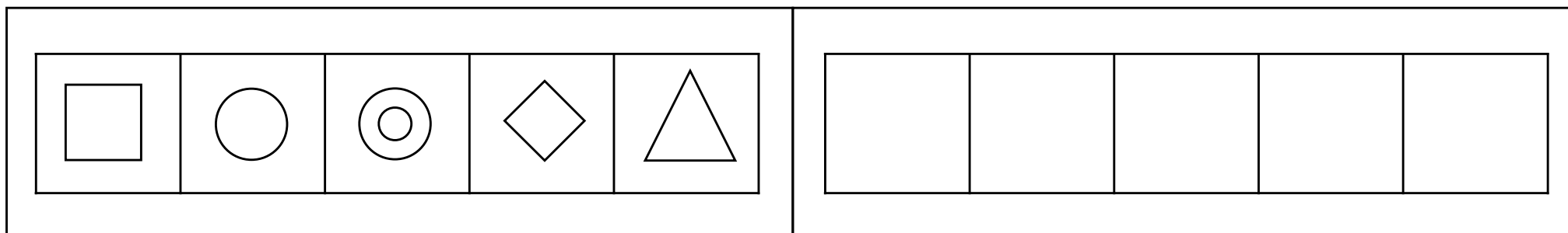
									
---	---	---	---	---	--	--	--	--	--

(置き換え 4 つ、お手本の順とは別の順で指示、お手本と重複する図形への置き換え、時間制限25秒)

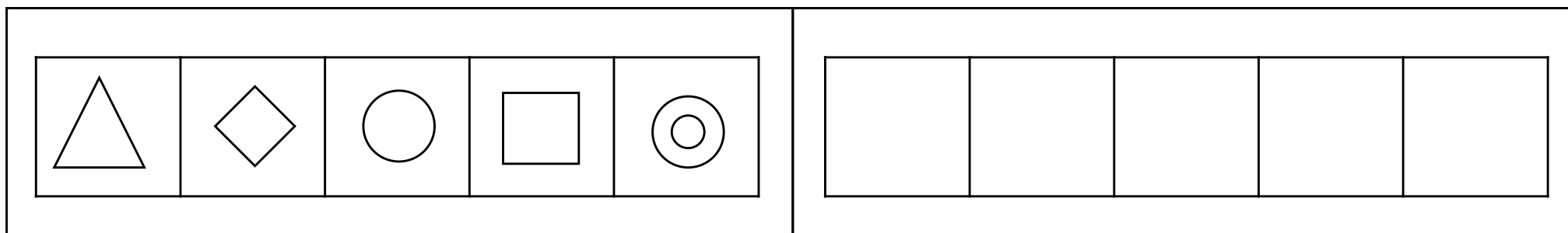
左側のお部屋の、三角を二重丸、二重丸を四角、丸を三角、菱形を丸、四角を菱形に変えて、右のお部屋に描きましょう。



左側のお部屋の、三角を丸、丸を二重丸、菱形を三角、二重丸を四角、四角を菱形に変えて、右のお部屋に描きましょう。



左側のお部屋の、丸を三角、二重丸を四角、三角を二重丸、菱形を丸、四角を菱形に変えて、右のお部屋に描きましょう。



お部屋の中に形が並んでいます。黒い矢印の前と後では、元々白い三角だった形が黒い丸に変わり、その他の形は変わりません。その後、白い矢印の前と後では形は変わらずに、全部の形の色が白に変わります。空いているところに正しい形を描きましょう。

