

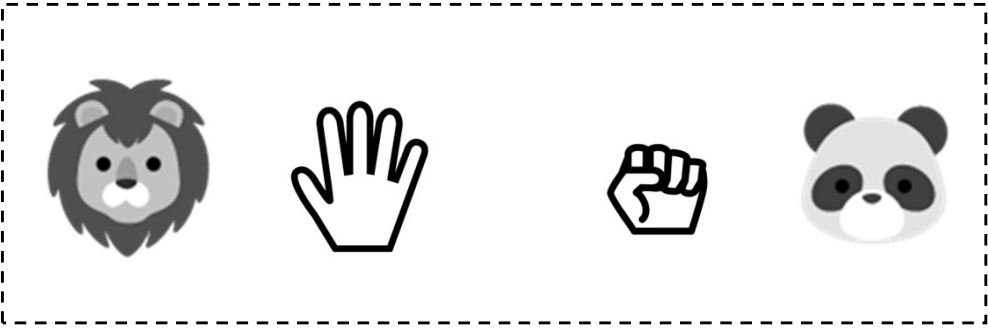




# 関係推理

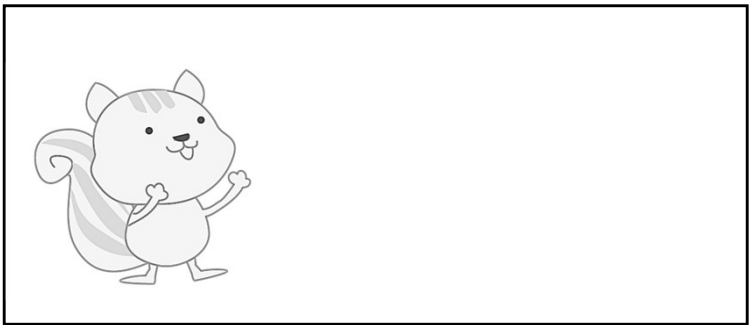


## 3 4 関係推理








動物たちがじゃんけんをしました。一番勝った動物に丸、二番目に三角、三番目に×を描きましょう。









動物たちが競走をしました。一番早かった動物に丸、二番目に三角、三番目に×を描きましょう。



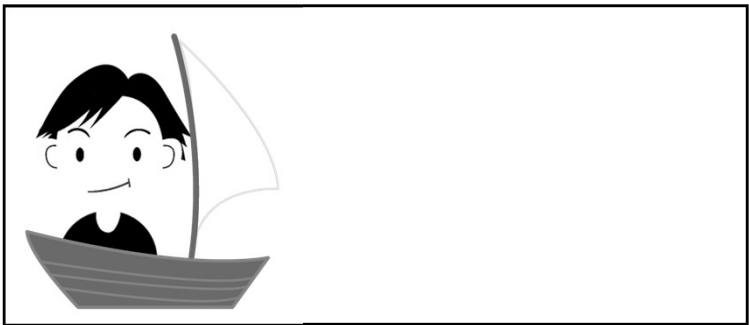


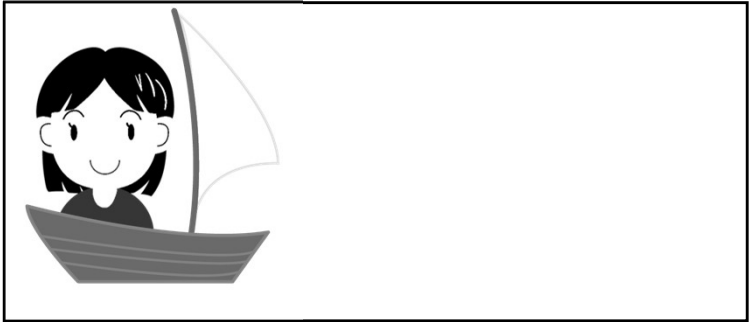

動物たちが競走をしました。一番早かった動物に丸、二番目に三角、三番目に×を描きましょう。





車が競走をしました。一番早かった車に丸、二番目に三角、三番目に×を描きましょう。






3 人が船で競争をしました。一番早かった人に丸、二番目に三角、三番目に×を描きましょう。



二枚の写真があります。この写真を見て、一番背の高い人に丸、二番目に三角、三番目に×を描きましょう。







二枚の写真があります。この写真を見て、一番背の高い人に丸、二番目に三角、三番目に×を描きましょう。


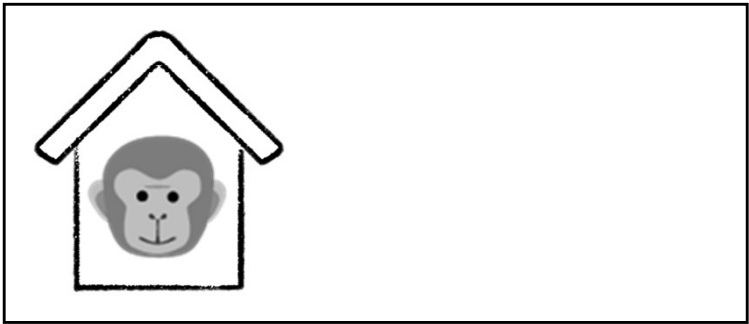







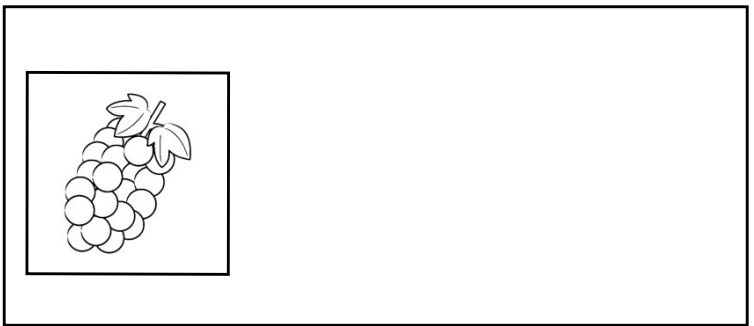
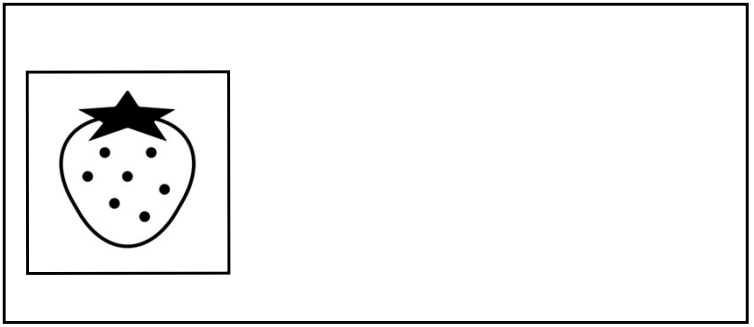
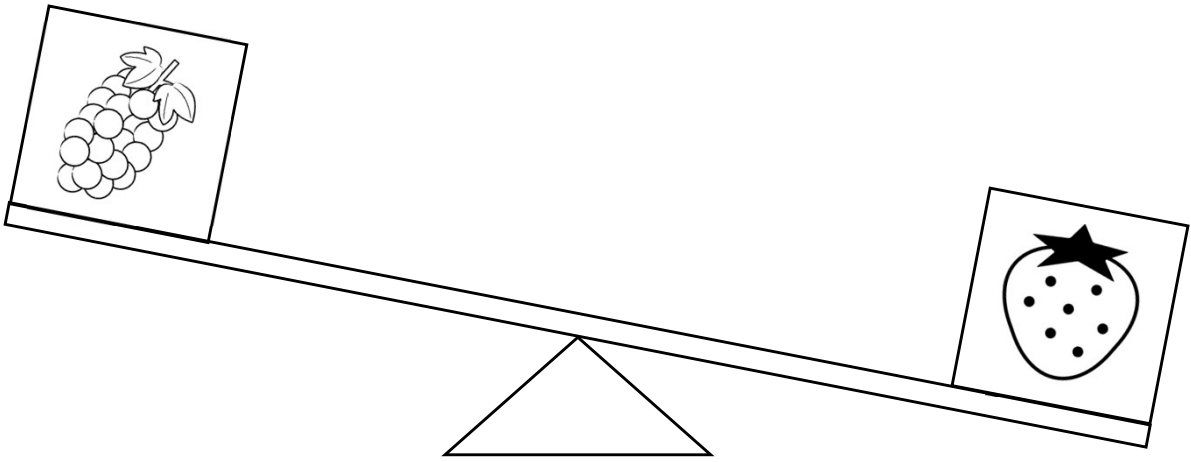
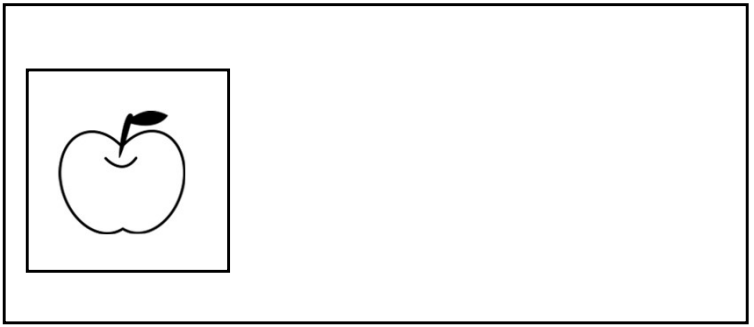
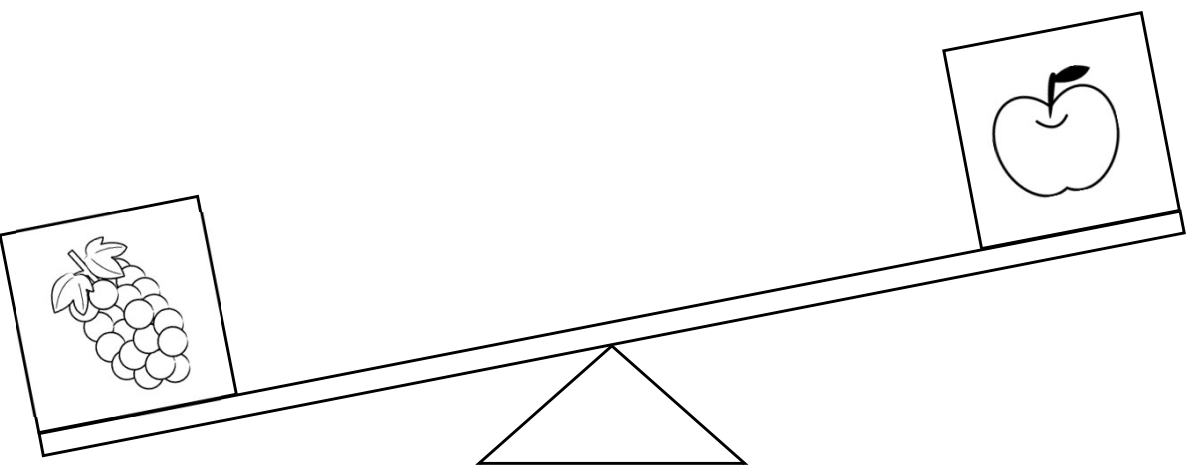
二枚の写真があります。この写真を見て、一番縄の長い人に丸、二番目に三角、三番目に×を描きましょう。



二枚の写真があります。この写真を見て、一番大きい家に丸、二番目に三角、三番目に×を描きましょう。



三つの箱の重さを比べました。一番重い箱に丸、二番目に三角、三番目に×を描きましょう。




動物たちが並んでいます。  
象は、しまうまの前にいます。  
ライオンは、しまうまの後ろにいます。

一番前にいる動物に丸、真ん中にある動物に三角、一番後ろにいる動物に四角を描きましょう。（象、縞馬、獅子）



動物たちが並んでいます。  
キツネの後ろには、誰もいません。  
狸の前には、誰もいません。

一番前にいる動物に丸、真ん中にある動物に三角、一番後ろにいる動物に四角を描きましょう。（狸、兎、狐）




動物たちが並んでいます。  
シマウマは、ライオンの2つ前にいます。  
ゾウは、しまうまの後ろにいます。

一番前にいる動物に丸、真ん中にいる動物に三角、一番後ろにいる動物に四角を描きましょう。  
(縞馬、象、獅子)



動物たちが並んでいます。  
タヌキは、キツネの2つ後ろにいます。  
ウサギは、タヌキの前にいます。

一番前にいる動物に丸、真ん中にいる動物に三角、一番後ろにいる動物に四角を描きましょう。  
(狐、兎、狸)



動物たちが並んでいます。  
ゾウは、ライオンのすぐ前にいます。  
トラは、シマウマのすぐ前にいます。  
シマウマは、ゾウのすぐ前にいます。

一番前にいる動物に丸、前から二番目に  
いる動物に三角、前から三番目にいる動  
物に四角、一番後ろにいる動物に×を描  
きましょう。（虎、縞馬、象、獅子）



動物たちが並んでいます。  
タヌキは、キツネのすぐ後ろにいます。  
クマは、ウサギのすぐ後ろにいます。  
キツネは、クマのすぐ後ろにいます。

一番前にいる動物に丸、前から二番目に  
いる動物に三角、前から三番目にいる動  
物に四角、一番後ろにいる動物に×を描  
きましょう。（兎、熊、狐、狸）



動物たちが並んでいます。

トラは、シマウマの2つ前にいます。

ゾウは、ライオンの2つ前にいます。

ゾウは、シマウマのすぐ前にいます。

一番前にいる動物に丸、前から二番目に  
いる動物に三角、前から三番目にいる動  
物に四角、一番後ろにいる動物に×を描  
きましょう。（虎、象、縞馬、獅子）



動物たちが並んでいます。

クマは、ウサギの2つ後ろにいます。

タヌキは、キツネの2つ後ろにいます。

クマは、キツネのすぐ後ろにいます。

一番前にいる動物に丸、前から二番目に  
いる動物に三角、前から三番目にいる動  
物に四角、一番後ろにいる動物に×を描  
きましょう。（兎、狐、熊、狸）



動物たちが並んでいます。  
ライオンは、ゾウよりも前の方にいます。  
トラは、シマウマのすぐ前にいます。  
ライオンは、トラのすぐ前にいます。

一番前にいる動物に丸、前から二番目にいる動物に三角、前から三番目にいる動物に四角、一番後ろにいる動物に×を描きましょう。（獅子、虎、縞馬、象）



動物たちが並んでいます。  
クマは、タヌキの後ろの方にいます。  
ウサギは、キツネのすぐ後ろにいます。  
クマは、ウサギのすぐ後ろにいます。


一番前にいる動物に丸、前から二番目にいる動物に三角、前から三番目にいる動物に四角、一番後ろにいる動物に×を描きましょう。（狸、狐、兎、熊）






動物たちが並んでいます。  
シマウマは、トラの後ろにはいません。  
ライオンは、シマウマの2つ後ろにいます。  
ゾウは、一番後ろにいます。

一番前にいる動物に丸、前から二番目にいる動物に三角、前から三番目にいる動物に四角、一番後ろにいる動物に×を描きましょう。（縞馬、虎、獅子、象）



動物たちが並んでいます。  
クマは、タヌキの前にはいません。  
ウサギは、クマの2つ前にいます。  
キツネは、一番前にいます。

一番前にいる動物に丸、前から二番目にいる動物に三角、前から三番目にいる動物に四角、一番後ろにいる動物に×を描きましょう。（狐、兎、狸、熊）



動物たちが駆けっこをしたあと、勝ち負けについて話しています。

ライオンは「ぼくは、パンダには勝ったけど、犬には負けたよ」と言っています。

1位の動物に丸、2位の動物に三角、3位の動物に×を描きましょう。

(犬、獅子、熊猫)



動物たちが駆けっこをしたあと、勝ち負けについて話しています。

ウサギは「ぼくは、ネズミには勝ったけど、猫には負けたよ」と言っています。

1位の動物に丸、2位の動物に三角、3位の動物に×を描きましょう。

(猫、兎、鼠)



動物たちが駆けっこをしたあと、勝ち負けについて話しています。

ウサギは「ぼくは、犬には負けたけど、ネズミには勝ったよ」と言っています。

1位の動物に丸、2位の動物に三角、3位の動物に×を描きましょう。

(犬、兎、鼠)



動物たちが駆けっこをしたあと、勝ち負けについて話しています。

ライオンは「ぼくは、猫には負けたけど、パンダには勝ったよ」と言っています。

1位の動物に丸、2位の動物に三角、3位の動物に×を描きましょう。

(猫、獅子、熊猫)



動物たちが駆けっこをしたあと、勝ち負けについて話しています。

猫は「ぼくは兎には勝ったよ」と言っています。

ライオンは、「ぼくは兎には負けたよ」と言っています。

1位の動物に丸、2位の動物に三角、3位の動物に×を描きましょう。

(猫、兎、獅子)



動物たちが駆けっこをしたあと、勝ち負けについて話しています。

犬は「ぼくは鼠には勝ったよ」と言っています。

パンダは、「ぼくは鼠には負けたよ」と言っています。

1位の動物に丸、2位の動物に三角、3位の動物に×を描きましょう。

(犬、鼠、熊貓)



動物たちが駆けっこをしたあと、勝ち負けについて話しています。

パンダは「ぼくは猫には負けたよ」と言っています。

ネズミは、「ぼくは猫には勝ったよ」と言っています。

1位の動物に丸、2位の動物に三角、3位の動物に×を描きましょう。

(鼠、猫、熊猫)



動物たちが駆けっこをしたあと、勝ち負けについて話しています。

犬は「ぼくはライオンには負けたよ」と言っています。

ウサギは、「ぼくはライオンには勝ったよ」と言っています。

1位の動物に丸、2位の動物に三角、3位の動物に×を描きましょう。

(兎、獅子、犬)



動物たちが駆けっこをしたあと、勝ち負けについて話しています。

ネズミは「ぼくは、猫には勝ったけど、1位ではなかったよ」と言っています。

1位の動物に丸、2位の動物に三角、3位の動物に×を描きましょう。

(兎、鼠、猫)



動物たちが駆けっこをしたあと、勝ち負けについて話しています。

パンダは「ぼくは、ライオンには勝ったけど、1位ではなかったよ」と言っています。

1位の動物に丸、2位の動物に三角、3位の動物に×を描きましょう。

(犬、熊猫、獅子)



動物たちが駆けっこをしたあと、勝ち負けについて話しています。

パンダは「ぼくは、ライオンには負けたけど、ビリではなかったよ」と言っています。

1位の動物に丸、2位の動物に三角、3位の動物に×を描きましょう。

(獅子、熊猫、猫)



動物たちが駆けっこをしたあと、勝ち負けについて話しています。

ウサギは「ぼくは、犬には負けたけど、ビリではなかったよ」と言っています。

1位の動物に丸、2位の動物に三角、3位の動物に×を描きましょう。

(犬、兔、鼠)



動物たちが駆けっこをしたあと、勝ち負けについて話しています。

ウサギは「ぼくは誰にも負けなかったよ」と言っています。

犬は「ぼくは誰にも勝てなかったよ」と言っています。

猫は「ぼくはライオンにも勝ったよ」と言っています。

1位の動物に丸、2位の動物に三角、3位の動物に四角、4位の動物に×を描きましょう。

(兎、猫、獅子、犬)

動物たちが駆けっこをしたあと、勝ち負けについて話しています。

鼠は「ぼくは誰にも負けなかったよ」と言っています。

ライオンは「ぼくは誰にも勝てなかったよ」と言っています。

ウサギは「ぼくはパンダにも勝ったよ」と言っています。

1位の動物に丸、2位の動物に三角、3位の動物に四角、4位の動物に×を描きましょう。

(鼠、兎、熊猫、獅子)





動物たちが駆けっこをしたあと、勝ち負けについて話しています。  
ネズミは「ぼくより速い動物は一匹だけだよ」と言っています。  
ライオンは「ぼくより遅い動物は一匹だけだよ」と言っています。  
ウサギは「ぼくより速い動物は三匹もいたよ」と言っています。  
1位の動物に丸、2位の動物に三角、3位の動物に四角、4位の動物に×を描きましょう。  
(犬、鼠、獅子、兎)



動物たちが駆けっこをしたあと、勝ち負けについて話しています。  
パンダは「ぼくより速い動物は一匹だけだよ」と言っています。  
猫は「ぼくより遅い動物は一匹だけだよ」と言っています。  
ライオンは「ぼくより速い動物は三匹もいたよ」と言っています。  
1位の動物に丸、2位の動物に三角、3位の動物に四角、4位の動物に×を描きましょう。  
(兎、熊猫、猫、獅子)

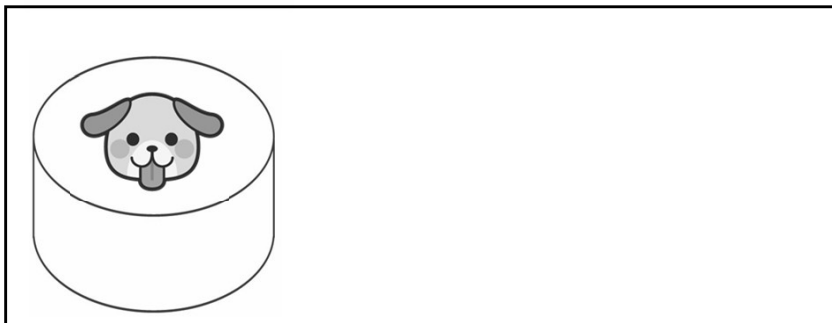
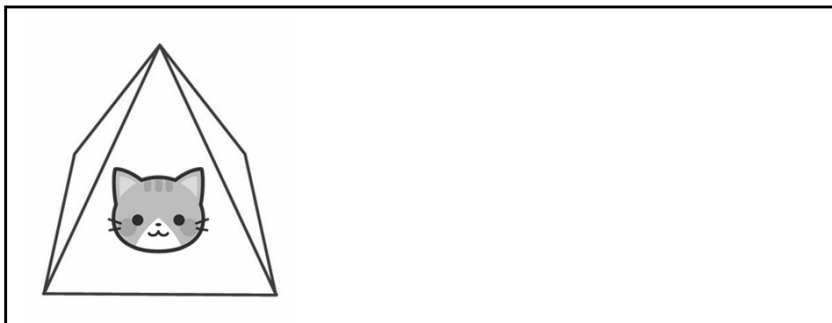
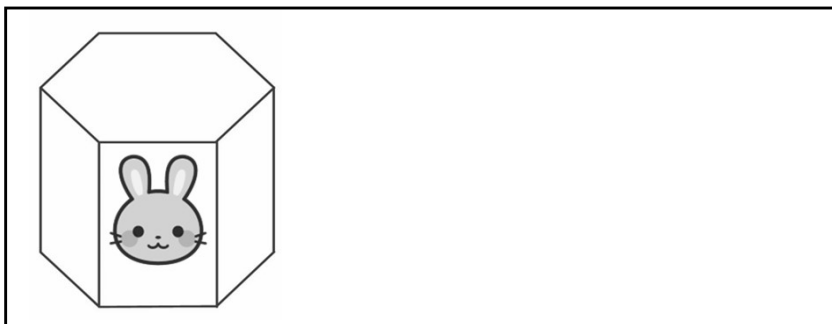


大きさの違う箱がいくつかあるので、箱の中に箱を入れていきます。

猫の箱のひとつ中に、うさぎの箱を入れます。

うさぎの箱のひとつ中に、犬の箱を入れます。

一番外側の箱に丸、二番目の箱に三角、一番内側の箱に×を描きましょう。（猫、兎、犬）

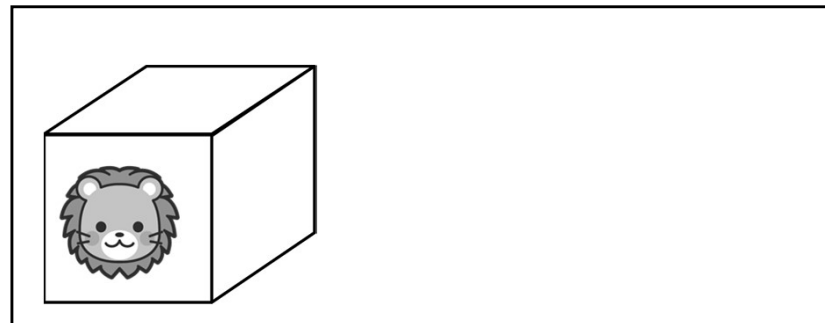
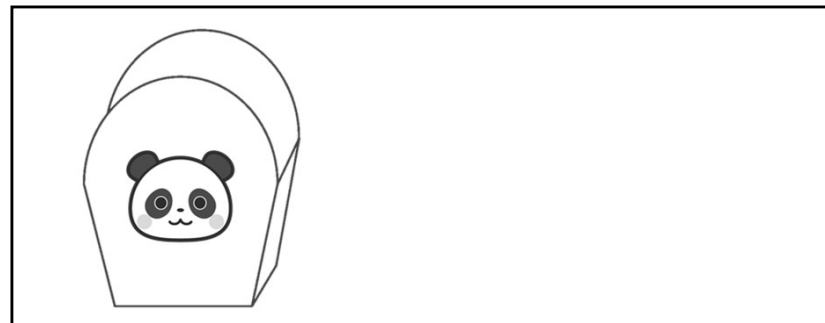
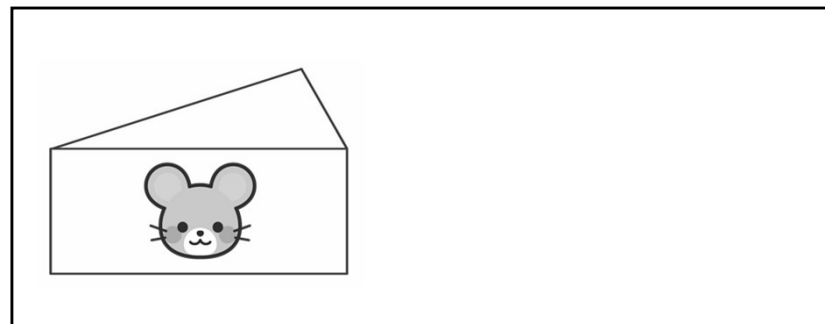


大きさの違う箱がいくつかあるので、箱の中に箱を入れていきます。

パンダの箱のひとつ中に、ネズミの箱を入れます。

ネズミの箱のひとつ中に、ライオンの箱を入れます。

一番外側の箱に丸、二番目の箱に三角、一番内側の箱に×を描きましょう。（熊猫、鼠、獅子）

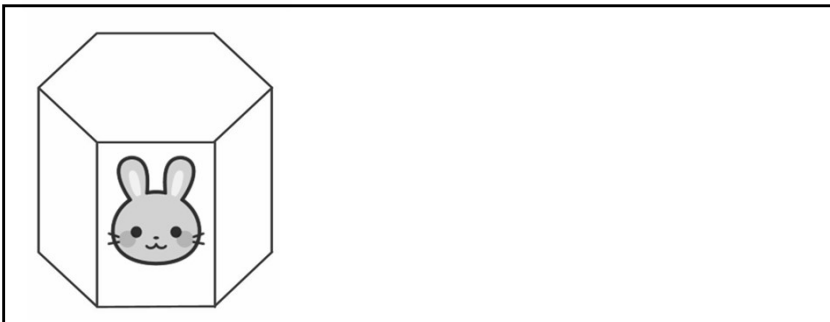

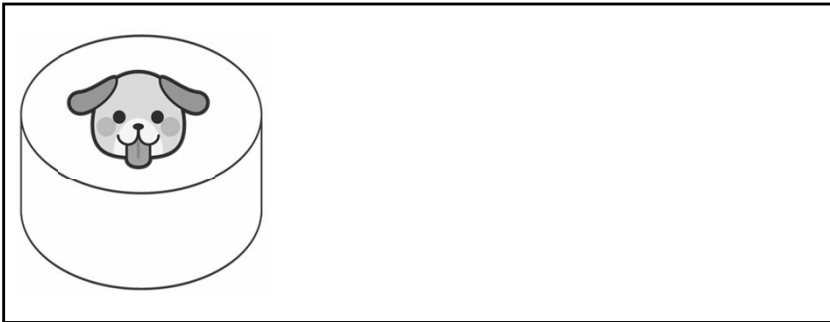


大ききの違ふ箱がいくつあるのて、箱の中に箱を入ていきます。

猫の箱は、犬の箱のひとつ中にあります。

犬の箱は、ウサギの箱のひとつ中にあります。

一番外側の箱に丸、二番目の箱に三角、一番内側の箱に×を描きましよう。（兎、犬、猫）

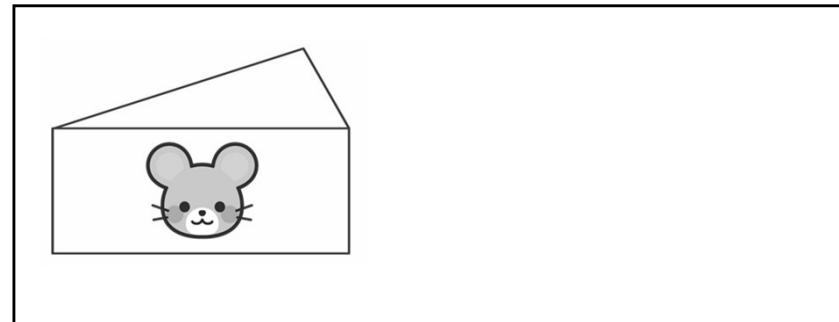
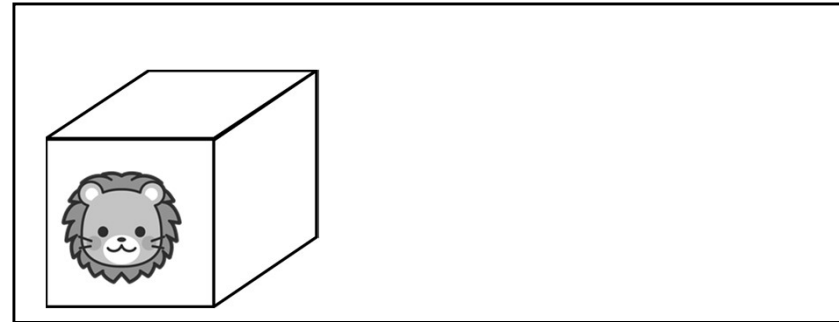
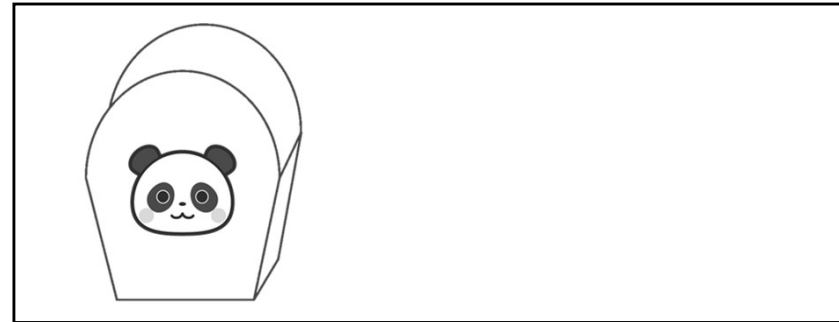


大ききの違ふ箱がいくつあるのて、箱の中に箱を入ていきます。

ライオンの箱は、パンダの箱のひとつ中にあります。

パンダの箱は、ネズミの箱のひとつ中にあります。

一番外側の箱に丸、二番目の箱に三角、一番内側の箱に×を描きましよう。（鼠、熊猫、獅子）



大ききの違ふ箱がいくつあるのて、箱の中に箱を入ていきます。  
 ライオンの箱のひとつ中に、犬の箱を入てます。  
 犬の箱のひとつ中に、うさぎの箱を入てます。  
 うさぎの箱のひとつ中に、猫の箱を入てます。  
 一番外側の箱に丸、二番目の箱に三角、三番目の箱に四角、一番内側の箱に×を描きましよう。  
 （獅子、犬、兎、猫）



大ききの違ふ箱がいくつあるのて、箱の中に箱を入ていきます。  
 パンダの箱のひとつ中に、ウサギの箱を入てます。  
 ウサギの箱のひとつ中に、ネズミの箱を入てます。  
 ネズミの箱のひとつ中に、ライオンの箱を入てます。  
 一番外側の箱に丸、二番目の箱に三角、三番目の箱に四角、一番内側の箱に×を描きましよう。（熊猫、兎、鼠、獅子）



大きさの違う箱がいくつかあるので、箱の中に箱を入れていきます。

犬の箱は、ライオンの箱のひとつ中にあります。

ライオンの箱は、猫の箱のひとつ中にあります。

猫の箱は、兎の箱のひとつ中にあります。

一番外側の箱に丸、二番目の箱に三角、三番目の箱に四角、一番内側の箱に×を描きましょう。

(兎、猫、獅子、犬、)



大きさの違う箱がいくつかあるので、箱の中に箱を入れていきます。

ネズミの箱は、ライオンの箱のひとつ中にあります。

ライオンの箱は、パンダの箱のひとつ中にあります。

パンダの箱は、ウサギの箱のひとつ中にあります。

一番外側の箱に丸、二番目の箱に三角、三番目の箱に四角、一番内側の箱に×を描きましょう。(兎、熊猫、獅子、鼠)



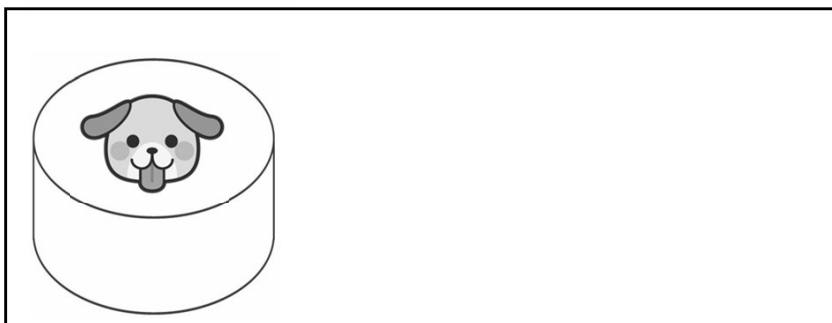
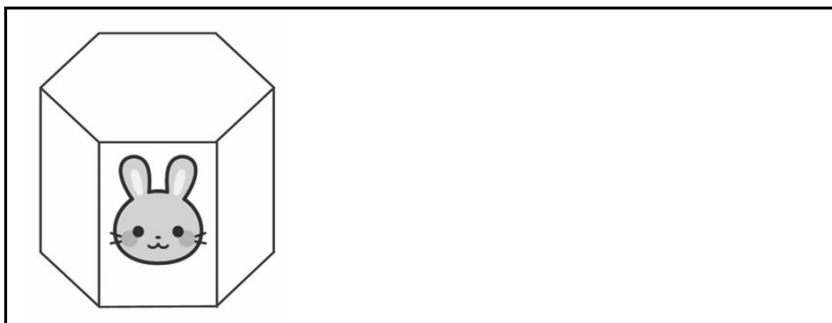
大きさの違う箱がいくつかあるので、箱の中に箱を入れていきます。

犬の箱のひとつ中に、兎の箱を入れます。

兎の箱の中に、箱が一つだけ入っています。

猫の箱の中には、どの箱も入っていません。

一番外側の箱に丸、二番目の箱に三角、一番内側の箱に×を描きましょう。（犬、兎、猫）



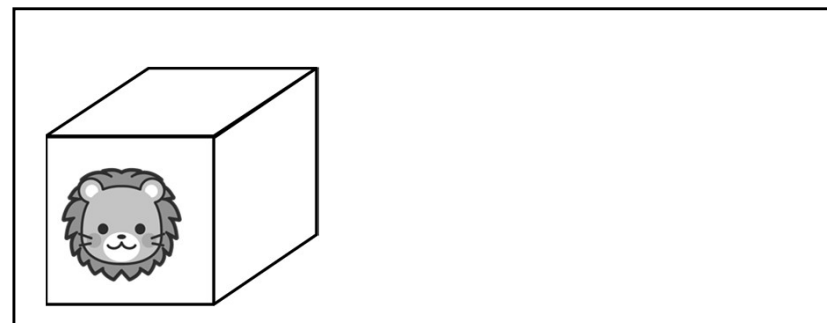
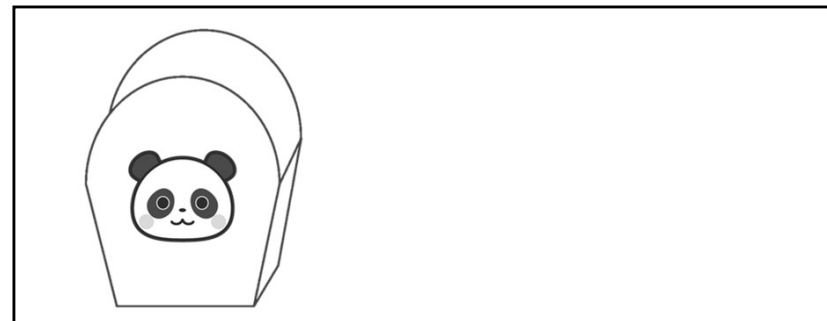
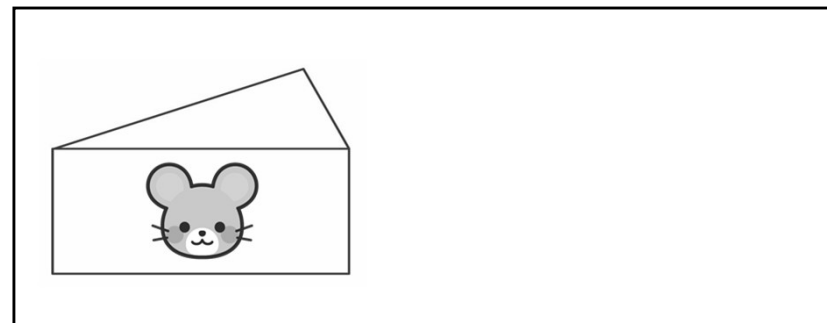
大きさの違う箱がいくつかあるので、箱の中に箱を入れていきます。

ネズミの箱のひとつ中に、パンダの箱を入れます。

パンダの箱の中に、箱が一つだけ入っています。

ライオンの箱の中には、どの箱も入っていません。

一番外側の箱に丸、二番目の箱に三角、一番内側の箱に×を描きましょう。（鼠、熊猫、獅子）



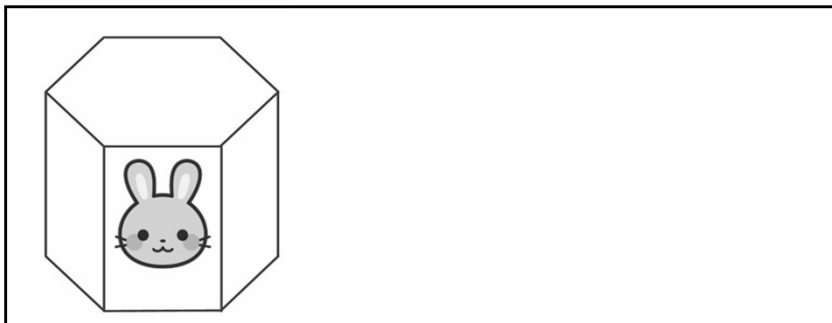
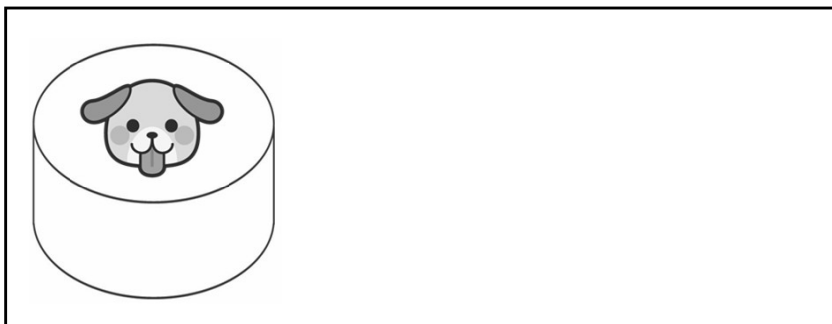
大きさの違う箱がいくつかあるので、箱の中に箱を入れていきます。

ウサギの箱の中には、どの箱も入っていません。

猫の箱の中に、箱が一つだけ入っています。

犬の箱のひとつ中に、猫の箱を入れます。

一番外側の箱に丸、二番目の箱に三角、一番内側の箱に×を描きましょう。（犬、猫、兎）



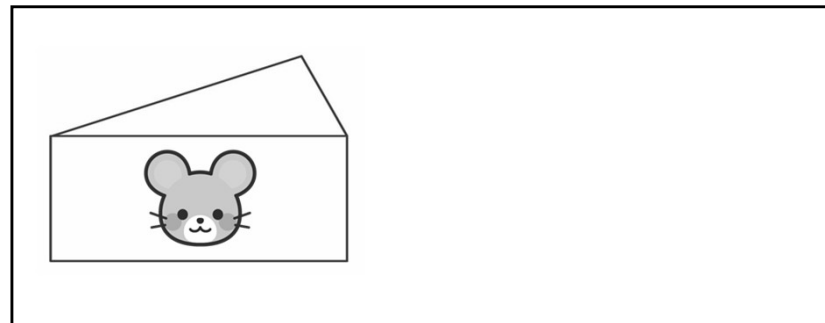
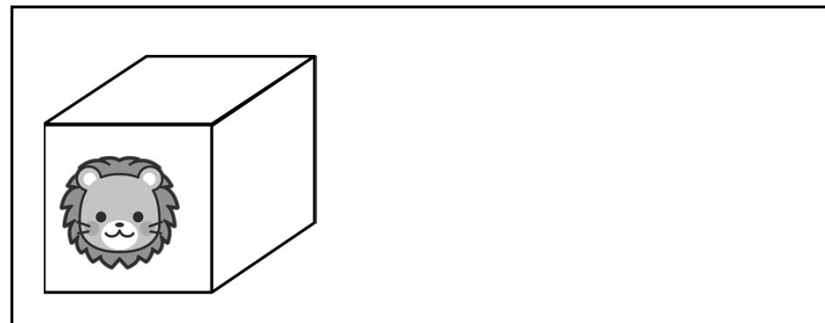
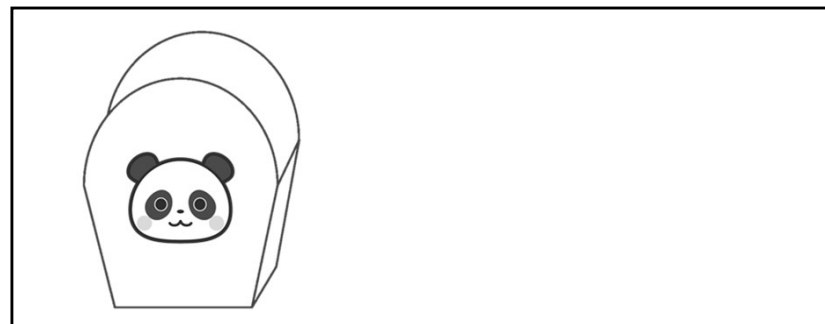
大きさの違う箱がいくつかあるので、箱の中に箱を入れていきます。

パンダの箱の中には、どの箱も入っていません。

ライオンの箱の中に、箱が一つだけ入っています。

ネズミの箱のひとつ中に、ライオンの箱を入れます。

一番外側の箱に丸、二番目の箱に三角、一番内側の箱に×を描きましょう。（鼠、獅子、熊猫）



大きさの違う箱がいくつかあるので、箱の中に箱を入れていきます。

兎の箱のひとつ中に、ライオンの箱を入れます。

ライオンの箱の中に、箱が二つ入っています。

猫の箱の中には、どの箱も入っていません。

一番外側の箱に丸、二番目の箱に三角、三番目の箱に四角、一番内側の箱に×を描きましょう。

(兎、獅子、犬、猫)



大きさの違う箱がいくつかあるので、箱の中に箱を入れていきます。

兎の箱のひとつ中に、ネズミの箱を入れます。

ねずみの箱の中に、箱が二つ入っています。

パンダの箱の中には、どの箱も入っていません。

一番外側の箱に丸、二番目の箱に三角、三番目の箱に四角、一番内側の箱に×を描きましょう。(兎、鼠、獅子、熊猫)





大きさの違う箱がいくつかあるので、箱の中に箱を入れていきます。



猫の箱の中には、どの箱も入っていません。

犬の箱の中に、箱が二つ入っています。

ライオンの箱のひとつ中に、犬の箱を入れます。

一番外側の箱に丸、二番目の箱に三角、三番目の箱に四角、一番内側の箱に×を描きましょう。

(獅子、犬、兎、猫)



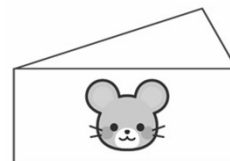


大きさの違う箱がいくつかあるので、箱の中に箱を入れていきます。

ネズミの箱の中には、どの箱も入っていません。

ウサギの箱の中に、箱が二つ入っています。

ライオンの箱のひとつ中に、うさぎの箱を入れます。

一番外側の箱に丸、二番目の箱に三角、三番目の箱に四角、一番内側の箱に×を描きましょう。(獅子、兎、熊猫、鼠)




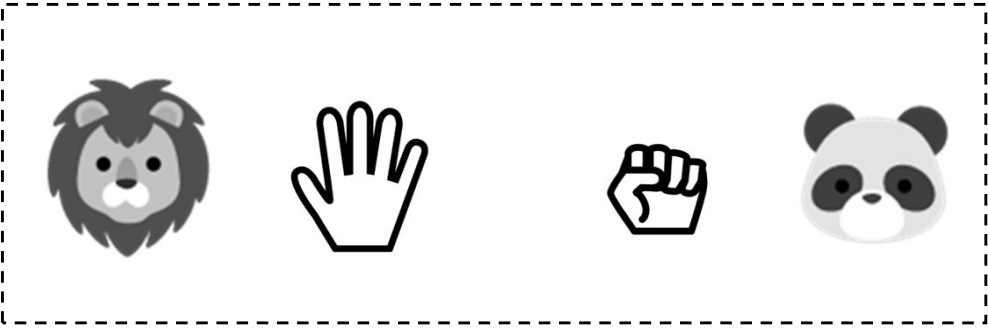




# 解答

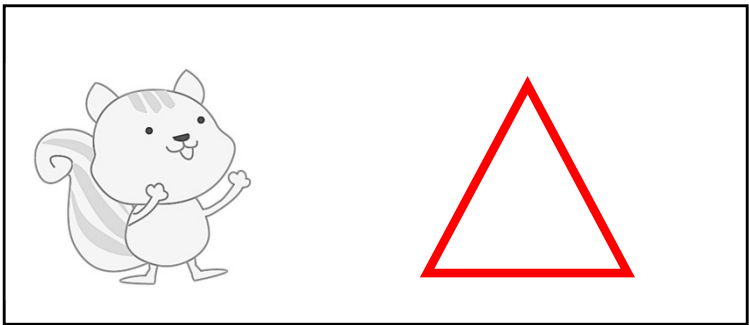

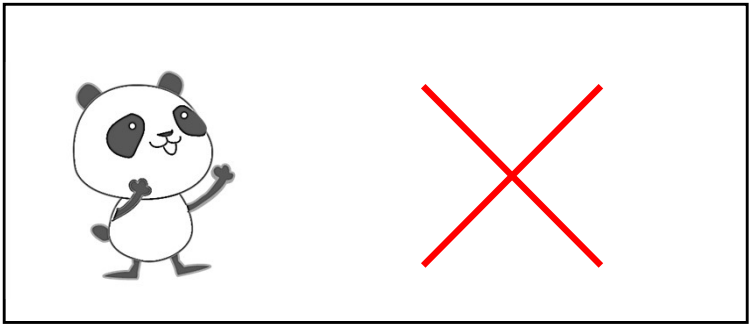

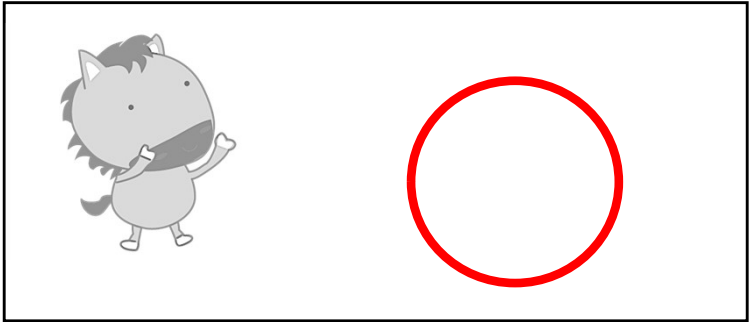
## 3 4 関係推理







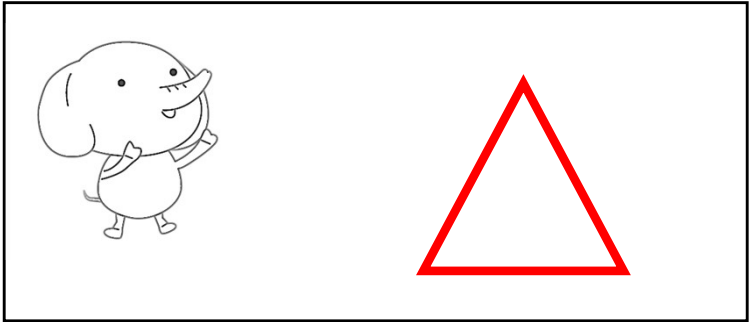

動物たちがじゃんけんをしました。一番勝った動物に丸、二番目に三角、三番目に×を描きましょう。





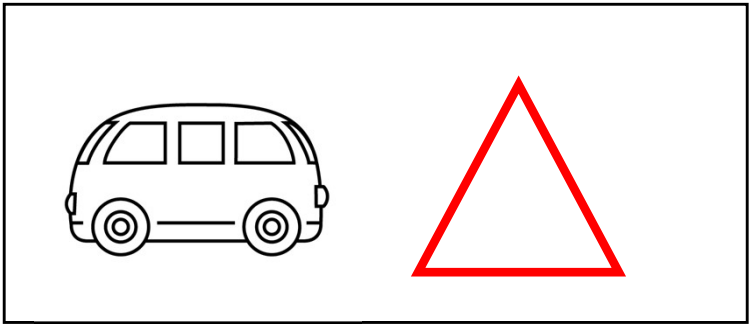

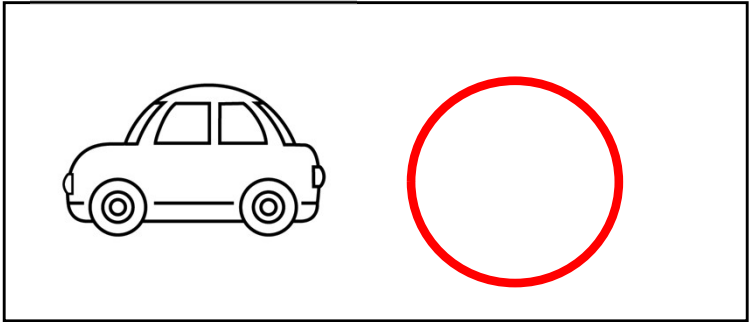

動物たちが競走をしました。一番早かった動物に丸、二番目に三角、三番目に×を描きましょう。



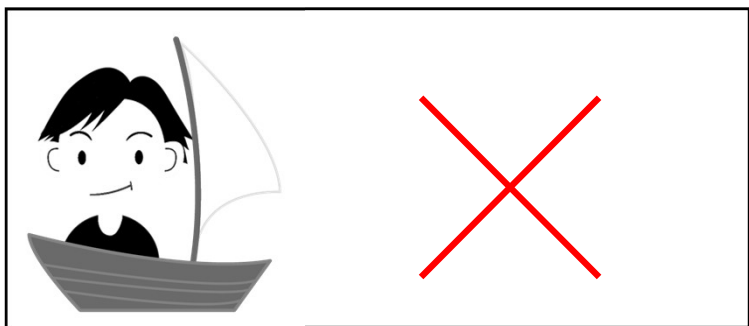


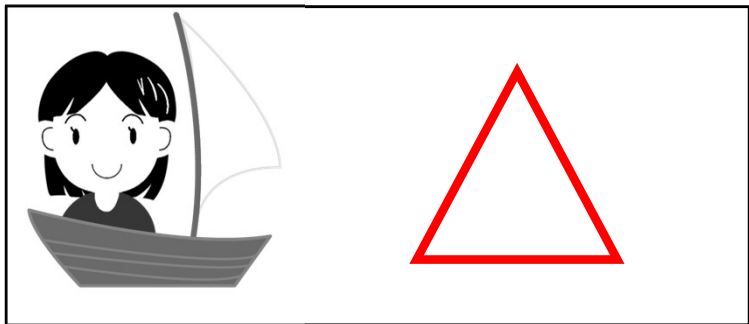

動物たちが競走をしました。一番早かった動物に丸、二番目に三角、三番目に×を描きましょう。



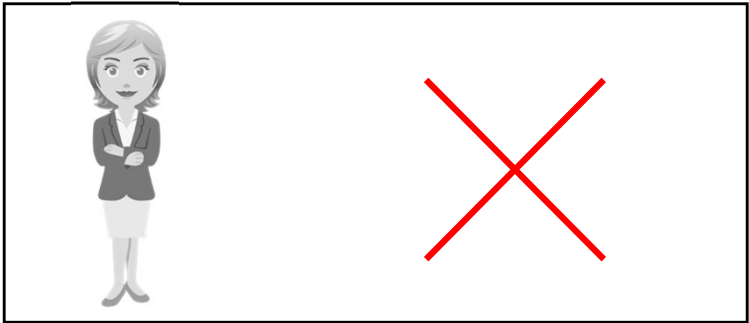
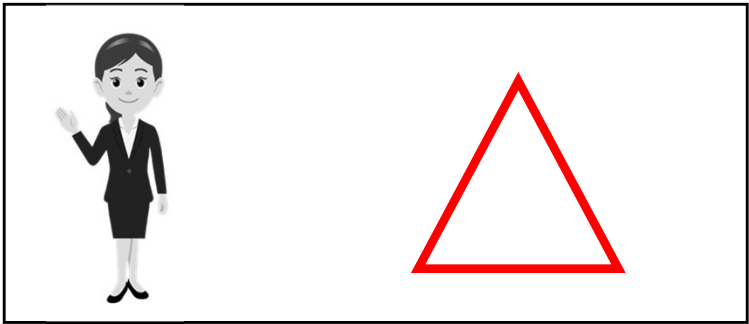

車が競走をしました。一番早かった車に丸、二番目に三角、三番目に×を描きましょう。



3人が船で競争をしました。一番早かった人に丸、二番目に三角、三番目に×を描きましょう。



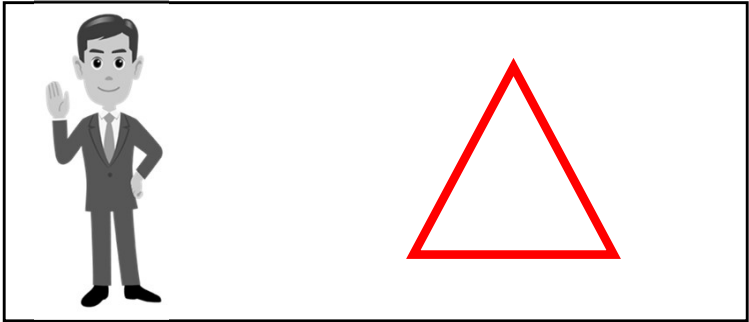




二枚の写真があります。この写真を見て、一番背の高い人に丸、二番目に三角、三番目に×を描きましょう。



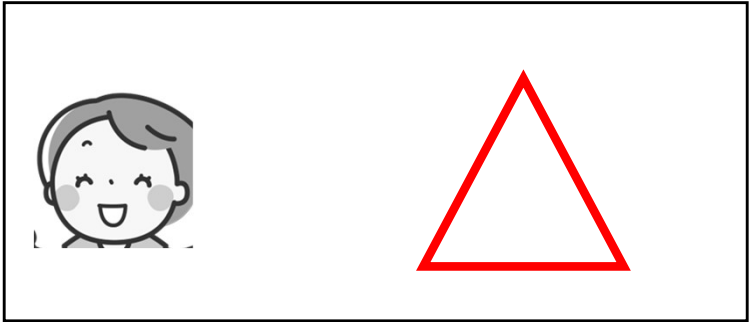







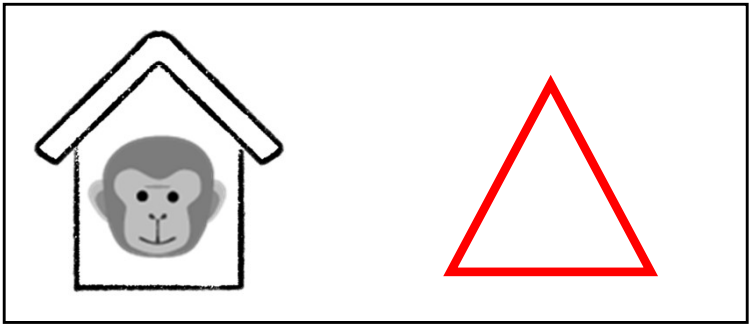
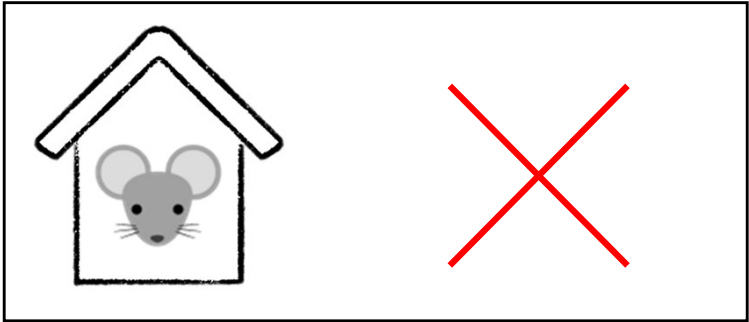


二枚の写真があります。この写真を見て、一番背の高い人に丸、二番目に三角、三番目に×を描きましょう。



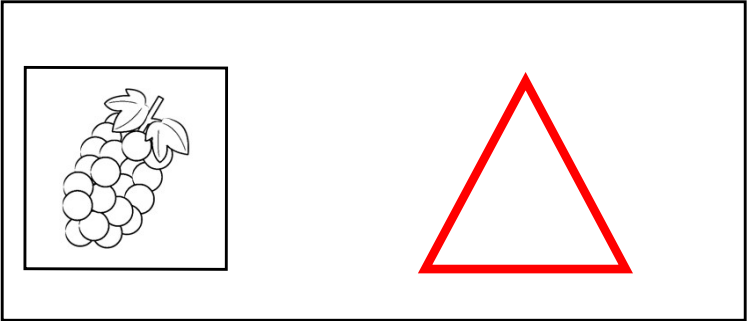
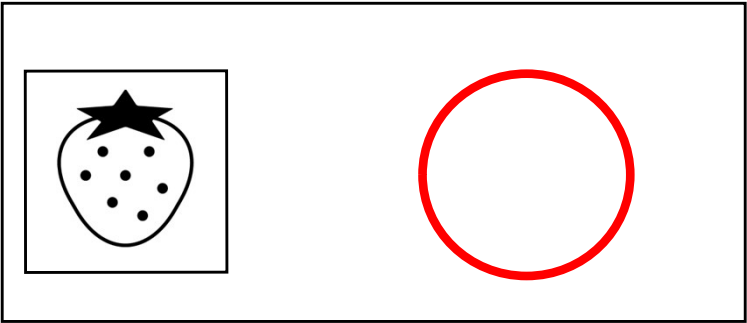
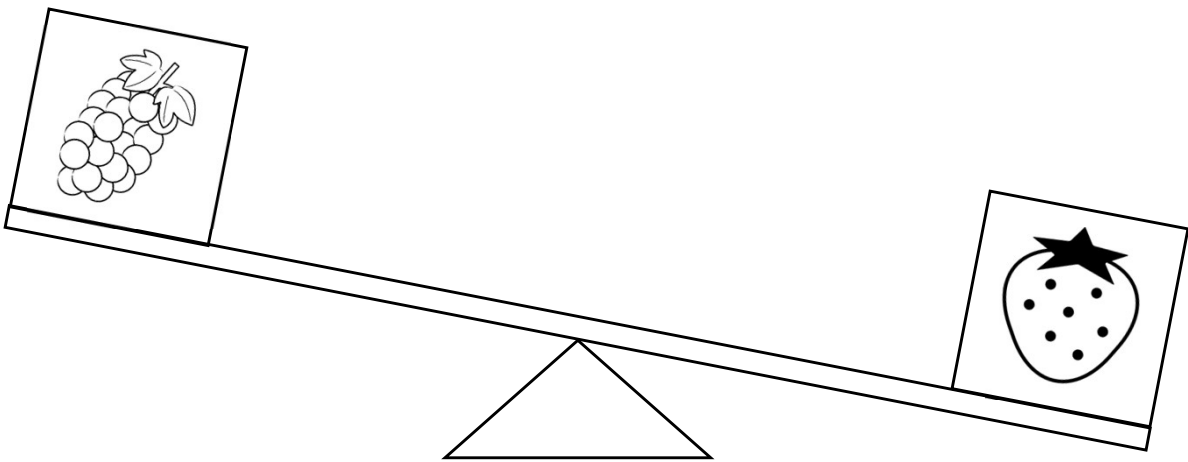
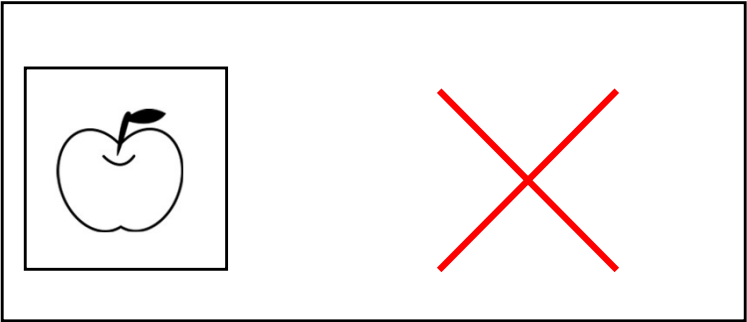
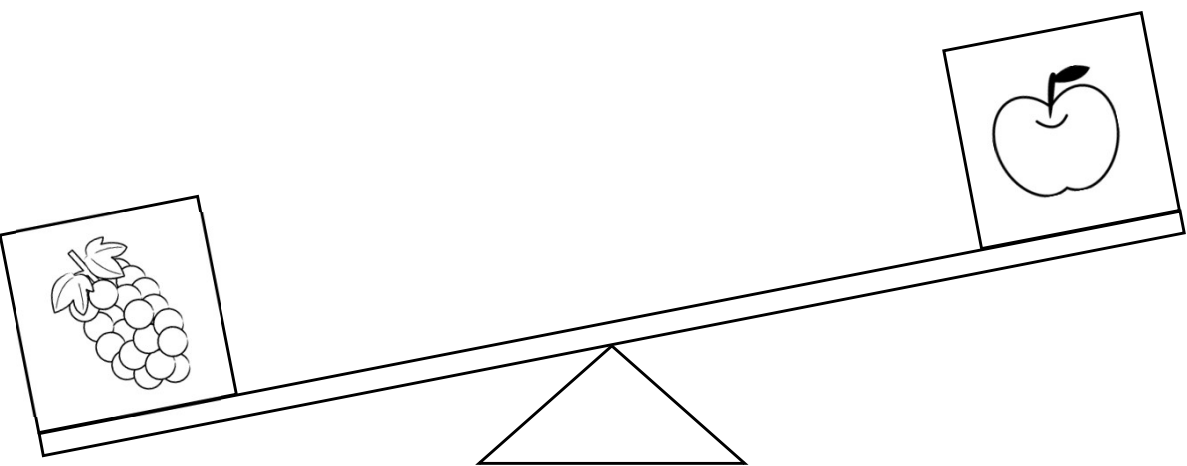
二枚の写真があります。この写真を見て、一番縄の長い人に丸、二番目に三角、三番目に×を描きましょう。



二枚の写真があります。この写真を見て、一番大きい家に丸、二番目に三角、三番目に×を描きましょう。

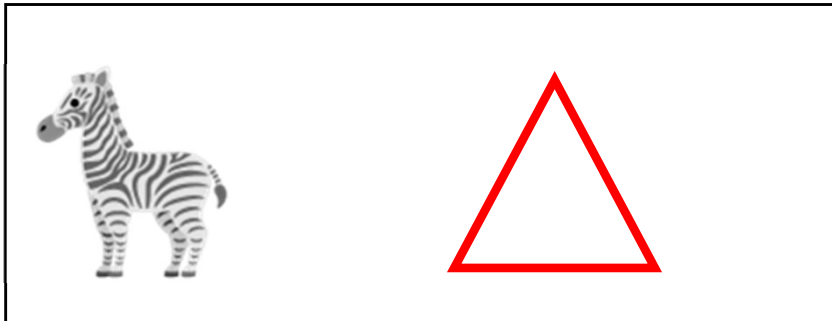
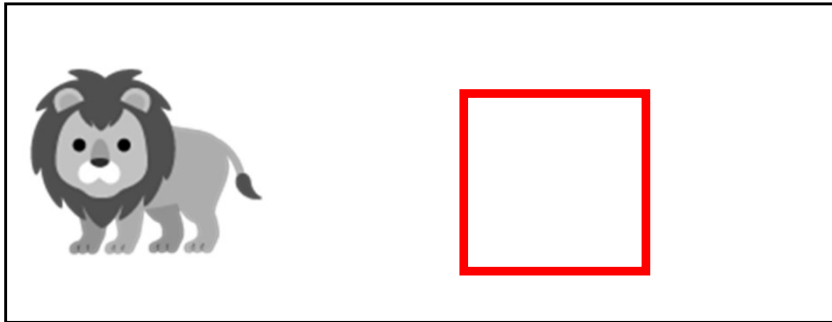


三つの箱の重さを比べました。一番重い箱に丸、二番目に三角、三番目に×を描きましょう。



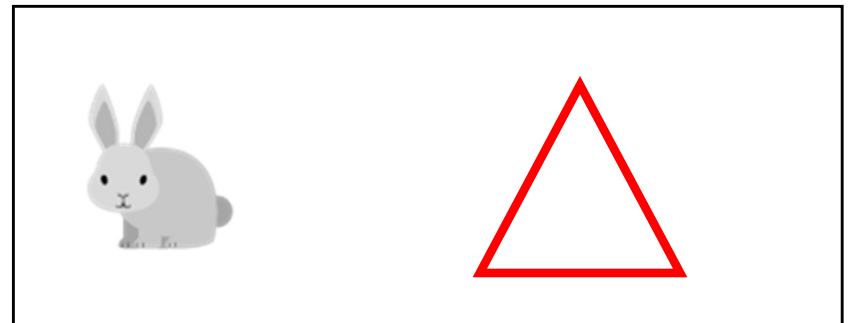
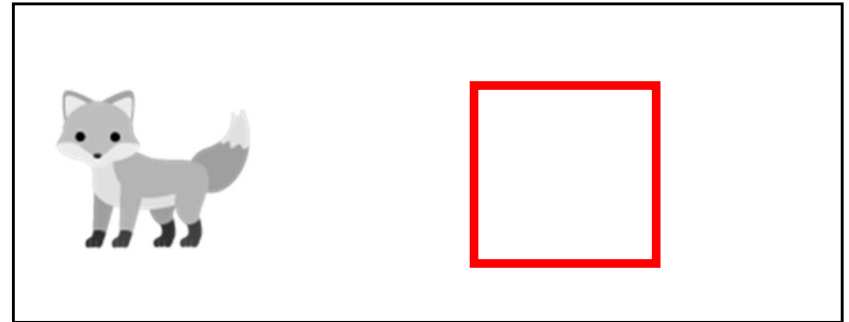
動物たちが並んでいます。  
象は、しまうまの前にいます。  
ライオンは、しまうまの後ろにいます。

一番前にいる動物に丸、真ん中にいる動物に三角、一番後ろにいる動物に四角を描きましょう。（象、縞馬、獅子）



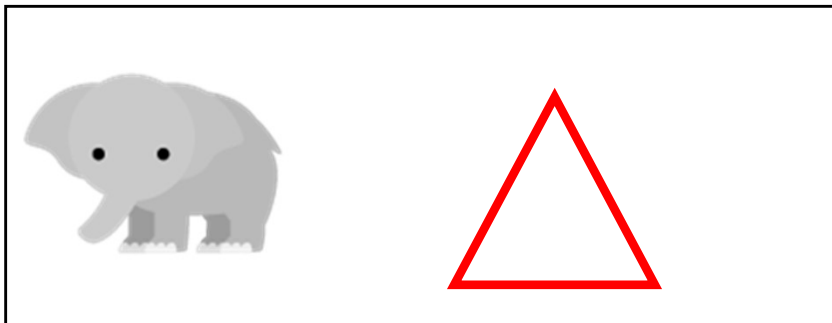

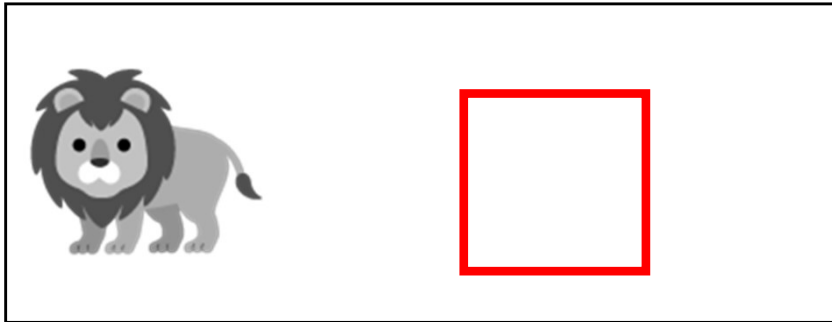
動物たちが並んでいます。  
キツネの後ろには、誰もいません。  
狸の前には、誰もいません。

一番前にいる動物に丸、真ん中にいる動物に三角、一番後ろにいる動物に四角を描きましょう。（狸、兎、狐）



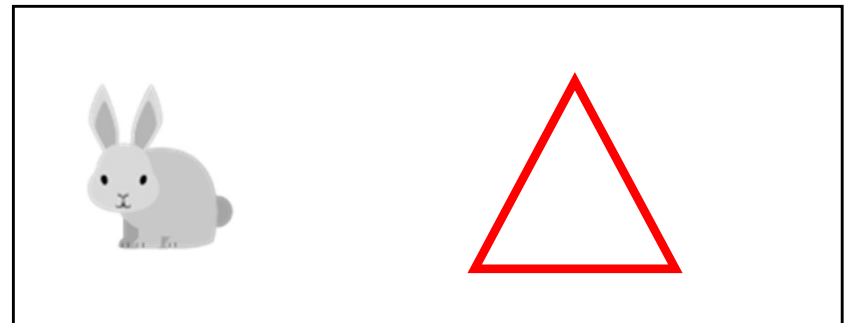


動物たちが並んでいます。  
シマウマは、ライオンの2つ前にいます。  
ゾウは、しまうまの後ろにいます。

一番前にいる動物に丸、真ん中にいる動物に三角、一番後ろにいる動物に四角を描きましょう。  
(縞馬、象、獅子)



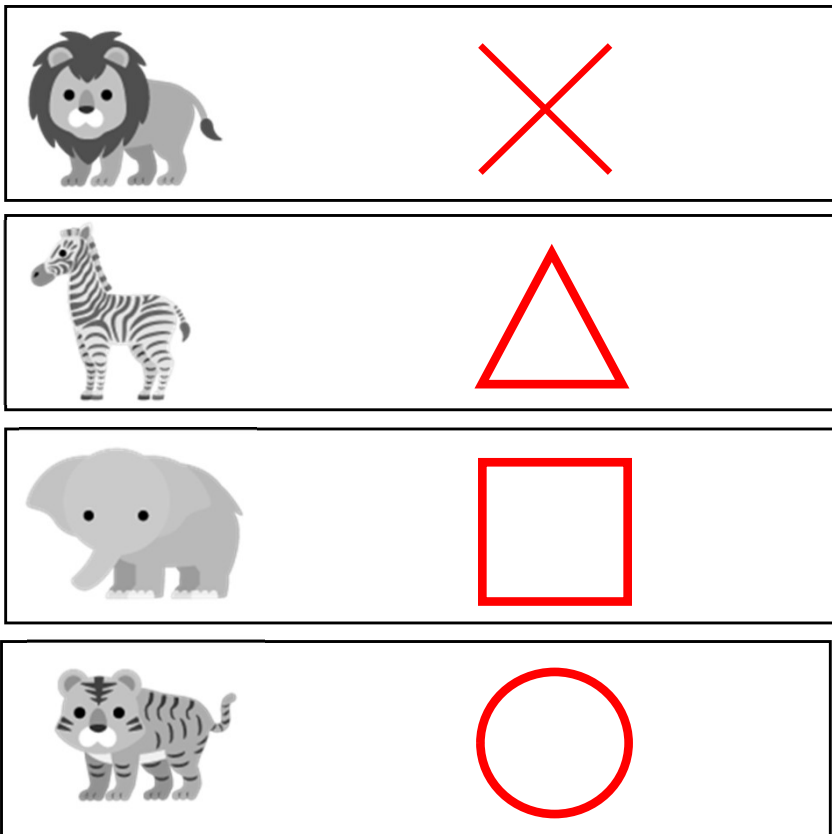
動物たちが並んでいます。  
タヌキは、キツネの2つ後ろにいます。  
ウサギは、タヌキの前にいます。

一番前にいる動物に丸、真ん中にいる動物に三角、一番後ろにいる動物に四角を描きましょう。  
(狐、兎、狸)



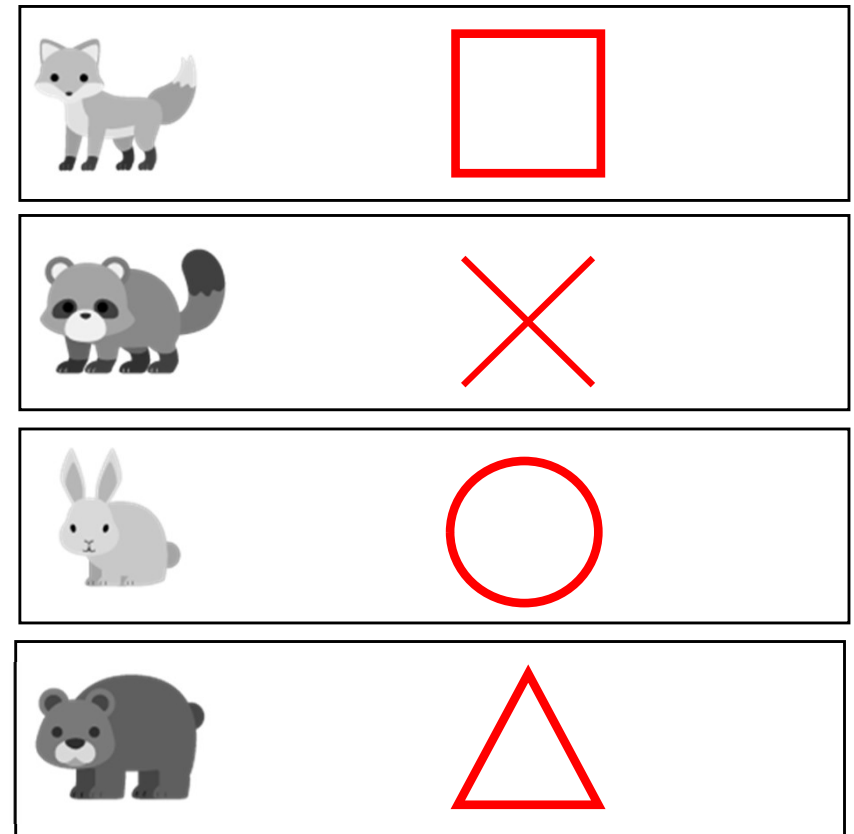
動物たちが並んでいます。  
ゾウは、ライオンのすぐ前にいます。  
トラは、シマウマのすぐ前にいます。  
シマウマは、ゾウのすぐ前にいます。

一番前にいる動物に丸、前から二番目に  
いる動物に三角、前から三番目にいる動  
物に四角、一番後ろにいる動物に×を描  
きましょう。（虎、縞馬、象、獅子）



動物たちが並んでいます。  
タヌキは、キツネのすぐ後ろにいます。  
クマは、ウサギのすぐ後ろにいます。  
キツネは、クマのすぐ後ろにいます。

一番前にいる動物に丸、前から二番目に  
いる動物に三角、前から三番目にいる動  
物に四角、一番後ろにいる動物に×を描  
きましょう。（兎、熊、狐、狸）



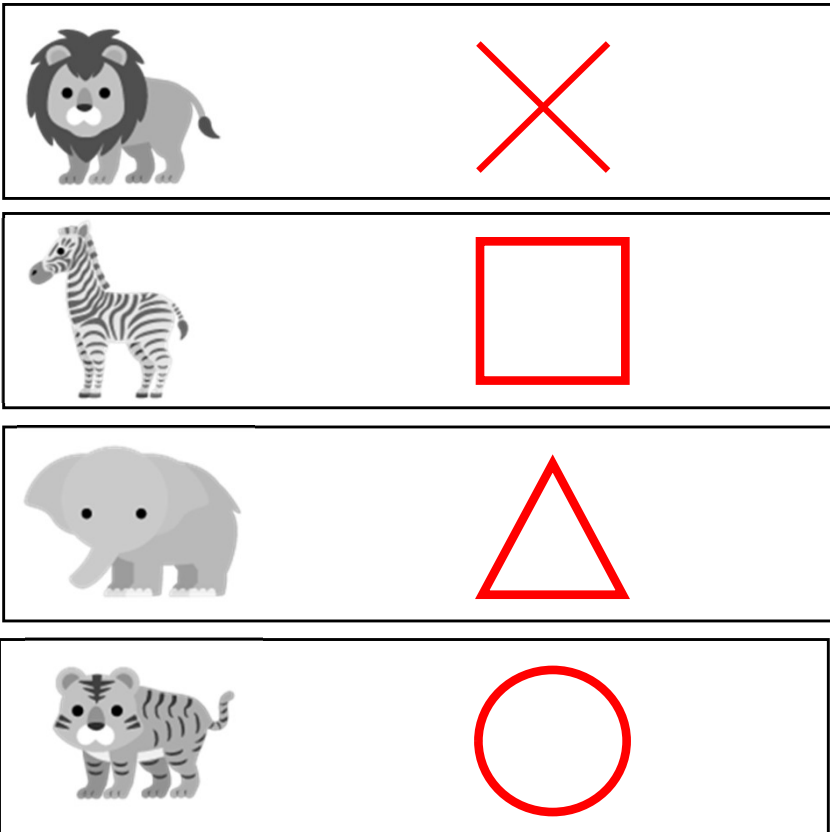
動物たちが並んでいます。

トラは、シマウマの2つ前にいます。

ゾウは、ライオンの2つ前にいます。

ゾウは、シマウマのすぐ前にいます。

一番前にいる動物に丸、前から二番目に  
いる動物に三角、前から三番目にいる動  
物に四角、一番後ろにいる動物に×を描  
きましょう。（虎、象、縞馬、獅子）



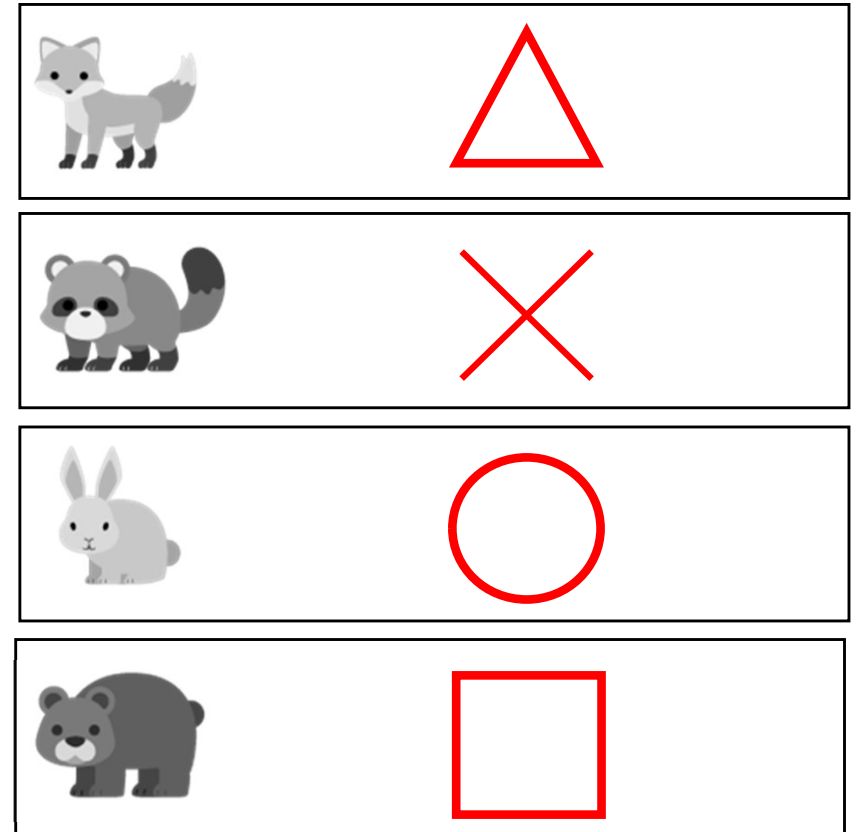
動物たちが並んでいます。

クマは、ウサギの2つ後ろにいます。

タヌキは、キツネの2つ後ろにいます。

クマは、キツネのすぐ後ろにいます。

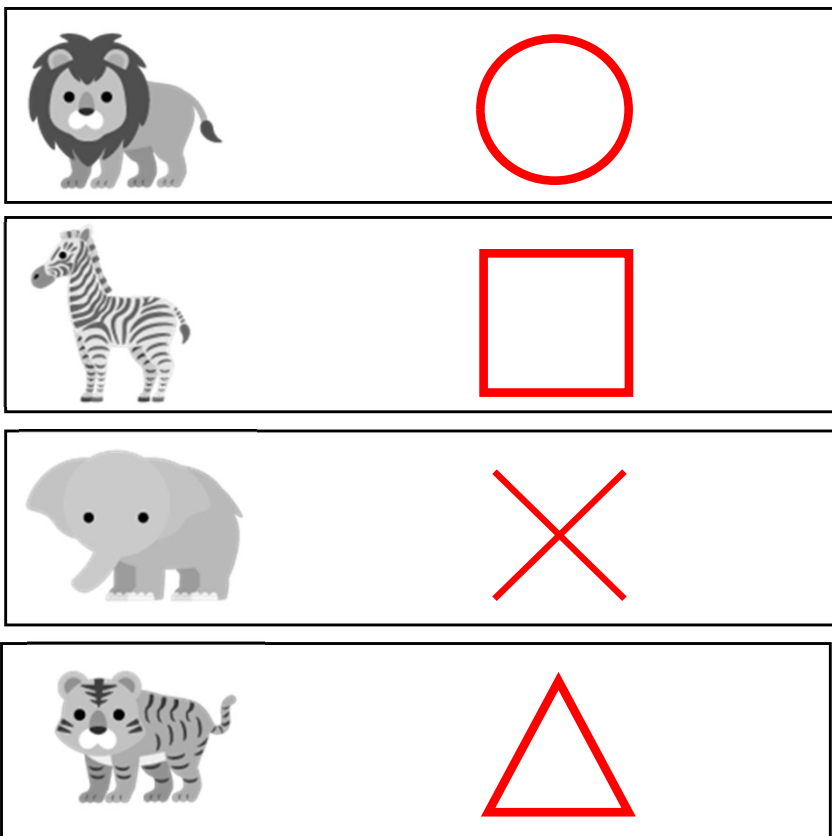
一番前にいる動物に丸、前から二番目に  
いる動物に三角、前から三番目にいる動  
物に四角、一番後ろにいる動物に×を描  
きましょう。（兎、狐、熊、狸）





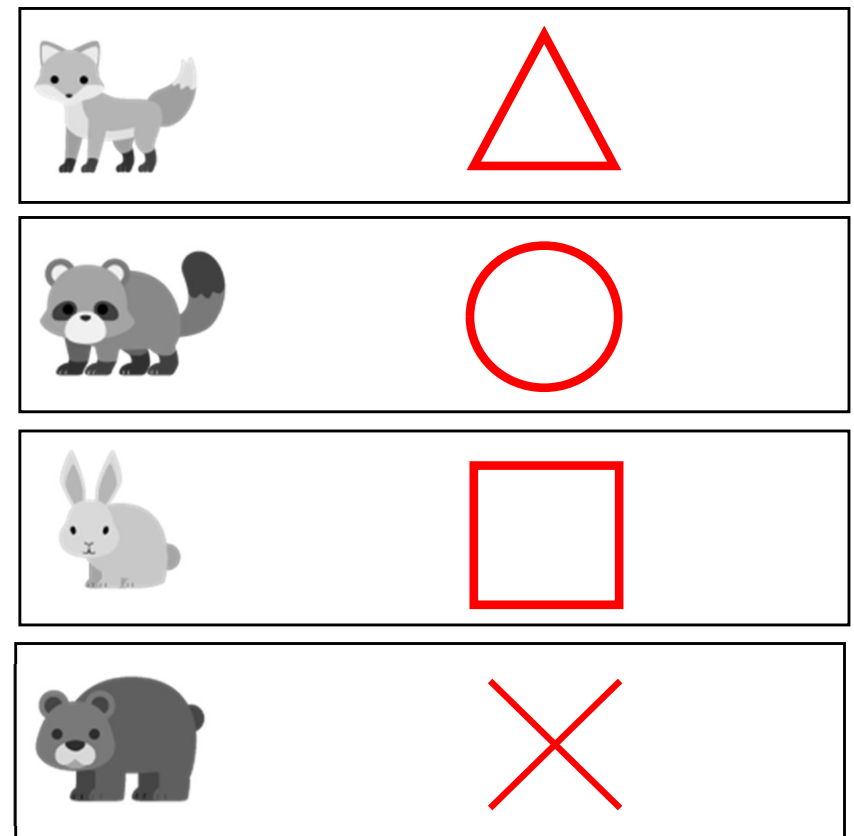
動物たちが並んでいます。  
ライオンは、ゾウよりも前の方にいます。  
トラは、シマウマのすぐ前にいます。  
ライオンは、トラのすぐ前にいます。

一番前にいる動物に丸、前から二番目にいる動物に三角、前から三番目にいる動物に四角、一番後ろにいる動物に×を描きましょう。（獅子、虎、縞馬、象）



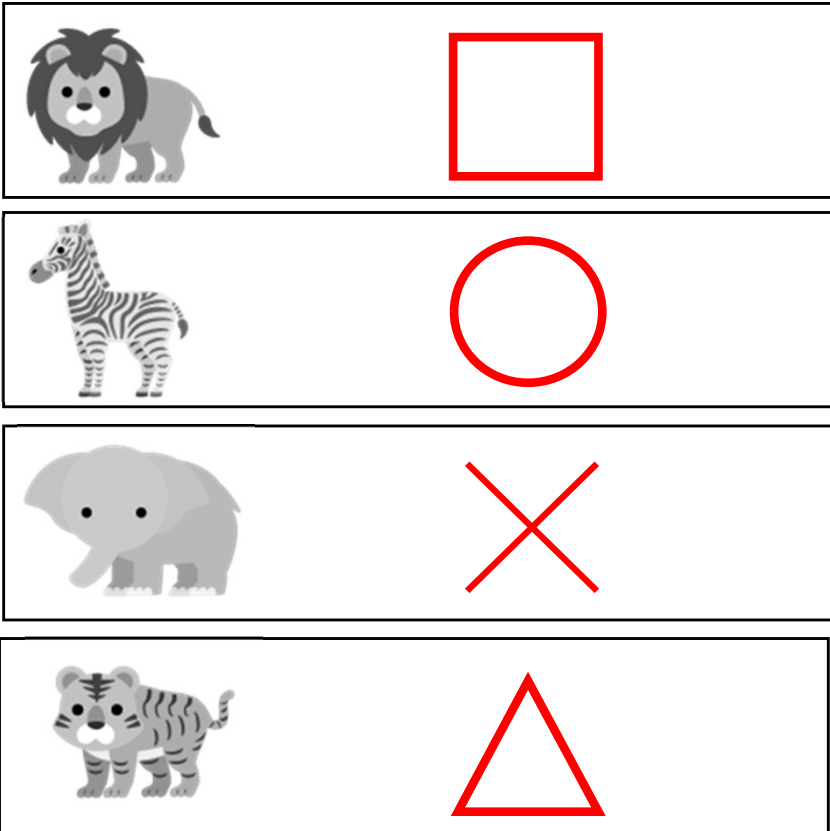
動物たちが並んでいます。  
クマは、タヌキの後ろの方にいます。  
ウサギは、キツネのすぐ後ろにいます。  
クマは、ウサギのすぐ後ろにいます。

一番前にいる動物に丸、前から二番目にいる動物に三角、前から三番目にいる動物に四角、一番後ろにいる動物に×を描きましょう。（狸、狐、兎、熊）



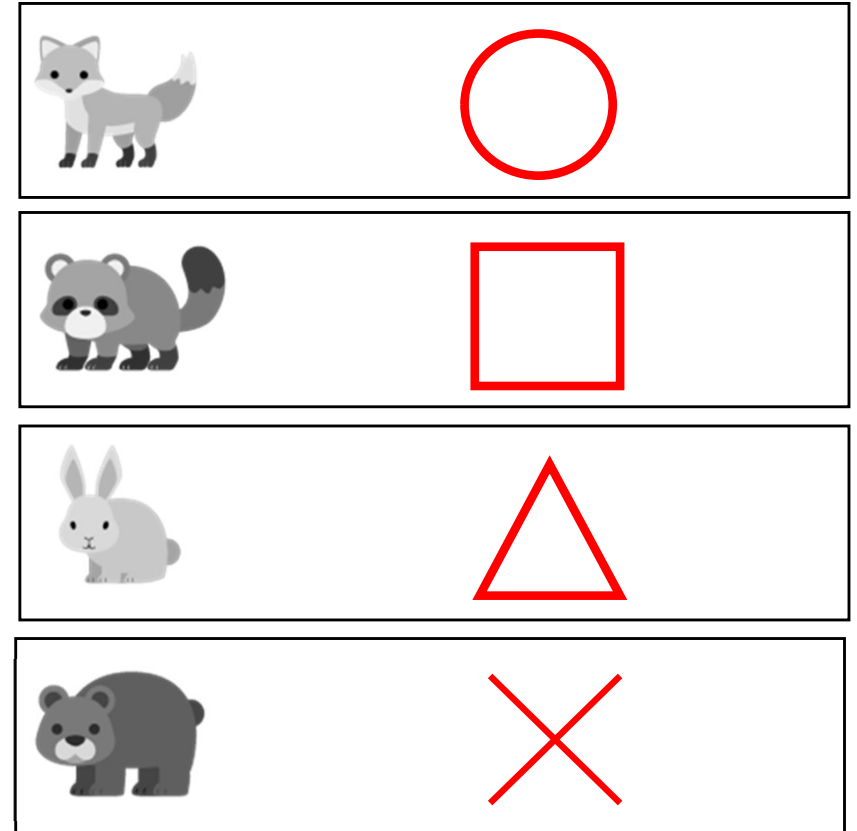
動物たちが並んでいます。  
シマウマは、トラの後ろにはいません。  
ライオンは、シマウマの2つ後ろにいます。  
ゾウは、一番後ろにいます。

一番前にいる動物に丸、前から二番目にいる動物に三角、前から三番目にいる動物に四角、一番後ろにいる動物に×を描きましょう。（縞馬、虎、獅子、象）



動物たちが並んでいます。  
クマは、タヌキの前にはいません。  
ウサギは、クマの2つ前にいます。  
キツネは、一番前にいます。

一番前にいる動物に丸、前から二番目にいる動物に三角、前から三番目にいる動物に四角、一番後ろにいる動物に×を描きましょう。（狐、兎、狸、熊）





動物たちが駆けっこをしたあと、勝ち負けについて話しています。

ライオンは「ぼくは、パンダには勝ったけど、犬には負けたよ」と言っています。

1位の動物に丸、2位の動物に三角、3位の動物に×を描きましょう。

(犬、獅子、熊猫)






動物たちが駆けっこをしたあと、勝ち負けについて話しています。

ウサギは「ぼくは、ネズミには勝ったけど、猫には負けたよ」と言っています。

1位の動物に丸、2位の動物に三角、3位の動物に×を描きましょう。

(猫、兎、鼠)

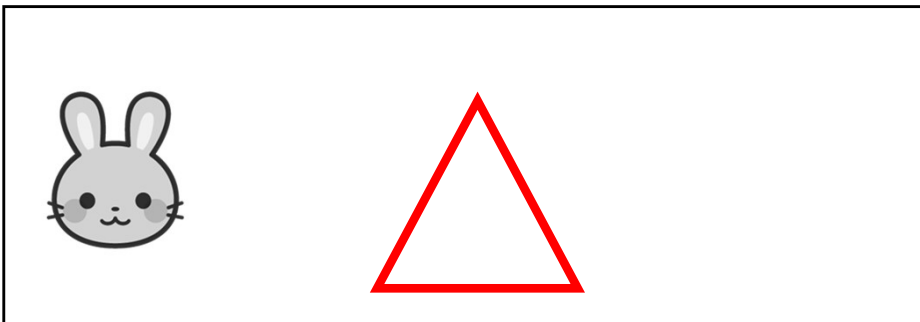




動物たちが駆けっこをしたあと、勝ち負けについて話しています。

ウサギは「ぼくは、犬には負けたけど、ネズミには勝ったよ」と言っています。

1位の動物に丸、2位の動物に三角、3位の動物に×を描きましょう。

(犬、兎、鼠)



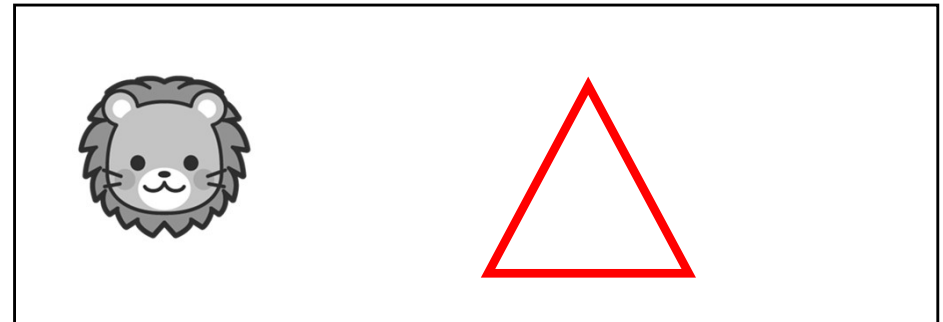


動物たちが駆けっこをしたあと、勝ち負けについて話しています。

ライオンは「ぼくは、猫には負けたけど、パンダには勝ったよ」と言っています。

1位の動物に丸、2位の動物に三角、3位の動物に×を描きましょう。

(猫、獅子、熊貓)





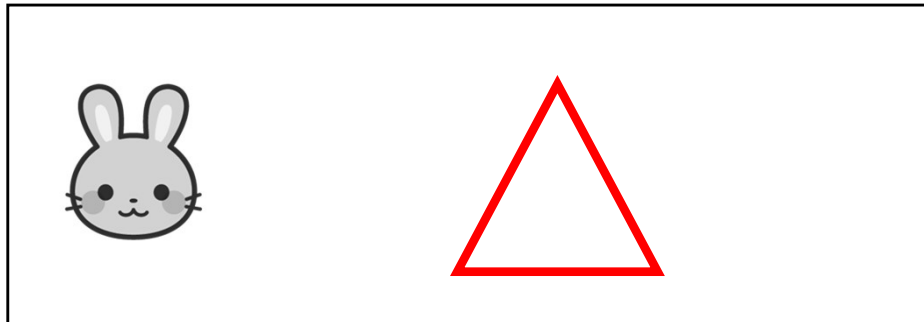
動物たちが駆けっこをしたあと、勝ち負けについて話しています。

猫は「ぼくは兎には勝ったよ」と言っています。

ライオンは、「ぼくは兎には負けたよ」と言っています。

1位の動物に丸、2位の動物に三角、3位の動物に×を描きましょう。

(猫、兎、獅子)




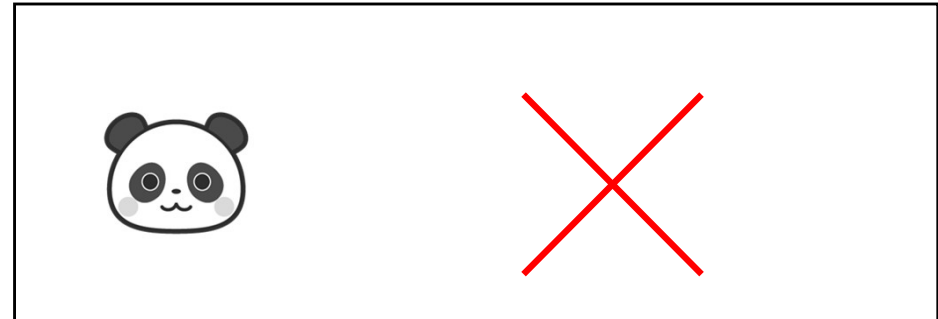
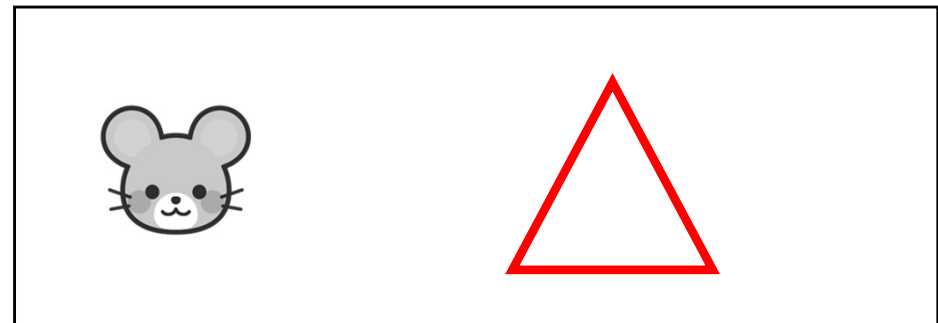
動物たちが駆けっこをしたあと、勝ち負けについて話しています。

犬は「ぼくは鼠には勝ったよ」と言っています。

パンダは、「ぼくは鼠には負けたよ」と言っています。

1位の動物に丸、2位の動物に三角、3位の動物に×を描きましょう。

(犬、鼠、熊貓)




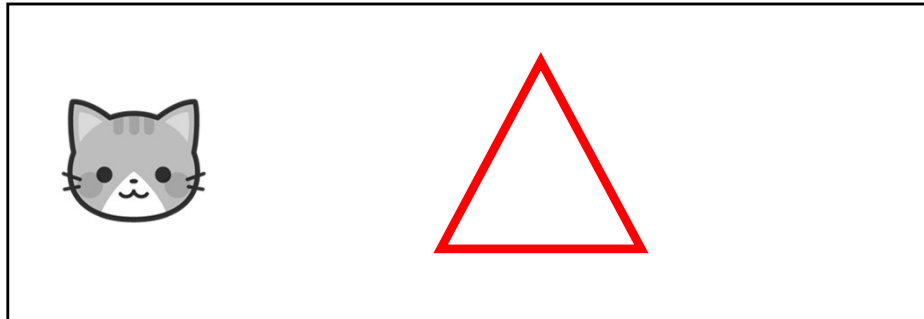

動物たちが駆けっこをしたあと、勝ち負けについて話しています。

パンダは「ぼくは猫には負けたよ」と言っています。

ネズミは、「ぼくは猫には勝ったよ」と言っています。

1位の動物に丸、2位の動物に三角、3位の動物に×を描きましょう。

(鼠、猫、熊貓)




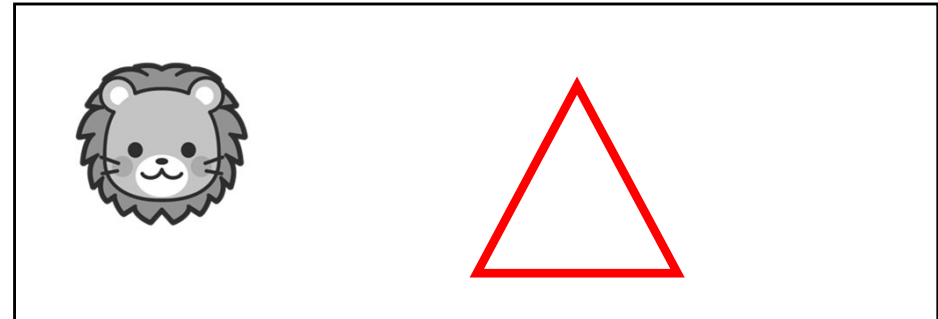

動物たちが駆けっこをしたあと、勝ち負けについて話しています。

犬は「ぼくはライオンには負けたよ」と言っています。

ウサギは、「ぼくはライオンには勝ったよ」と言っています。

1位の動物に丸、2位の動物に三角、3位の動物に×を描きましょう。

(兎、獅子、犬)



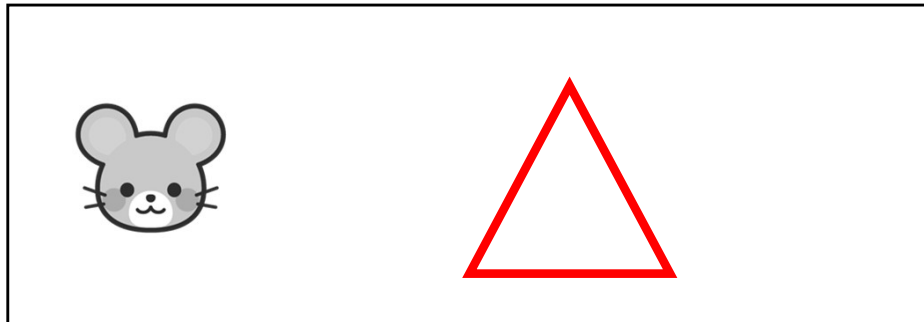


動物たちが駆けっこをしたあと、勝ち負けについて話しています。

ネズミは「ぼくは、猫には勝ったけど、1位ではなかったよ」と言っています。

1位の動物に丸、2位の動物に三角、3位の動物に×を描きましょう。

(兎、鼠、猫)

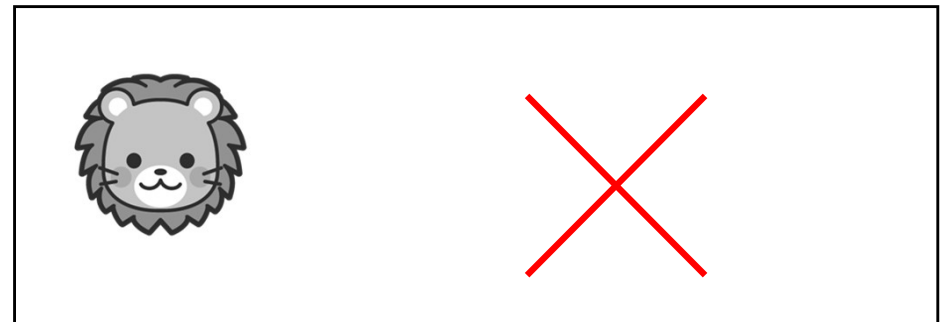

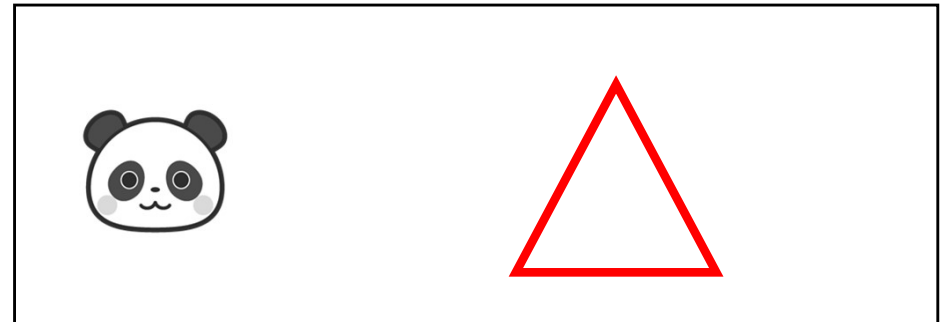


動物たちが駆けっこをしたあと、勝ち負けについて話しています。

パンダは「ぼくは、ライオンには勝ったけど、1位ではなかったよ」と言っています。

1位の動物に丸、2位の動物に三角、3位の動物に×を描きましょう。

(犬、熊猫、獅子)





動物たちが駆けっこをしたあと、勝ち負けについて話しています。

パンダは「ぼくは、ライオンには負けたけど、ビリではなかったよ」と言っています。

1位の動物に丸、2位の動物に三角、3位の動物に×を描きましょう。

(獅子、熊猫、猫)






動物たちが駆けっこをしたあと、勝ち負けについて話しています。

ウサギは「ぼくは、犬には負けたけど、ビリではなかったよ」と言っています。

1位の動物に丸、2位の動物に三角、3位の動物に×を描きましょう。

(犬、兔、鼠)





動物たちが駆けっこをしたあと、勝ち負けについて話しています。


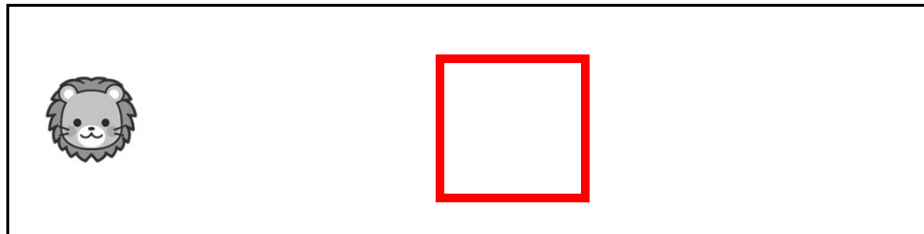
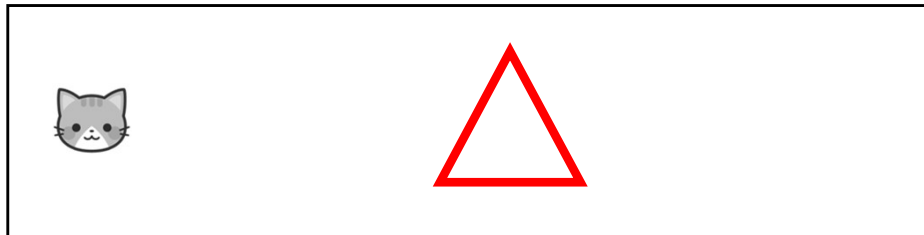

ウサギは「ぼくは誰にも負けなかったよ」と言っています。

犬は「ぼくは誰にも勝てなかったよ」と言っています。

猫は「ぼくはライオンにも勝ったよ」と言っています。

1位の動物に丸、2位の動物に三角、3位の動物に四角、4位の動物に×を描きましょう。

(兎、猫、獅子、犬)



動物たちが駆けっこをしたあと、勝ち負けについて話しています。



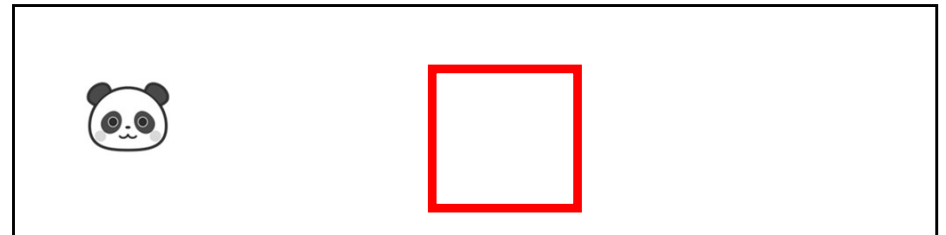

鼠は「ぼくは誰にも負けなかったよ」と言っています。

ライオンは「ぼくは誰にも勝てなかったよ」と言っています。









ウサギは「ぼくはパンダにも勝ったよ」と言っています。

1位の動物に丸、2位の動物に三角、3位の動物に四角、4位の動物に×を描きましょう。









(鼠、兎、熊貓、獅子)



動物たちが駆けっこをしたあと、勝ち負けについて話しています。  
ネズミは「ぼくより速い動物は一匹だけだよ」と言っています。  
ライオンは「ぼくより遅い動物は一匹だけだよ」と言っています。  
ウサギは「ぼくより速い動物は三匹もいたよ」と言っています。  
1位の動物に丸、2位の動物に三角、3位の動物に四角、4位の動物に×を描きましょう。  
(犬、鼠、獅子、兎)

動物たちが駆けっこをしたあと、勝ち負けについて話しています。  
パンダは「ぼくより速い動物は一匹だけだよ」と言っています。  
猫は「ぼくより遅い動物は一匹だけだよ」と言っています。  
ライオンは「ぼくより速い動物は三匹もいたよ」と言っています。  
1位の動物に丸、2位の動物に三角、3位の動物に四角、4位の動物に×を描きましょう。  
(兎、熊猫、猫、獅子)

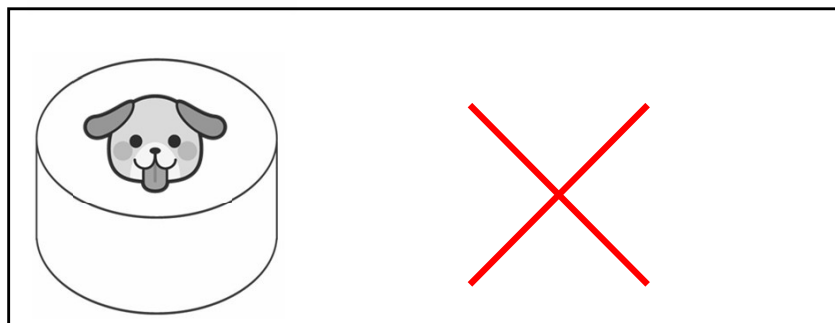
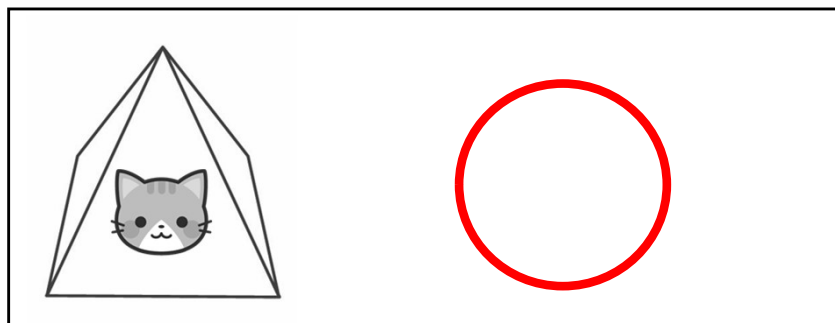
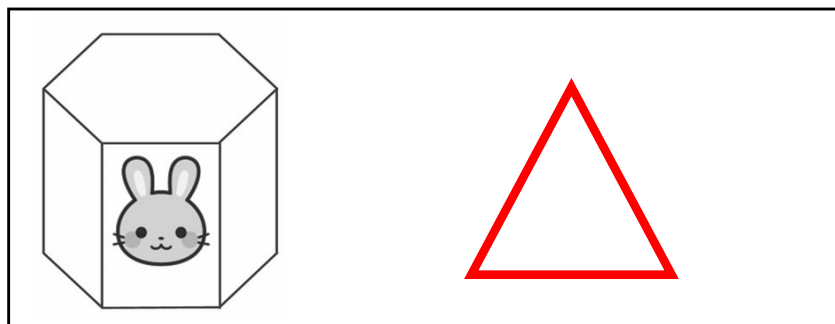
	
	
	
	

大ききの違う箱がいくつかあるので、箱の中に箱を入れていきます。

猫の箱のひとつ中に、うさぎの箱を入れます。

うさぎの箱のひとつ中に、犬の箱を入れます。

一番外側の箱に丸、二番目の箱に三角、一番内側の箱に×を描きましょう。（猫、兎、犬）

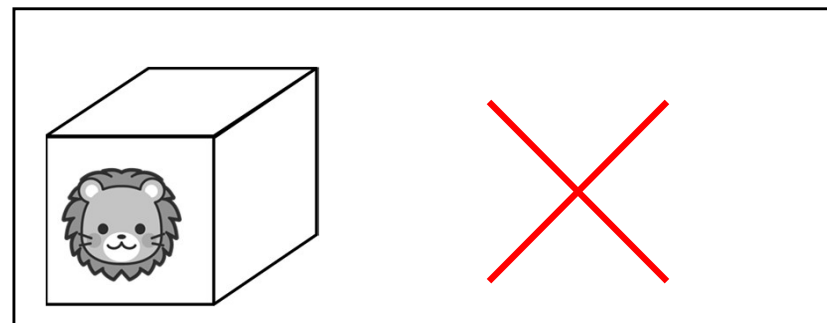
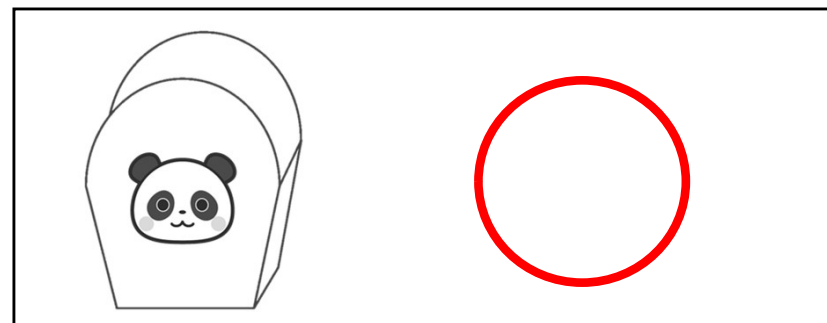
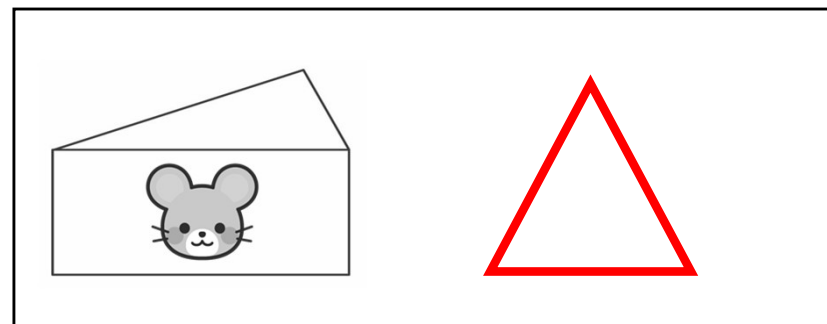


大ききの違う箱がいくつかあるので、箱の中に箱を入れていきます。

パンダの箱のひとつ中に、ネズミの箱を入れます。

ネズミの箱のひとつ中に、ライオンの箱を入れます。

一番外側の箱に丸、二番目の箱に三角、一番内側の箱に×を描きましょう。（熊猫、鼠、獅子）

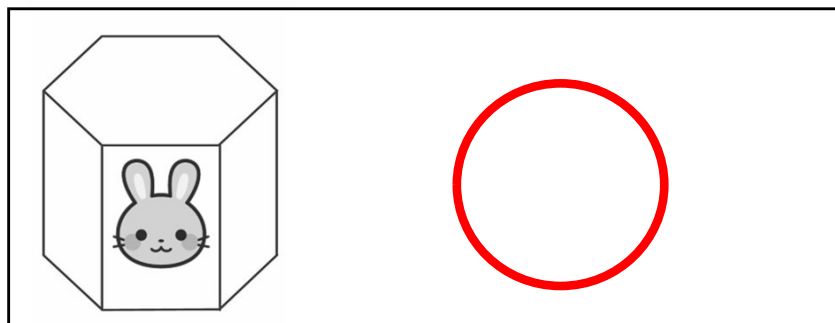
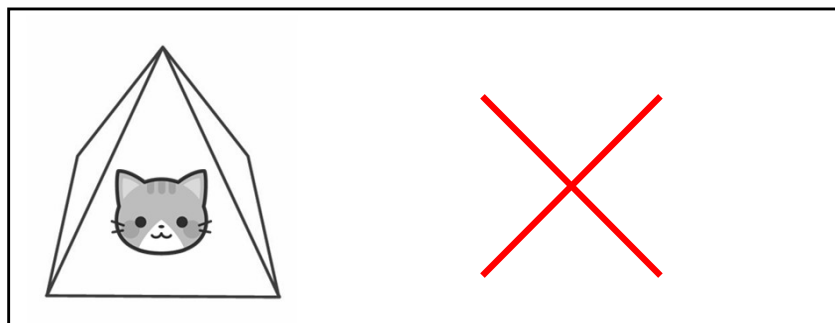
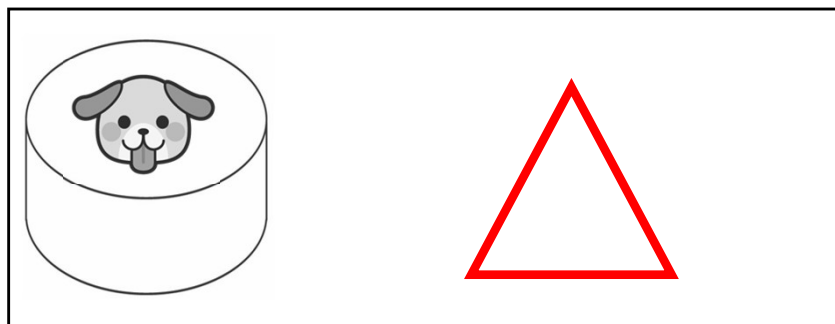


大ききの違ふ箱がいくつあるのて、箱の中に箱を入ていきます。

猫の箱は、犬の箱のひとつ中にあります。

犬の箱は、ウサギの箱のひとつ中にあります。

一番外側の箱に丸、二番目の箱に三角、一番内側の箱に×を描きましょう。（兎、犬、猫）

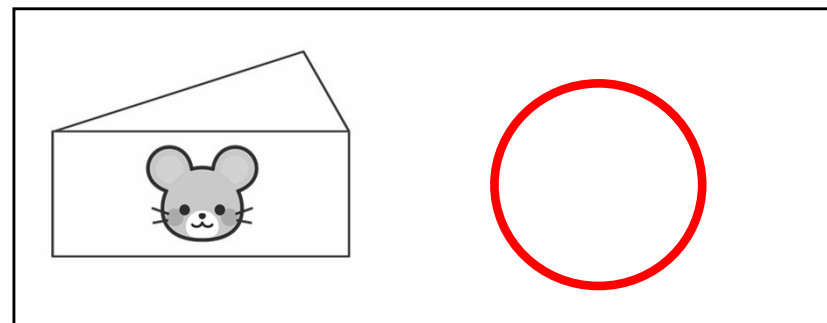
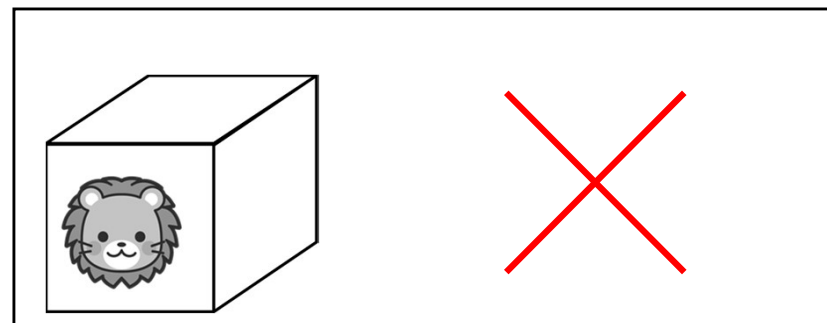
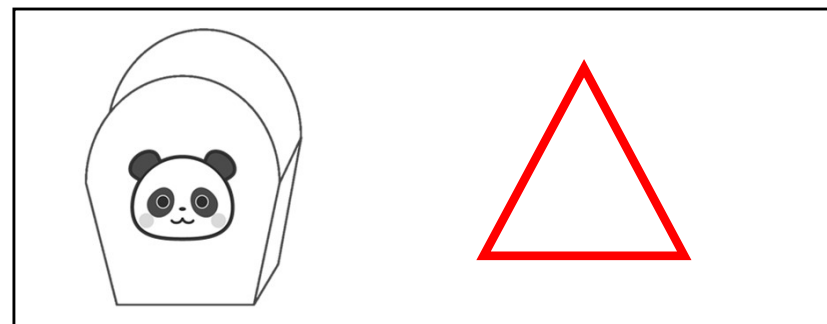


大ききの違ふ箱がいくつあるのて、箱の中に箱を入ていきます。

ライオンの箱は、パンダの箱のひとつ中にあります。

パンダの箱は、ネズミの箱のひとつ中にあります。

一番外側の箱に丸、二番目の箱に三角、一番内側の箱に×を描きましょう。（鼠、熊猫、獅子）



大ききの違ふ箱がいくつあるのて、箱の中に箱を入れています。



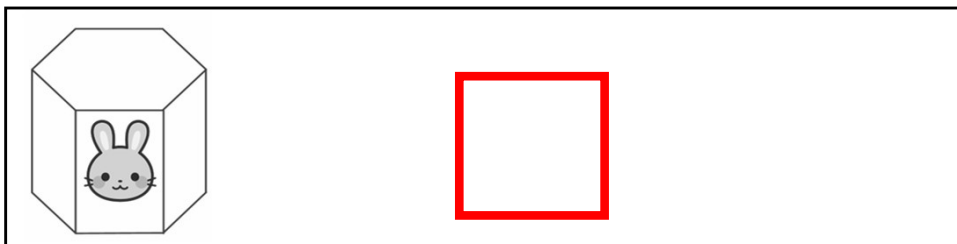

ライオンの箱のひとつ中に、犬の箱を入れます。

犬の箱のひとつ中に、うさぎの箱を入れます。

うさぎの箱のひとつ中に、猫の箱を入れます。

一番外側の箱に丸、二番目の箱に三角、三番目の箱に四角、一番内側の箱に×を描きましょう。

(獅子、犬、兎、猫)





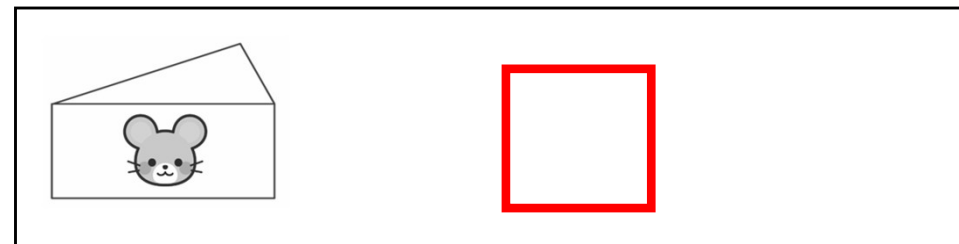

大ききの違ふ箱がいくつあるのて、箱の中に箱を入れています。

パンダの箱のひとつ中に、ウサギの箱を入れます。

ウサギの箱のひとつ中に、ネズミの箱を入れます。

ネズミの箱のひとつ中に、ライオンの箱を入れます。

一番外側の箱に丸、二番目の箱に三角、三番目の箱に四角、一番内側の箱に×を描きましょう。(熊猫、兎、鼠、獅子)



大ききの違ふ箱がいくつあるのて、箱の中に箱を入ていきます。


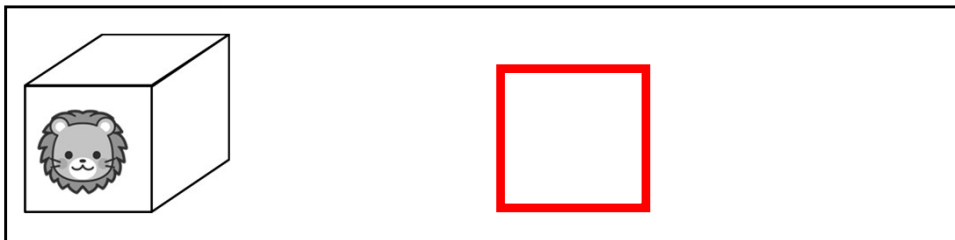


犬の箱は、ライオンの箱のひとつ中にあります。

ライオンの箱は、猫の箱のひとつ中にあります。

猫の箱は、兎の箱のひとつ中にあります。

一番外側の箱に丸、二番目の箱に三角、三番目の箱に四角、一番内側の箱に×を描きましよう。

(兎、猫、獅子、犬、)





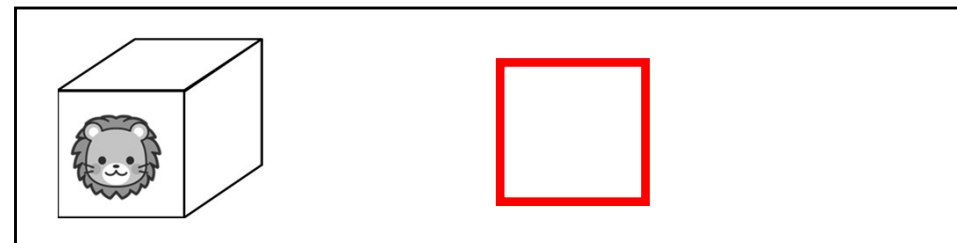
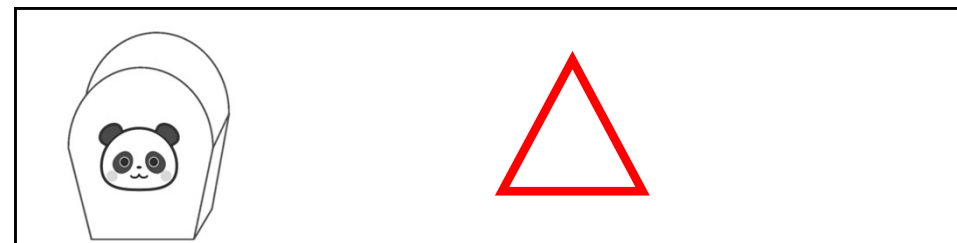
大ききの違ふ箱がいくつあるのて、箱の中に箱を入ていきます。

ネズミの箱は、ライオンの箱のひとつ中にあります。

ライオンの箱は、パンダの箱のひとつ中にあります。

パンダの箱は、ウサギの箱のひとつ中にあります。

一番外側の箱に丸、二番目の箱に三角、三番目の箱に四角、一番内側の箱に×を描きましよう。(兎、熊猫、獅子、鼠)



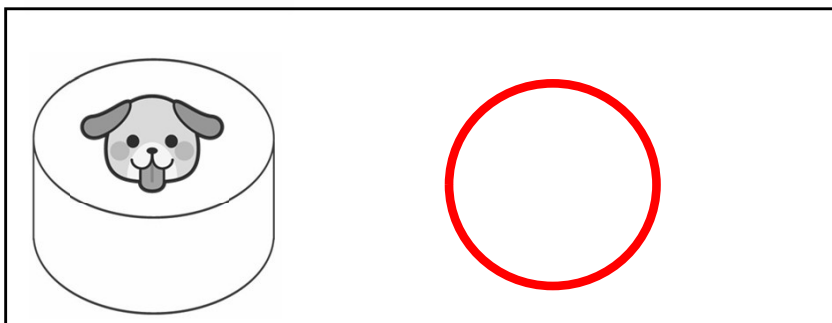
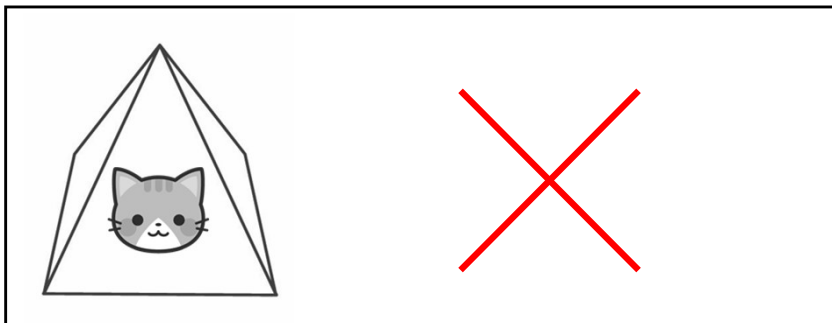
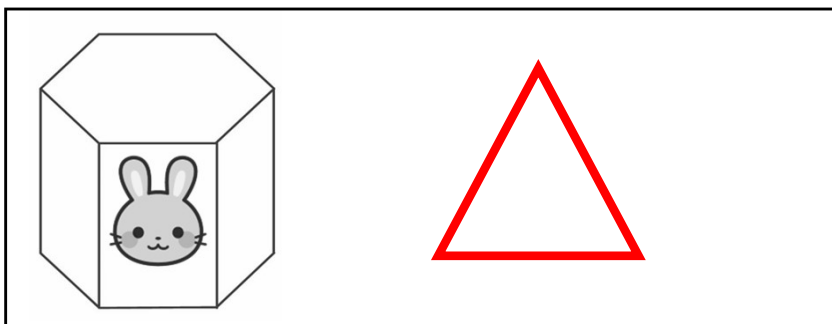
大きさの違う箱がいくつかあるので、箱の中に箱を入れていきます。

犬の箱のひとつ中に、兎の箱を入れます。

兎の箱の中に、箱が一つだけ入っています。

猫の箱の中には、どの箱も入っていません。

一番外側の箱に丸、二番目の箱に三角、一番内側の箱に×を描きましょう。（犬、兎、猫）



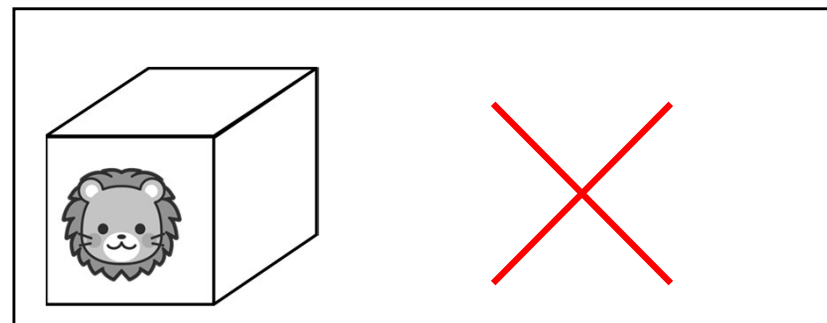
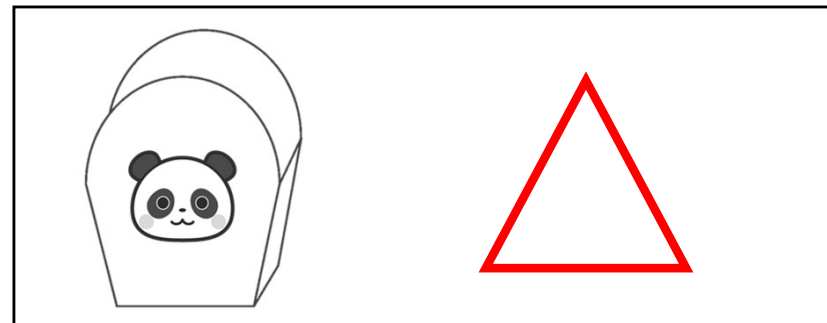
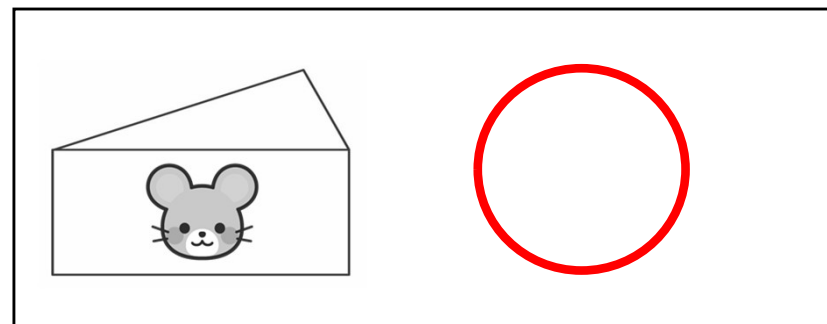
大きさの違う箱がいくつかあるので、箱の中に箱を入れていきます。

ネズミの箱のひとつ中に、パンダの箱を入れます。

パンダの箱の中に、箱が一つだけ入っています。

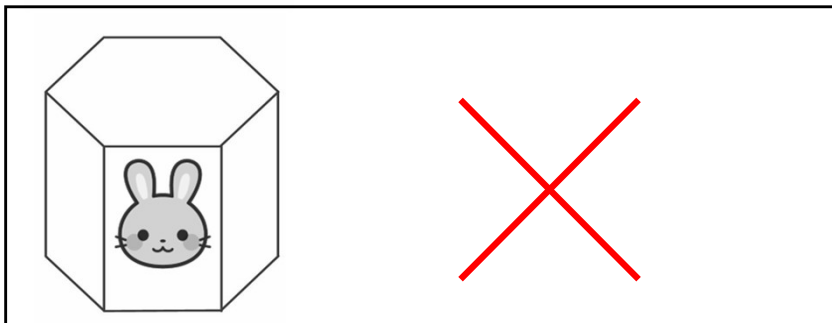
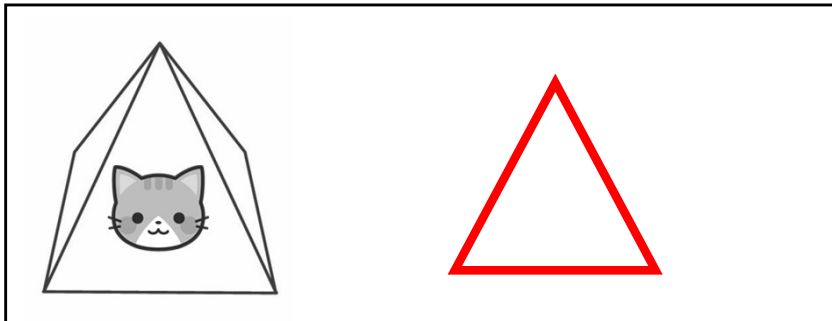
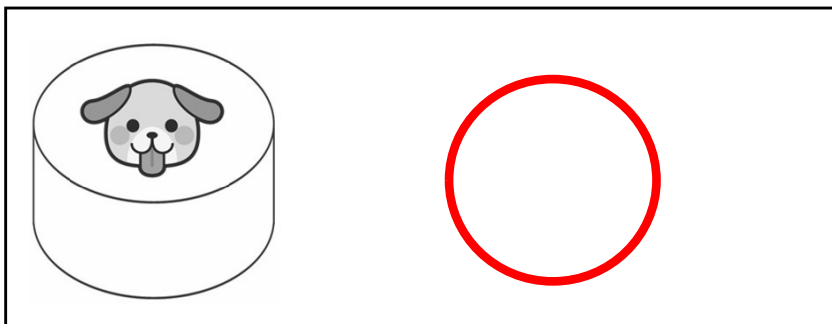
ライオンの箱の中には、どの箱も入っていません。

一番外側の箱に丸、二番目の箱に三角、一番内側の箱に×を描きましょう。（鼠、熊猫、獅子）



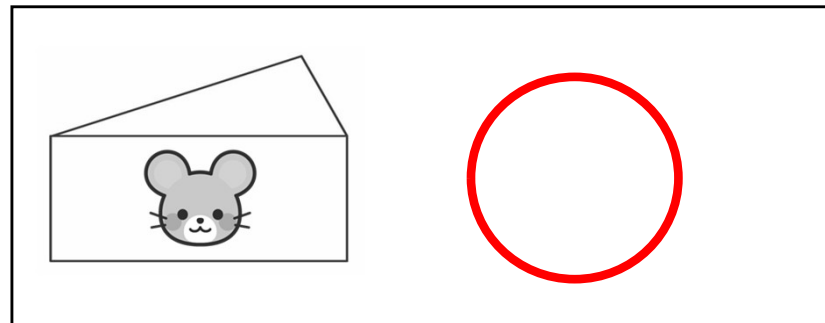
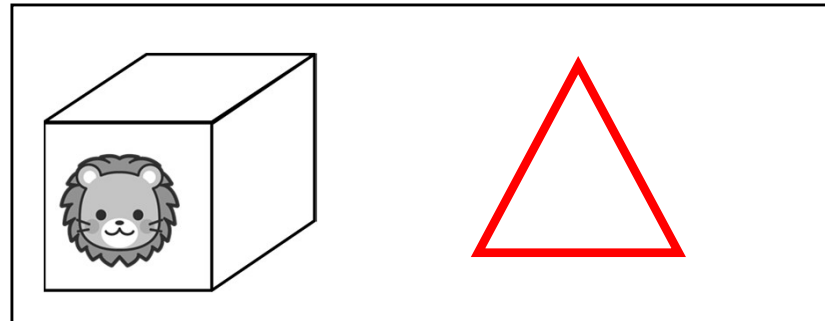
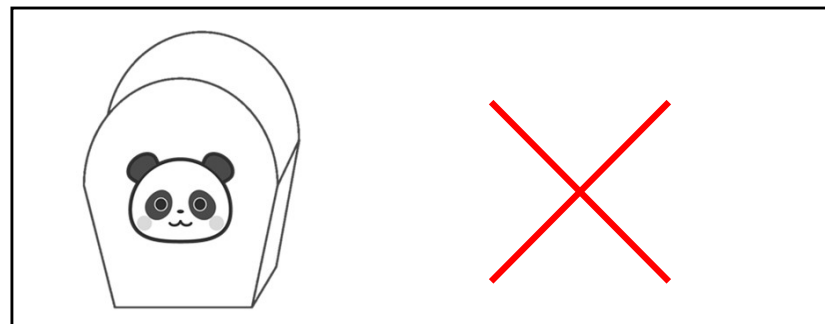
大ききの違ふ箱がいくつあるのか、箱の中に箱を入れています。  
ウサギの箱の中には、どの箱も入っていません。  
猫の箱の中に、箱が一つだけ入っています。  
犬の箱のひとつ中に、猫の箱を入れます。

一番外側の箱に丸、二番目の箱に三角、一番内側の箱に×を描きましょう。（犬、猫、兎）



大ききの違ふ箱がいくつあるのか、箱の中に箱を入れています。  
パンダの箱の中には、どの箱も入っていません。  
ライオンの箱の中に、箱が一つだけ入っています。  
ネズミの箱のひとつ中に、ライオンの箱を入れます。

一番外側の箱に丸、二番目の箱に三角、一番内側の箱に×を描きましょう。（鼠、獅子、熊貓）





大ききの違ふ箱がいくつあるのて、箱の中に箱を入れています。




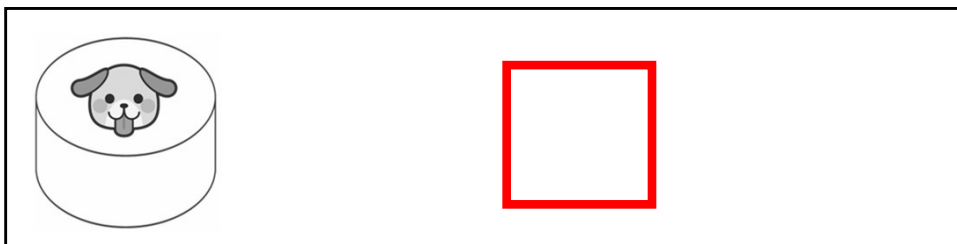
兎の箱のひとつ中に、ライオンの箱を入れます。

ライオンの箱の中に、箱が二つ入っています。

猫の箱の中には、どの箱も入っていません。

一番外側の箱に丸、二番目の箱に三角、三番目の箱に四角、一番内側の箱に×を描きましょう。

(兎、獅子、犬、猫)



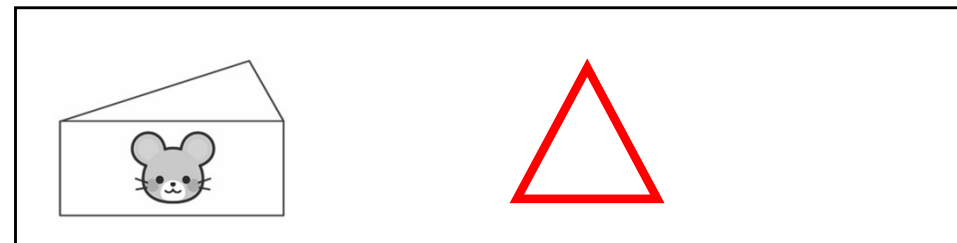

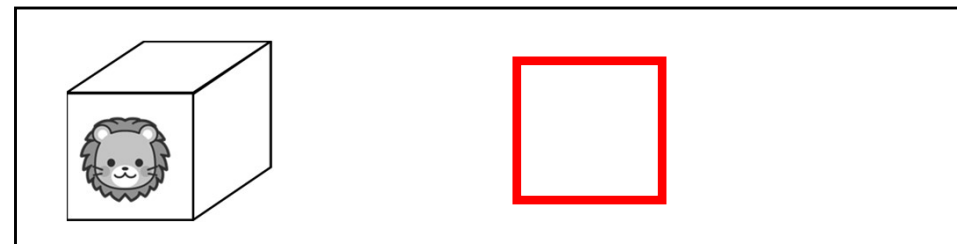

大ききの違ふ箱がいくつあるのて、箱の中に箱を入れています。

兎の箱のひとつ中に、ネズミの箱を入れます。

ねずみの箱の中に、箱が二つ入っています。

パンダの箱の中には、どの箱も入っていません。

一番外側の箱に丸、二番目の箱に三角、三番目の箱に四角、一番内側の箱に×を描きましょう。(兎、鼠、獅子、熊猫)



大ききの違ふ箱がいくつあるのて、箱の中に箱を入れています。


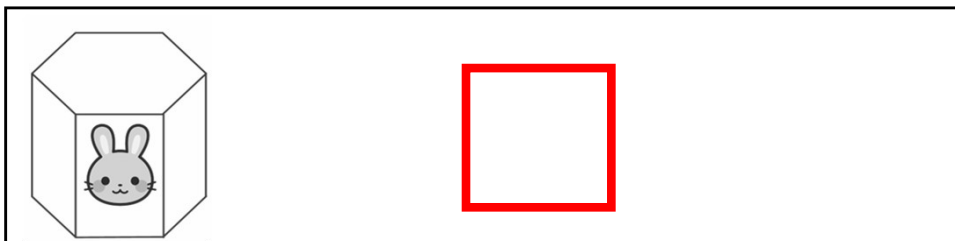


猫の箱の中には、どの箱も入っていません。

犬の箱の中に、箱が二つ入っています。

ライオンの箱のひとつ中に、犬の箱を入れます。

一番外側の箱に丸、二番目の箱に三角、三番目の箱に四角、一番内側の箱に×を描きましょう。

(獅子、犬、兎、猫)



大ききの違ふ箱がいくつあるのて、箱の中に箱を入れています。

ネズミの箱の中には、どの箱も入っていません。

ウサギの箱の中に、箱が二つ入っています。

ライオンの箱のひとつ中に、うさぎの箱を入れます。

一番外側の箱に丸、二番目の箱に三角、三番目の箱に四角、一番内側の箱に×を描きましょう。(獅子、兎、熊猫、鼠)

