


1 あたりの数

(3 5 一対多対応)

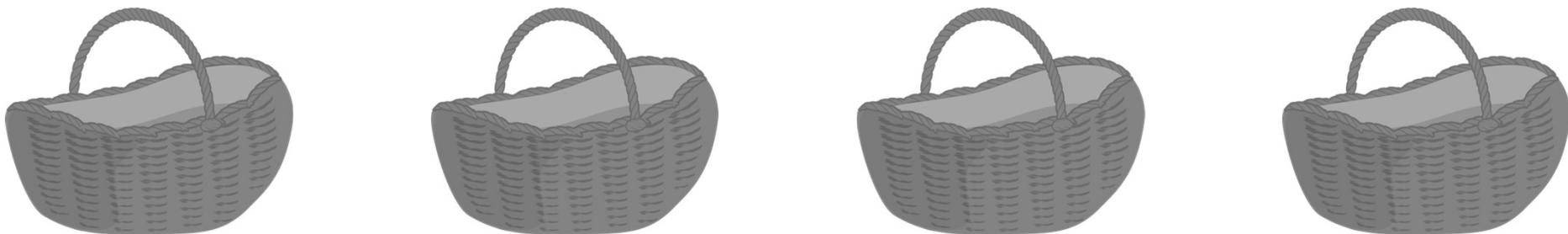
お皿の上にケーキを 2 個ずつ載せるには、ケーキはいくつ要りますか。その数だけ、下のお部屋に三角を描きましょう。



	
--	--


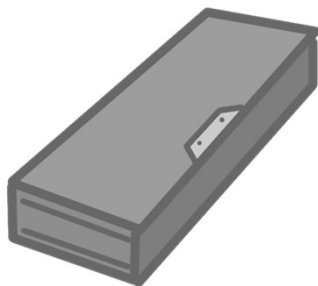
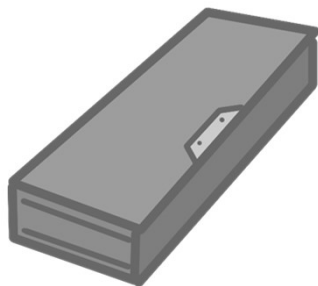


カゴの中に、リンゴが3個ずつ入っています。リンゴは全部で何個ありますか。その数だけ、下のお部屋に丸を描きましょう。



	
--	--

箱の中に鉛筆が4本ずつ入っています。鉛筆は全部で何本ありますか。その数だけ、下のお部屋に丸を描きましょう。



	
--	--

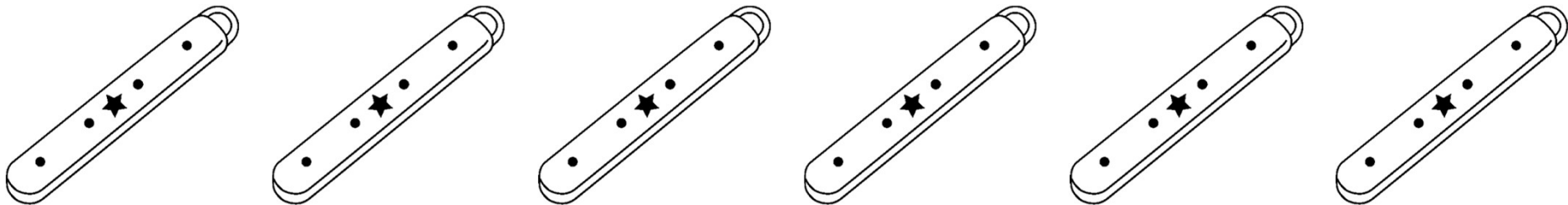
5 人の子供がそれぞれ飴玉を 5 個ずつ持っています。飴玉は全部で何個ありますか。その数だけ、下のお部屋に丸を描きましょう。



--	--








箸が1膳入った箸箱が6個あります。箸は全部で何本ありますか。その数だけ、下のお部屋に丸を描きましょう。





	
--	--



三輪車が5台あります。タイヤは全部でいくつありますか。その数だけ、下のお部屋に丸を描きましょう。




	
--	--

自動車が4台あります。タイヤはぜんぶでいくつありますか。その数だけ、下のお部屋に丸を描きましょう。














	
--	--





色々な乗り物があります。ここにある絵の乗り物のタイヤは、全部いくつありますか。その数だけ、下のお部屋に丸を描きましょう。




	
---	--

色々な乗り物があります。ここにある絵の乗り物のタイヤは、全部いくつありますか。その数だけ、下のお部屋に丸を描きましょう。




	
---	--

1. 子供が5 人います。ドーナツを一人2 個ずつ食べると、ドーナツは全部でいくつ要りますか。その数だけ、下のお部屋に丸を描きましょう。
2. いちごを一人3 個ずつ食べると、いちごは全部でいくつ要りますか。その数だけ、下のお部屋に三角を描きましょう。




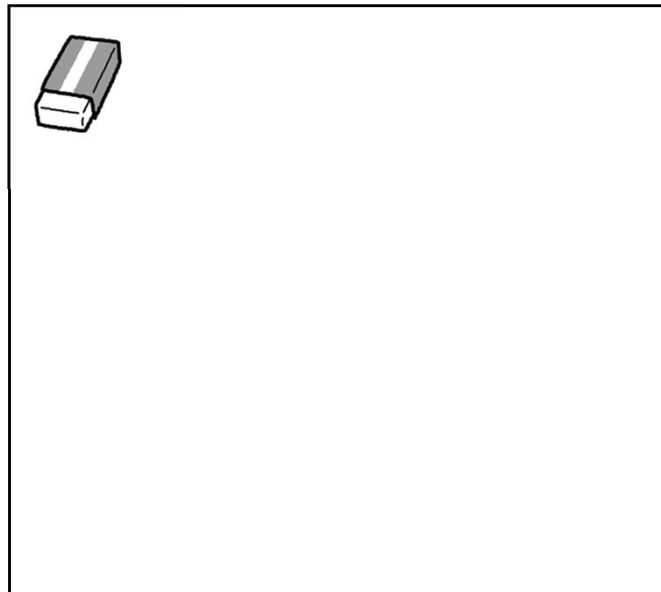
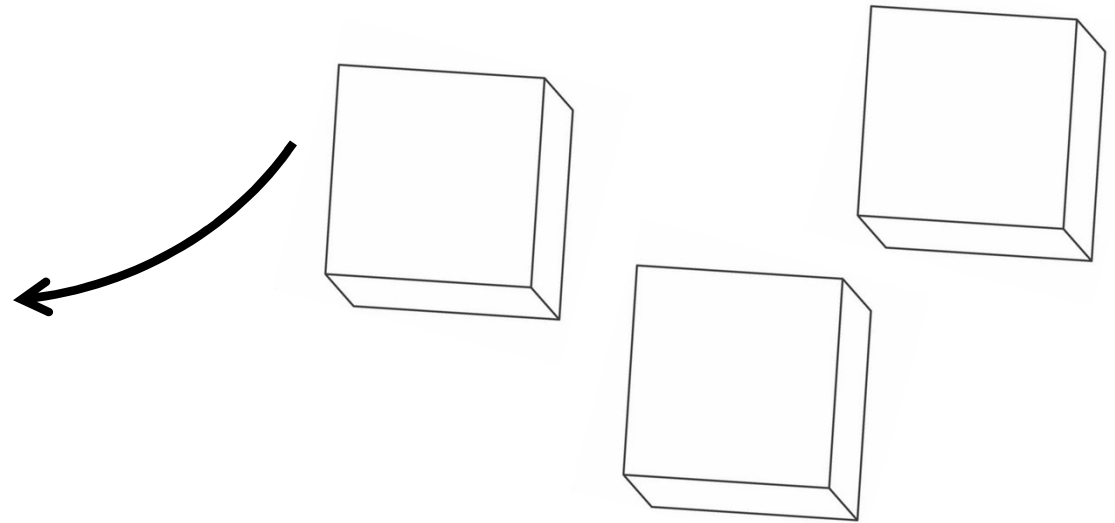
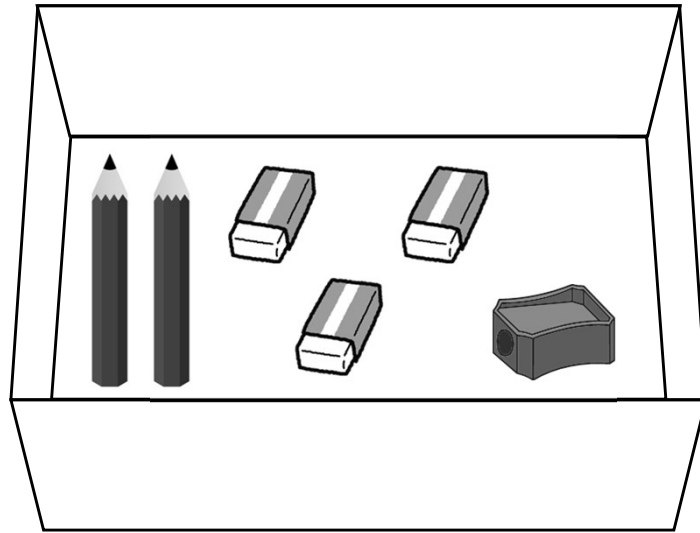
1. 自動車1台に3人ずつ乗っています。人は全部で何人いますか。その数だけ、下のお部屋に丸を描きましょう。





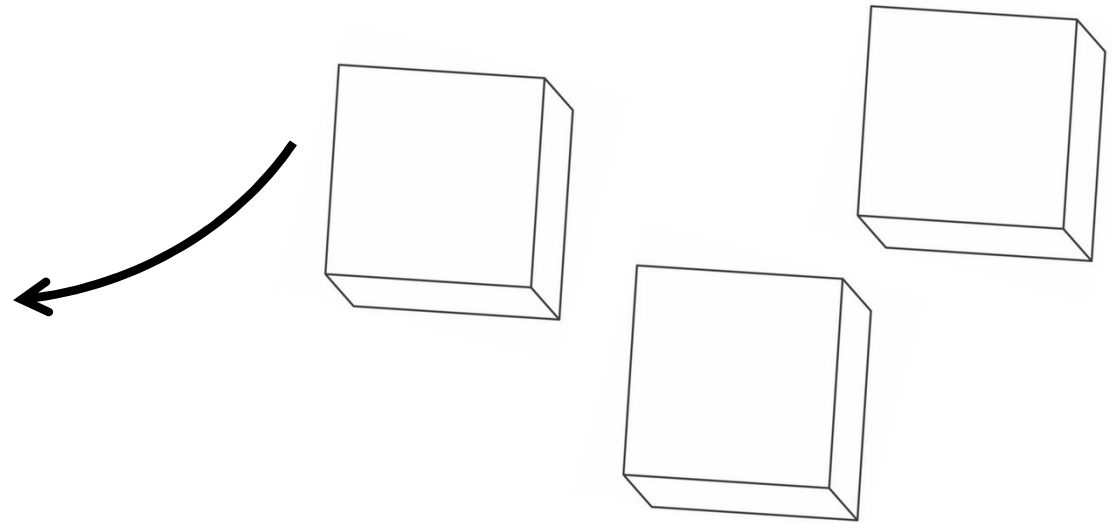
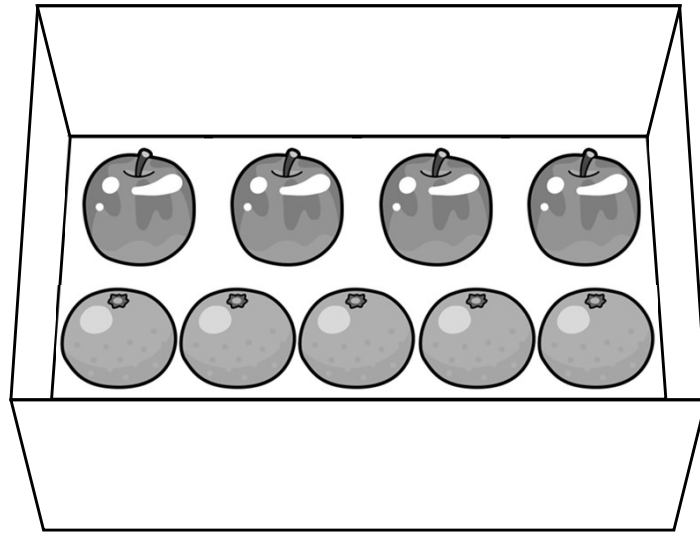
2. 1皿に2個ずつ苺を載せます。苺は全部で幾つになりますか。その数だけ、下のお部屋に丸を描きましょう。



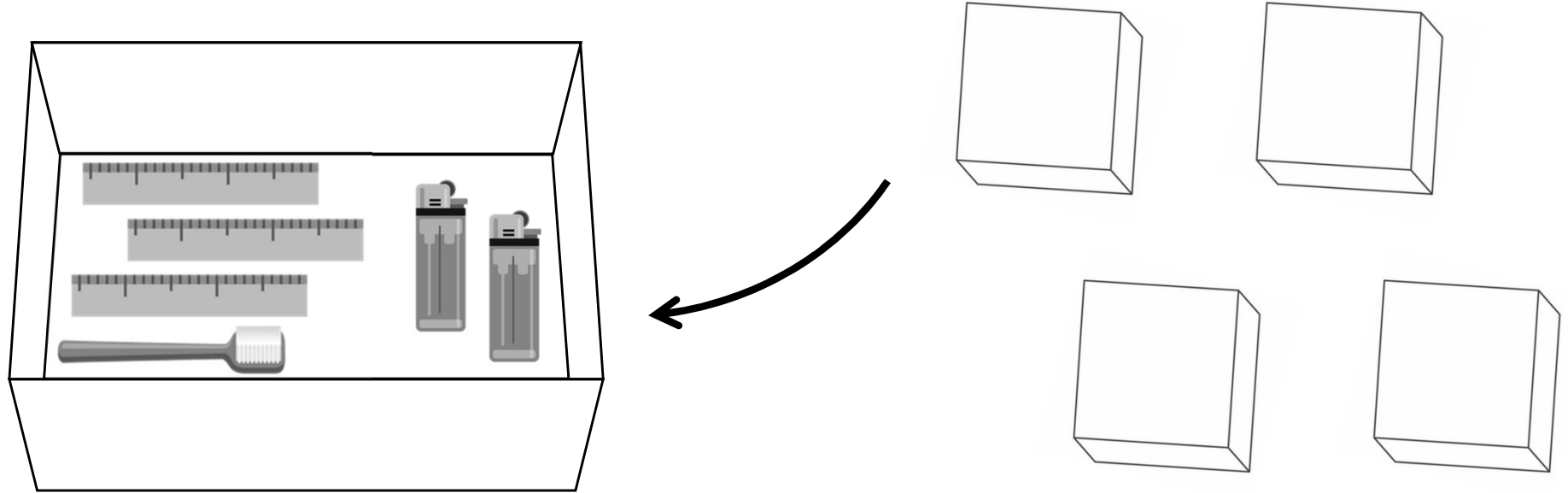
同じものが入っている箱が3箱あります。一つを開けてみると、下のように入っていました。3箱とも開けると、それぞれの物は、合わせていくつになりますか。その数だけ、それぞれのお部屋に丸を描きましょう。



同じものが入っている箱が3箱あります。一つを開けてみると、下のように入っていました。3箱とも開けると、それぞれの物は、合わせていくつになりますか。その数だけ、それぞれのお部屋に丸を描きましょう。


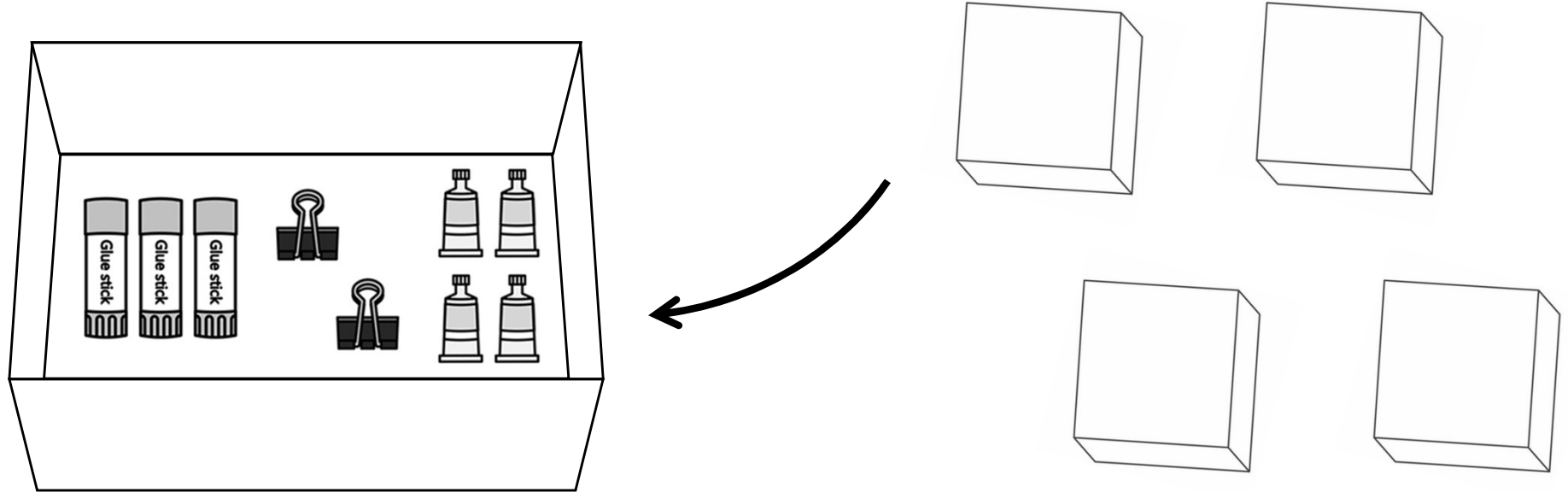


同じものが入っている箱が4箱あります。一つを開けてみると、下のように入っていました。4箱とも開けると、それぞれの物は、合わせていくつになりますか。その数だけ、それぞれのお部屋に丸を描きましょう。



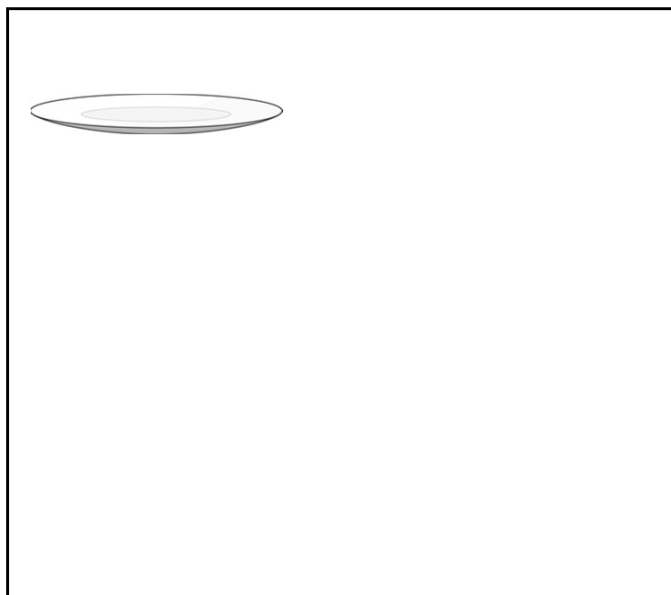


		
--	--	--

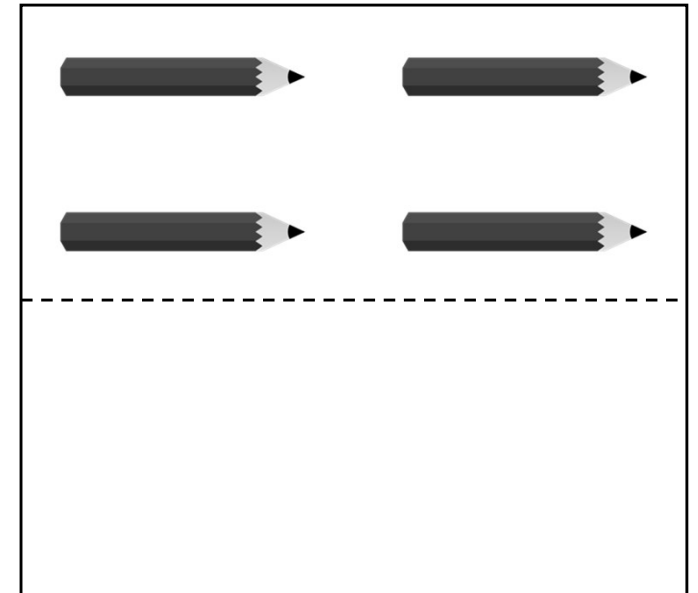
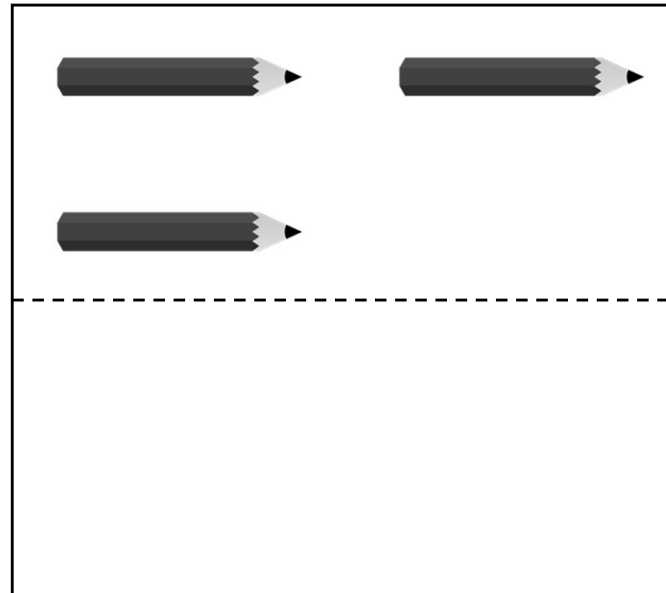
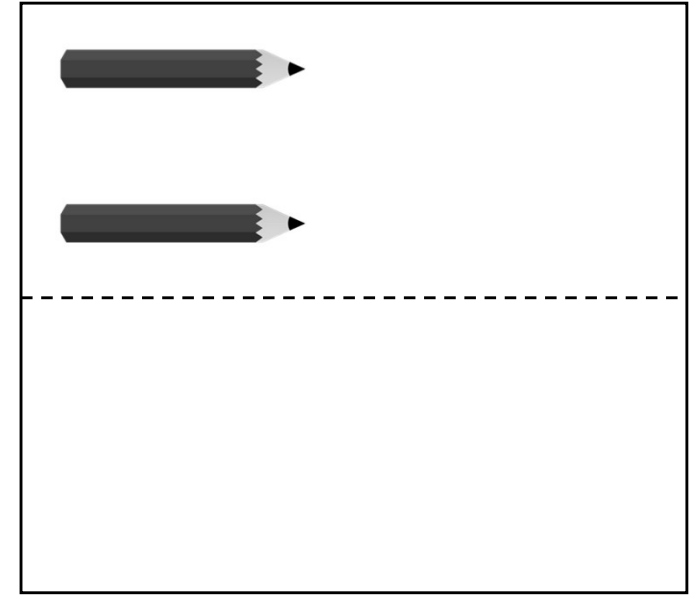
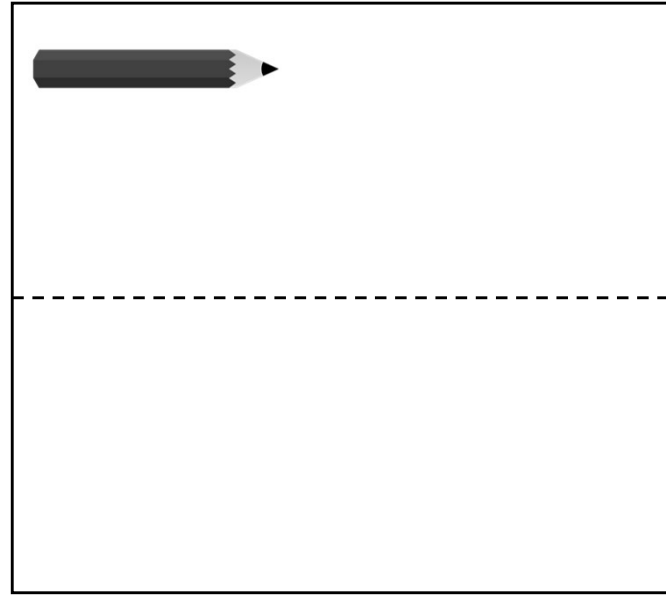
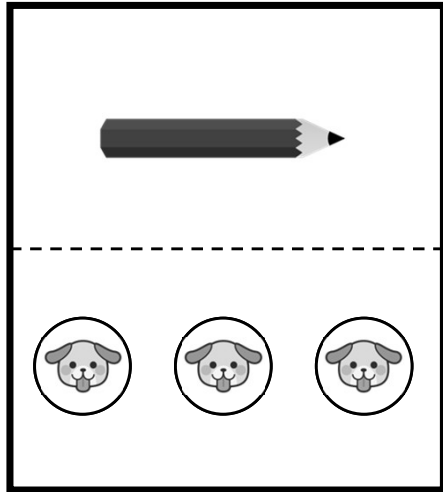
同じものが入っている箱が4箱あります。一つを開けてみると、下のようなものが入っていました。4箱とも開けると、それぞれの物は、合わせていくつになりますか。その数だけ、それぞれのお部屋に丸を描きましょう。



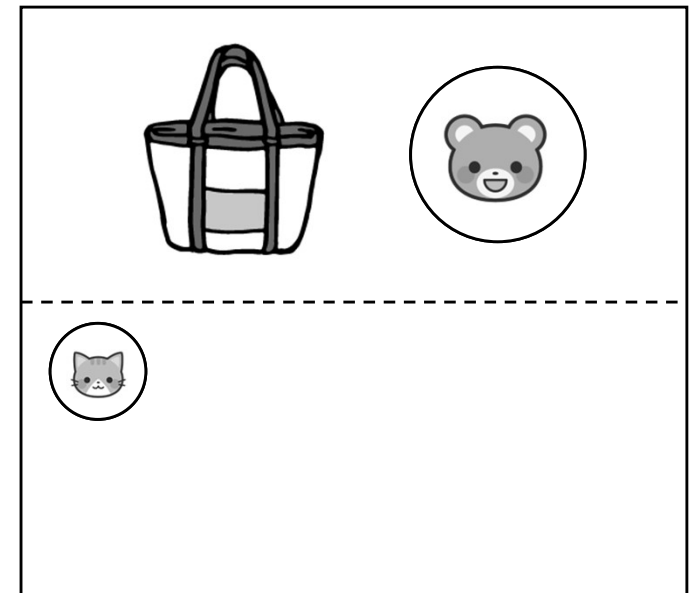
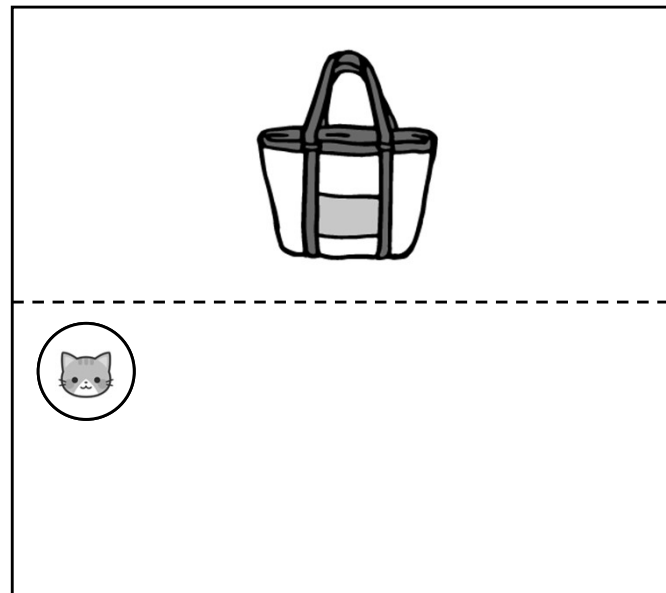
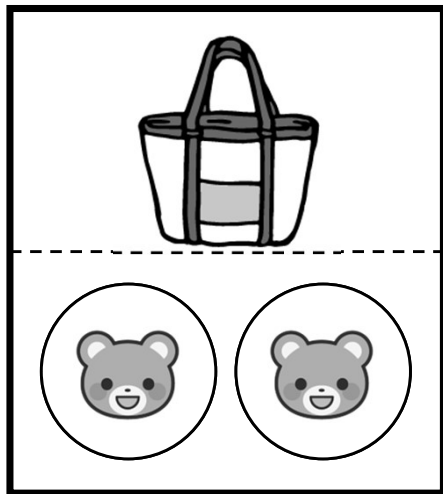
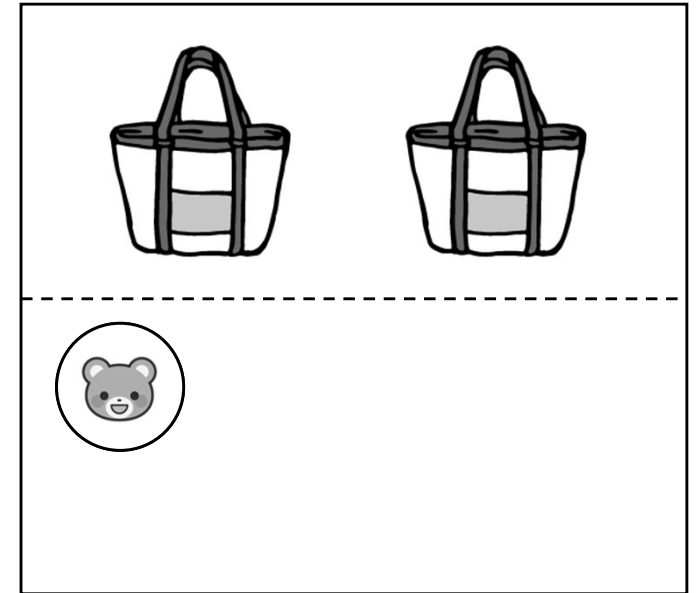
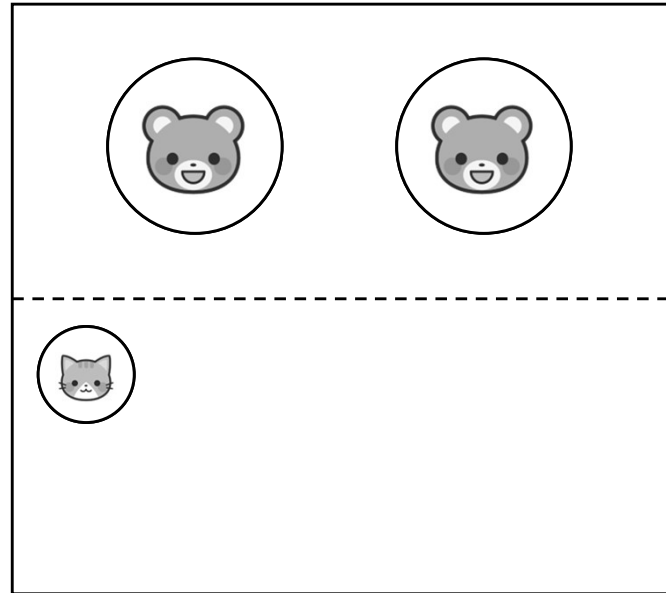
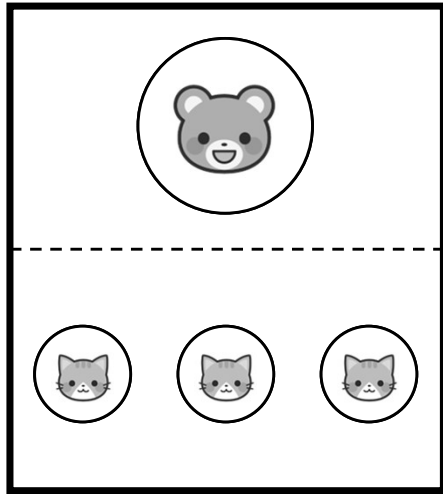
下のようなケーキを3つ作ろうと思います。お皿、蝋燭、いちごはそれぞれいくつ要りますか。それぞれ要る数だけ、お部屋に丸を描きましょう。







シールを3枚集めると、鉛筆が1本もらえます。それぞれのお部屋にある鉛筆をもらうには、シールを何枚集めれば良いでしょうか。その数だけ、お部屋の中に丸を描きましょう。






猫のシールを3枚集めると熊のシールを1枚もらえます。そして熊のシールを2枚集めると、カバンが一つもらえます。それぞれの上のお部屋にあるものをもらうには、点線のお部屋のシールを何枚集めれば良いでしょうか。その数だけ、お部屋の中に丸を描きましょう。




一つのコーンの後ろに2人ずつ並んでいきます。全部のコーンの後ろに同じように並ぶと、全員で何人並ぶことになりますか。その数だけ、下のお部屋の中に丸を描きましょう。



一つのコーンの後ろに3人ずつ並んでいきます。全部のコーンの後ろに同じように並ぶと、全員で何人並ぶことになるですか。その数だけ、下のお部屋の中に丸を描きましょう。



一つのコーンの後ろに2人ずつ並んでいきます。全部のコーンの後ろに同じように並ぶと、全員で何人並ぶことになるか。その数だけ、下のお部屋の中に丸を描きましょう。



お皿には、おにぎりを2個ずつ載せます。またかごには、おにぎりを3個ずつ入れます。全部のお皿の上のおにぎりの数と、全部のかごの中のおにぎりの数では、どちらがいくつ多いでしょうか。多い方のお部屋に、多い数だけ、丸を描きましょう。



お皿には、おにぎりを2個ずつ載せます。またかごには、おにぎりを3個ずつ入れます。全部のお皿の上のおにぎりの数と、全部のかごの中のおにぎりの数では、どちらがいくつ多いでしょうか。多い方のお部屋に、多い数だけ、丸を描きましょう。



お皿には、おにぎりを2個ずつ載せます。またかごには、おにぎりを3個ずつ入れます。全部のお皿の上のおにぎりの数と、全部のかごの中のおにぎりの数では、どちらがいくつ多いでしょうか。多い方のお部屋に、多い数だけ、丸を描きましょう。



お皿には、おにぎりを3個ずつ載せます。またかごには、おにぎりを5個ずつ入れます。全部のお皿の上のおにぎりの数と、全部のかごの中のおにぎりの数では、どちらがいくつ多いでしょうか。多い方のお部屋に、多い数だけ、丸を描きましょう。



お皿には、おにぎりを1個ずつ載せます。かごのそれぞれにも同じ数ずつおにぎりを入れて、全部のお皿の上のおにぎりの数と、全部のかごの中のおにぎりの数を同じにするためには、ひとつのかごには、いくつずつ入れたら良いでしょうか。その数だけ、かごのお部屋に丸を描きましょう。



お皿には、おにぎりを2個ずつ載せます。かごのそれぞれにも同じ数ずつおにぎりを入れて、全部のお皿の上のおにぎりの数と、全部のかごの中のおにぎりの数を同じにするためには、ひとつのかごには、いくつずつ入れたら良いでしょうか。その数だけ、かごのお部屋に丸を描きましょう。



お皿には、おにぎりを2個ずつ載せます。かごのそれぞれにも同じ数ずつおにぎりを入れて、全部のお皿の上のおにぎりの数と、全部のかごの中のおにぎりの数を同じにするためには、ひとつのかごには、いくつずつ入れたら良いでしょうか。その数だけ、かごのお部屋に丸を描きましょう。



お皿には、おにぎりを2個ずつ載せます。かごのそれぞれにも同じ数ずつおにぎりを入れて、全部のお皿の上のおにぎりの数と、全部のかごの中のおにぎりの数を同じにするためには、ひとつのかごには、いくつずつ入れたら良いでしょうか。その数だけ、かごのお部屋に丸を描きましょう。



お皿には、おにぎりを3個ずつ載せます。かごのそれぞれにも同じ数ずつおにぎりを入れて、全部のお皿の上のおにぎりの数と、全部のかごの中のおにぎりの数を同じにするためには、ひとつのかごには、いくつずつ入れたら良いでしょうか。その数だけ、かごのお部屋に丸を描きましょう。





解答

3 5 一対多対応

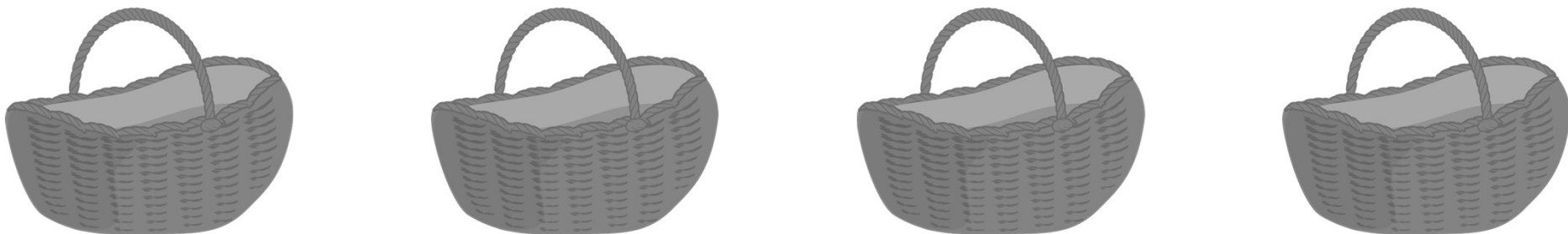
お皿の上にケーキを2個ずつ載せるには、ケーキはいくつ要りますか。その数だけ、下のお部屋に三角を描きましょう。





	
--	---


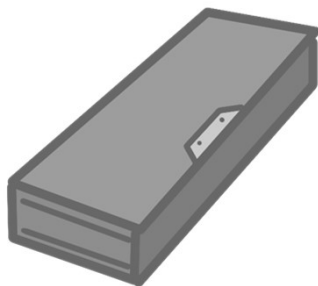
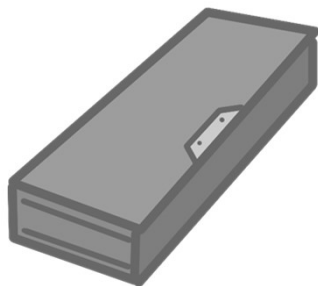




カゴの中に、リンゴが3個ずつ入っています。リンゴは全部で何個ありますか。その数だけ、下のお部屋に丸を描きましょう。



	
--	---



箱の中に鉛筆が4本ずつ入っています。鉛筆は全部で何本ありますか。その数だけ、下のお部屋に丸を描きましょう。



	
--	---

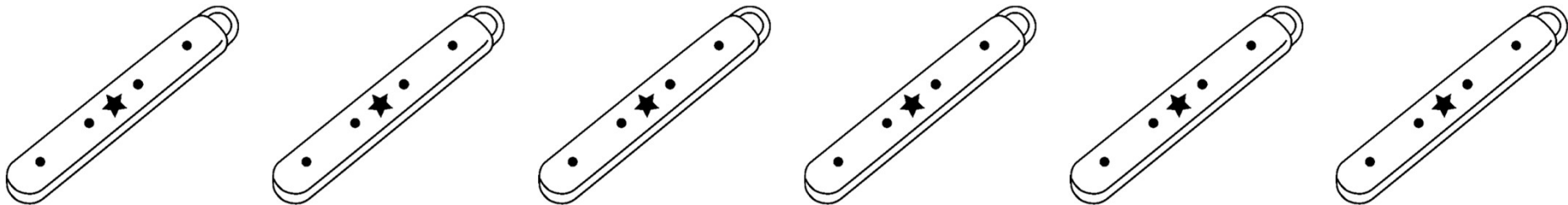
5 人の子供がそれぞれ飴玉を 5 個ずつ持っています。飴玉は全部で何個ありますか。その数だけ、下のお部屋に丸を描きましょう。





	
--	---




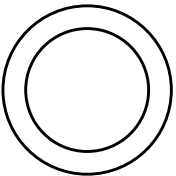

箸が1膳入った箸箱が6個あります。箸は全部で何本ありますか。その数だけ、下のお部屋に丸を描きましょう。



	
--	---


三輪車が5台あります。タイヤは全部でいくつありますか。その数だけ、下のお部屋に丸を描きましょう。





	
--	---









自動車が4台あります。タイヤはぜんぶでいくつありますか。その数だけ、下のお部屋に丸を描きましょう。


























	<div data-bbox="436 909 1579 1157"></div>
--	--






























色々な乗り物があります。ここにある絵の乗り物のタイヤは、全部いくつありますか。その数だけ、下のお部屋に丸を描きましょう。




	          
	          




























色々な乗り物があります。ここにある絵の乗り物のタイヤは、全部いくつありますか。その数だけ、下のお部屋に丸を描きましょう。



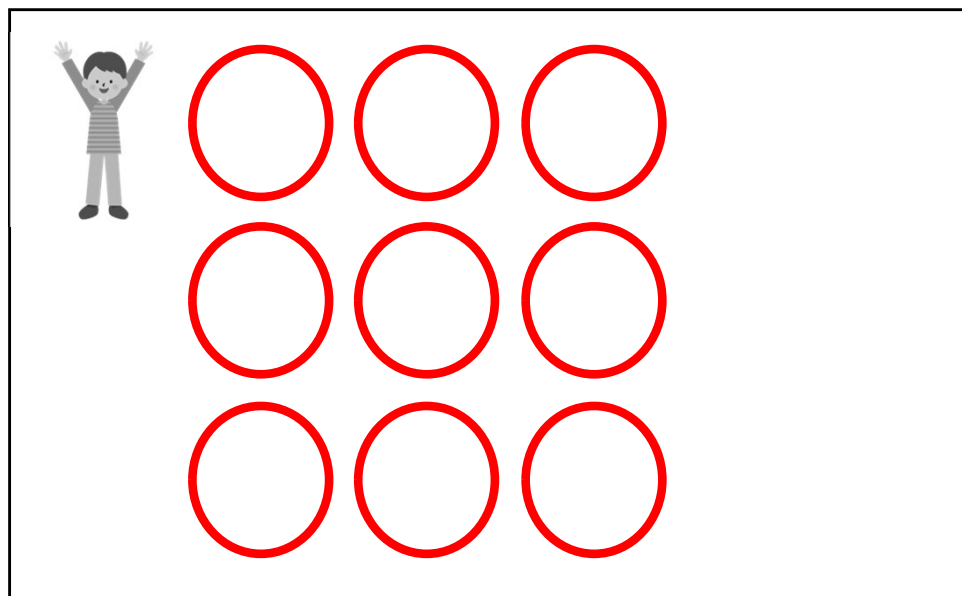

	         
	         
	    

1. 子供が5人います。ドーナツを一人2個ずつ食べると、ドーナツは全部でいくつ要りますか。その数だけ、下のお部屋に丸を描きましょう。
2. いちごを一人3個ずつ食べると、いちごは全部でいくつ要りますか。その数だけ、下のお部屋に三角を描きましょう。

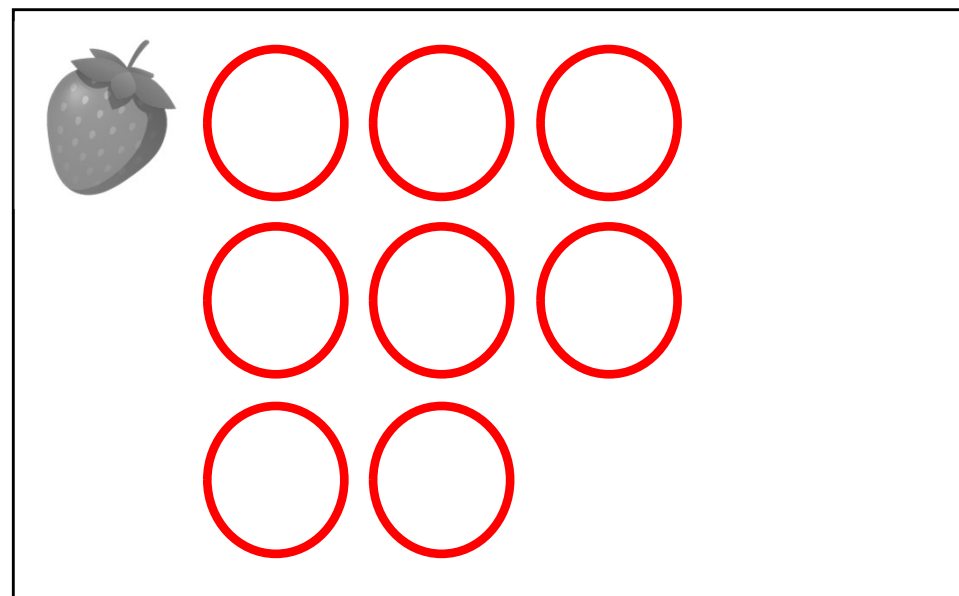
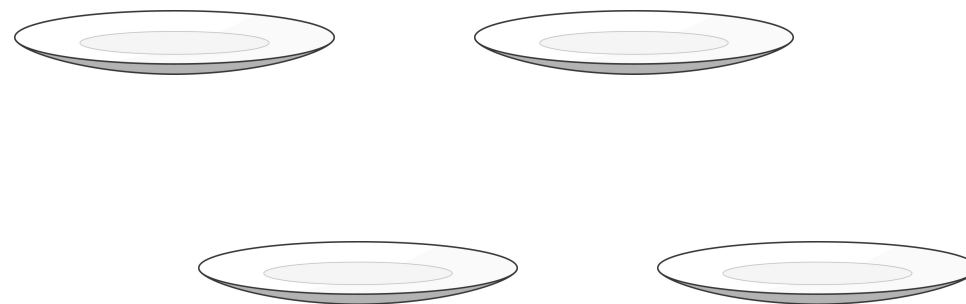


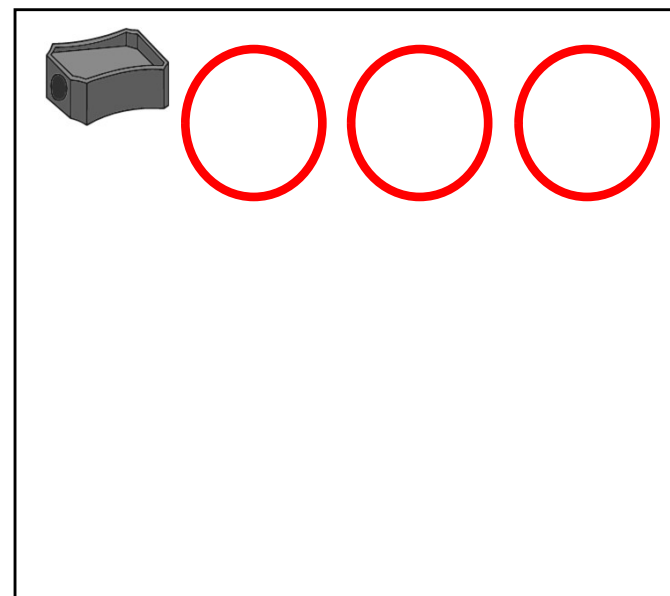
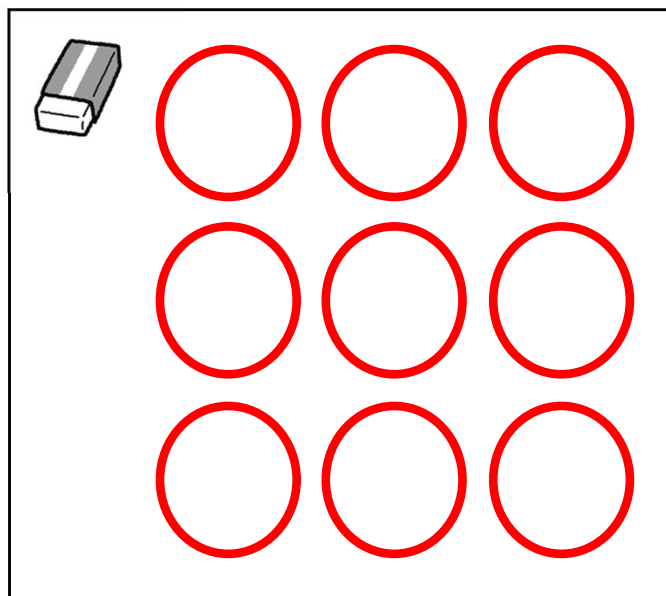
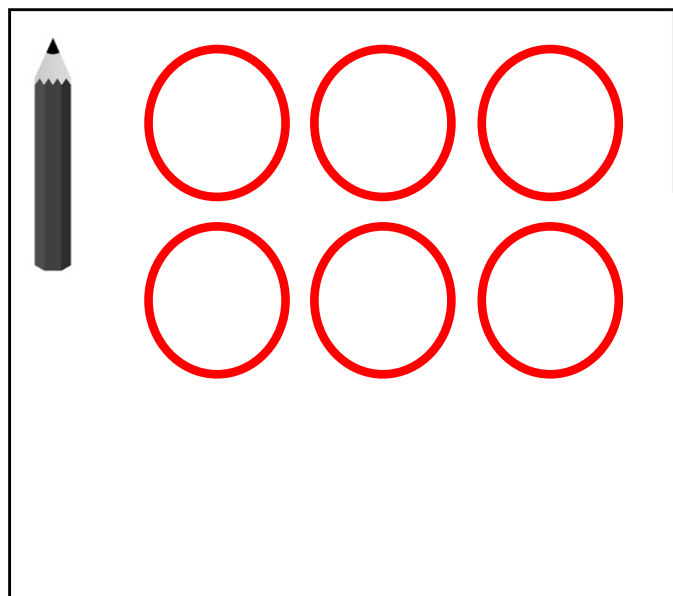

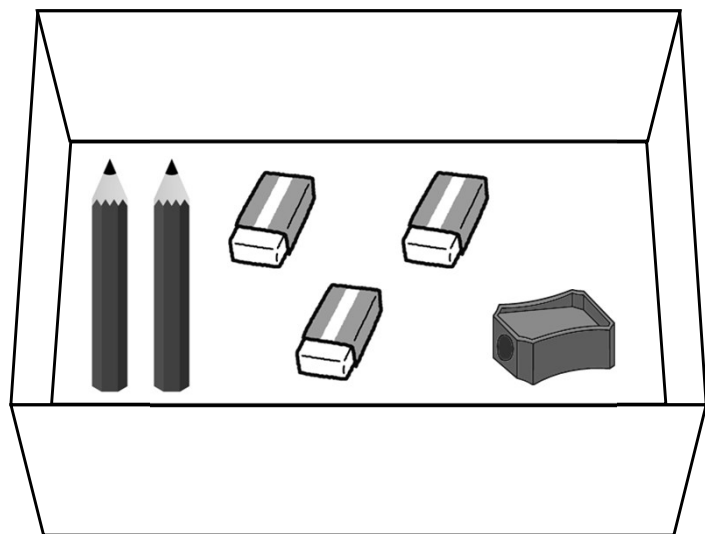
1. 自動車1台に3人ずつ乗っています。人は全部で何人いますか。その数だけ、下のお部屋に丸を描きましょう。



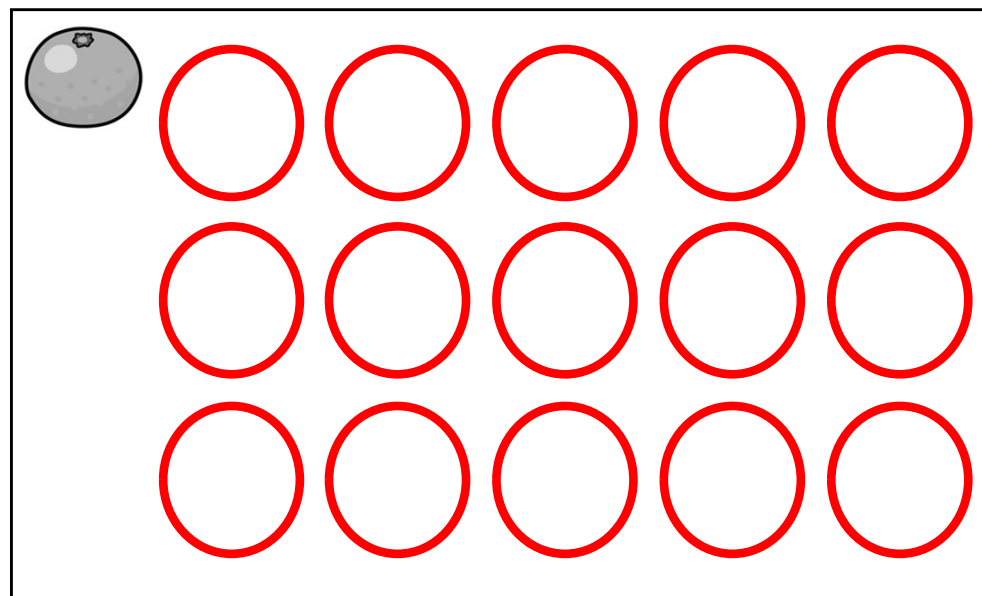
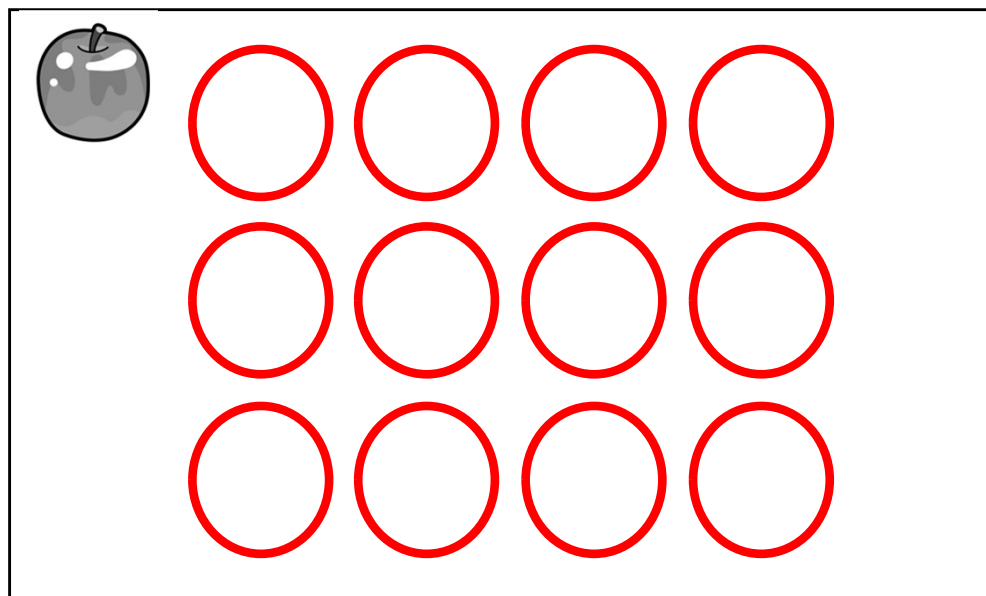

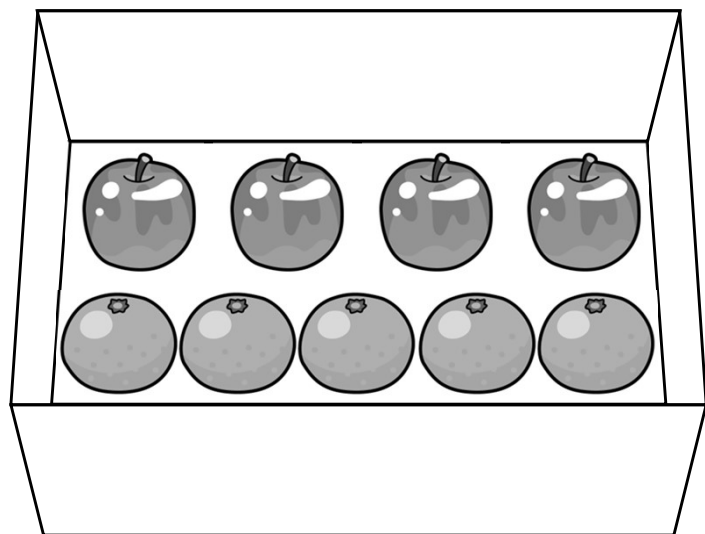
2. 1皿に2個ずつ苺を載せます。苺は全部で幾つになりますか。その数だけ、下のお部屋に丸を描きましょう。



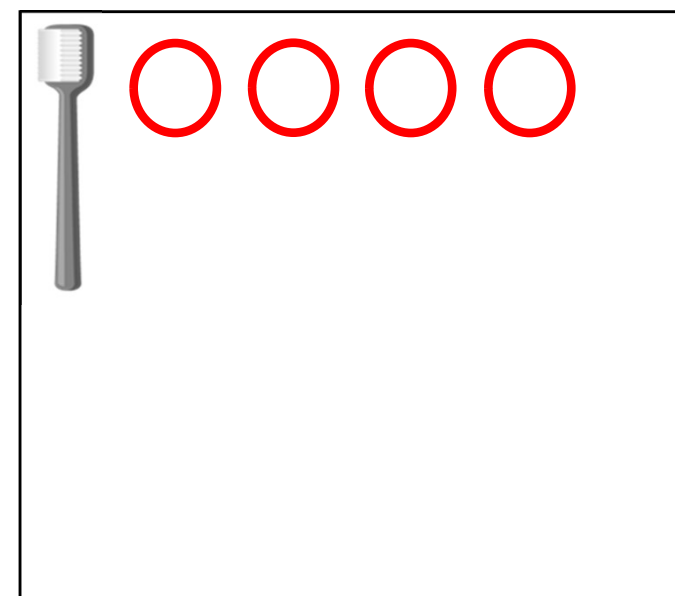
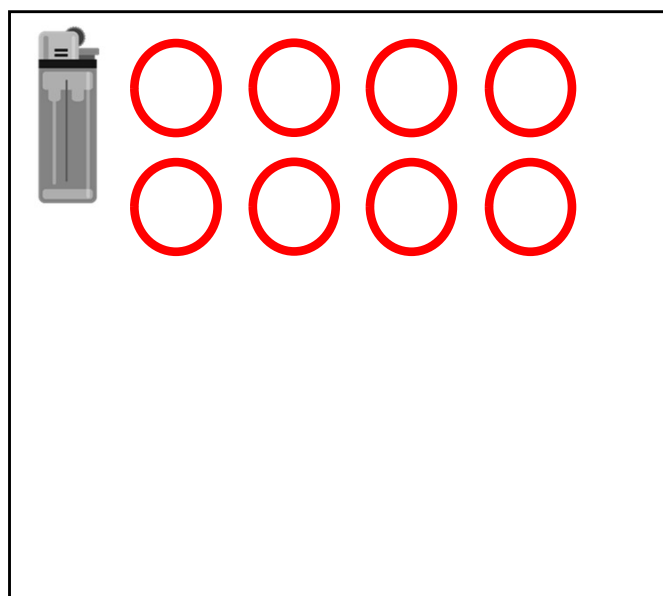
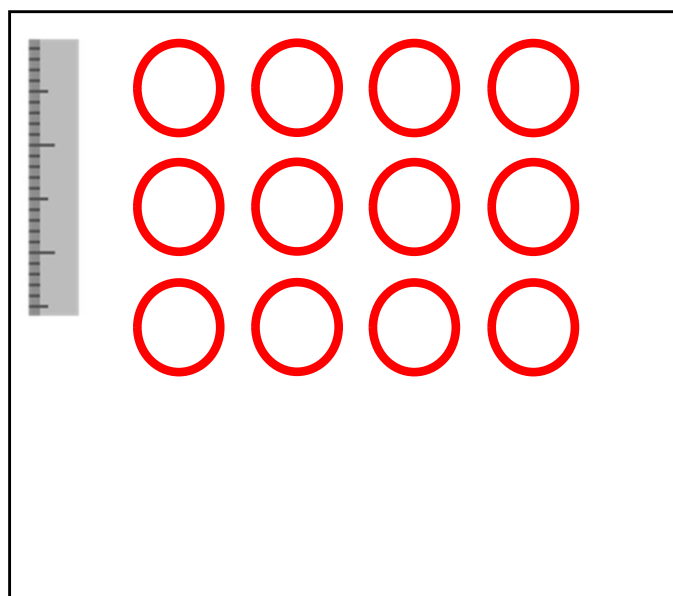
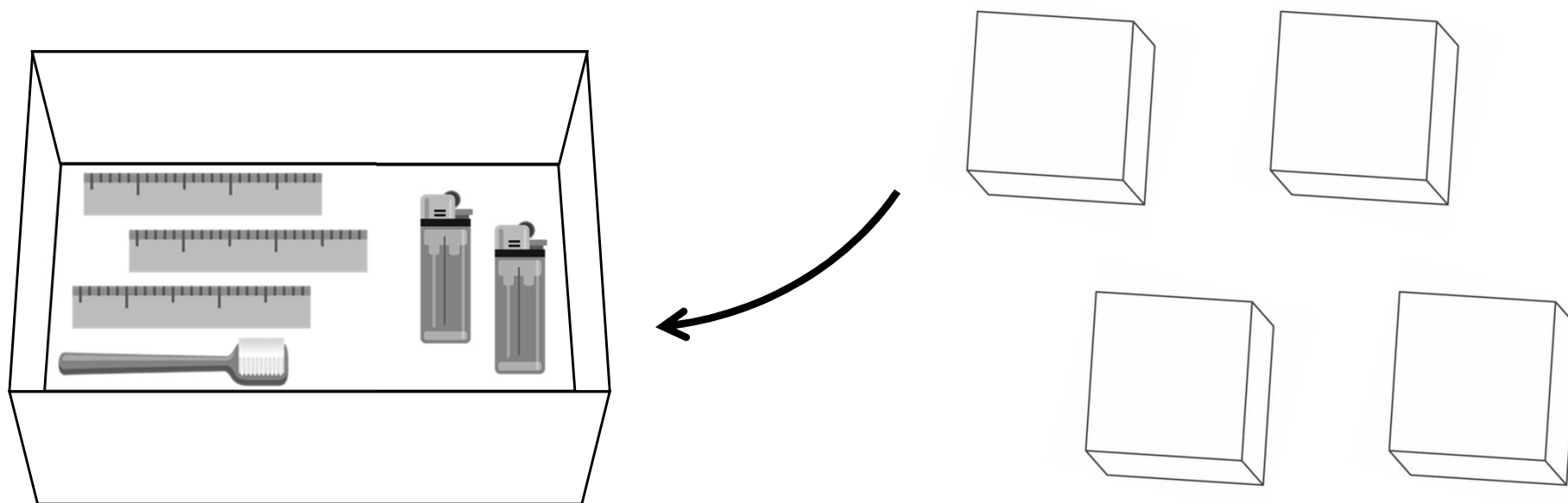
同じものが入っている箱が3箱あります。一つを開けてみると、下のように入っていました。3箱とも開けると、それぞれの物は、合わせていくつになりますか。その数だけ、それぞれのお部屋に丸を描きましょう。



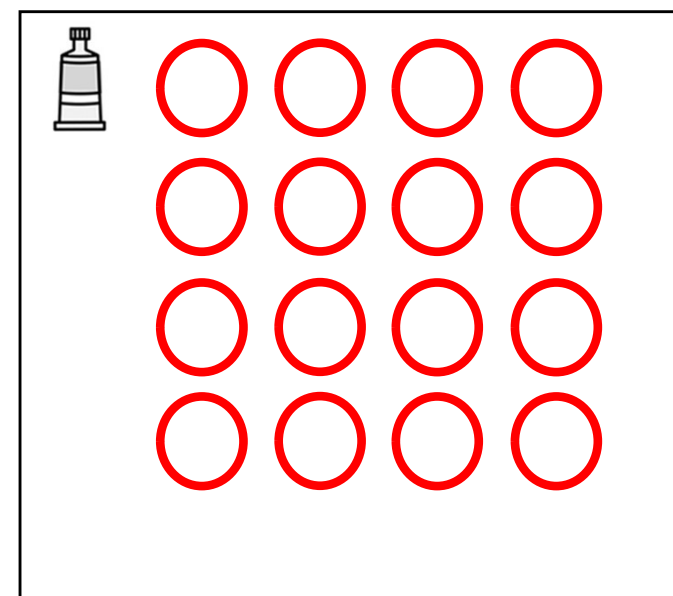
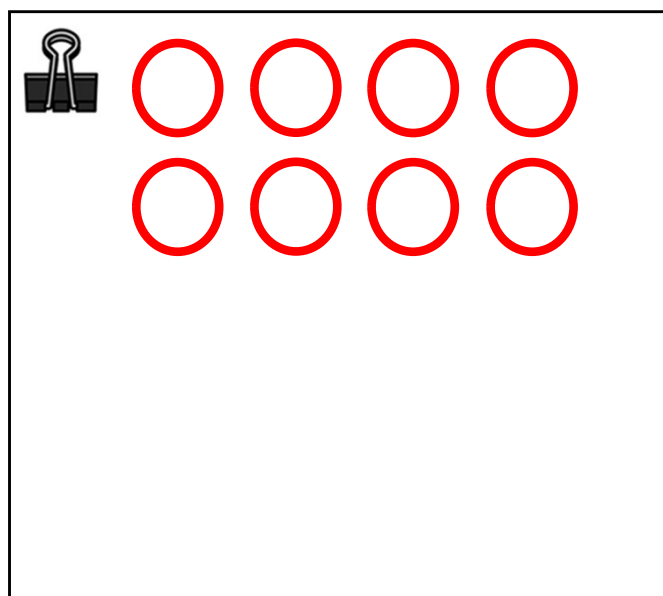
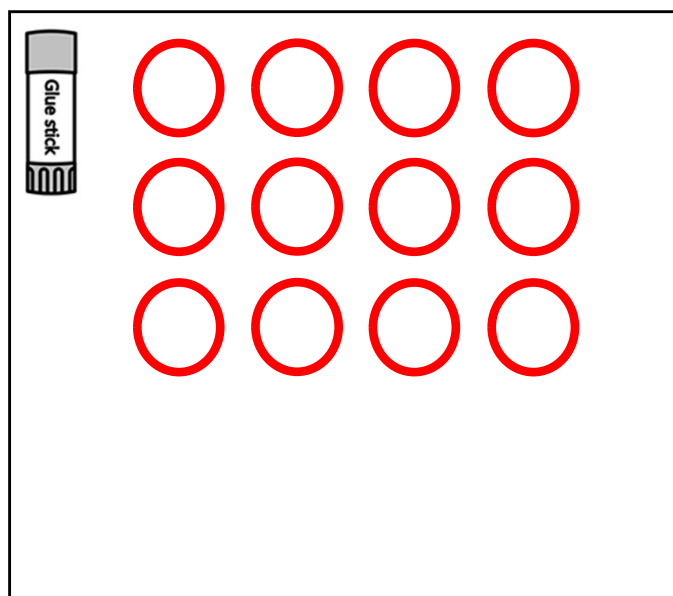
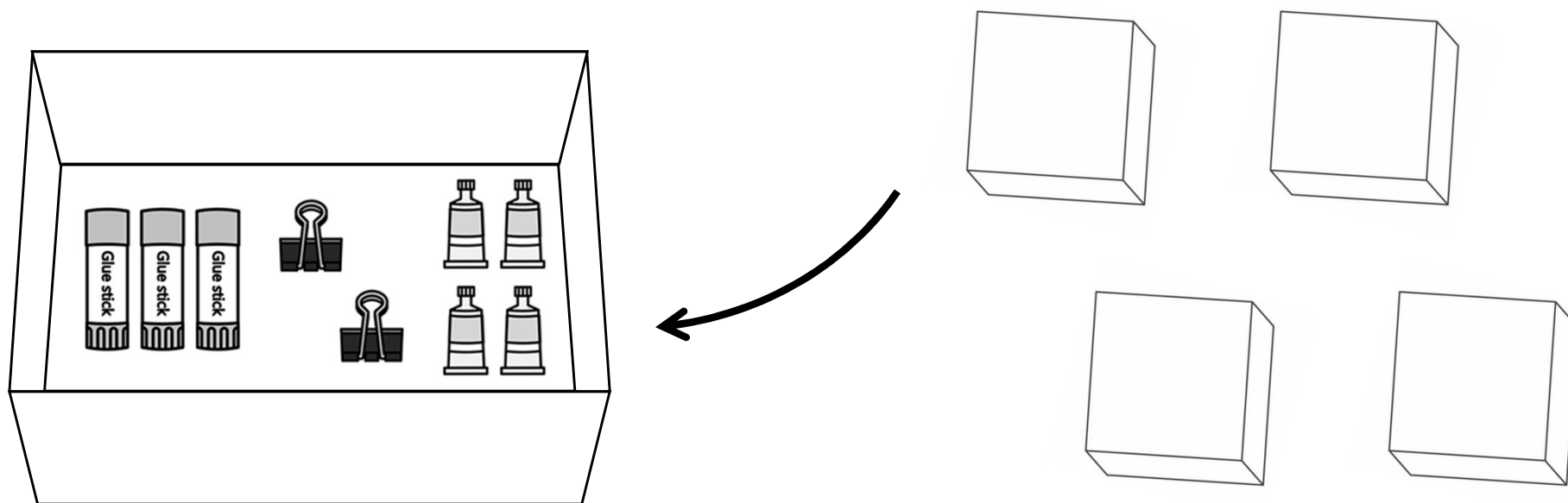
同じものが入っている箱が3箱あります。一つを開けてみると、下のようなものが入っていました。3箱とも開けると、それぞれの物は、合わせていくつになりますか。その数だけ、それぞれのお部屋に丸を描きましょう。



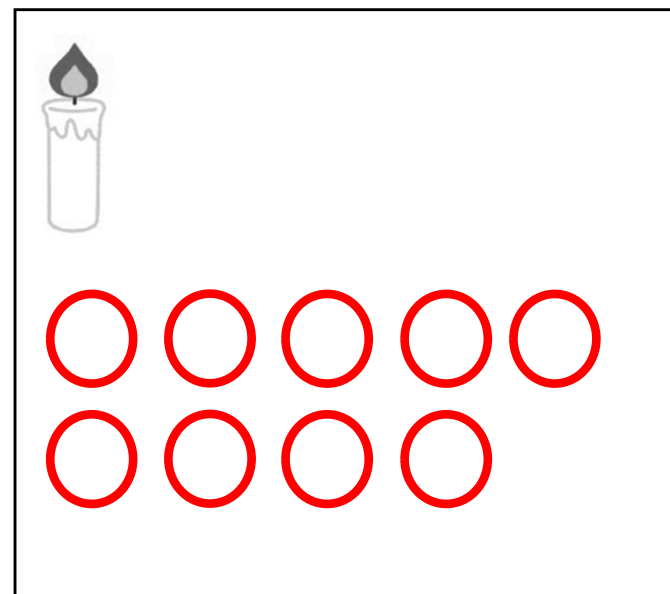

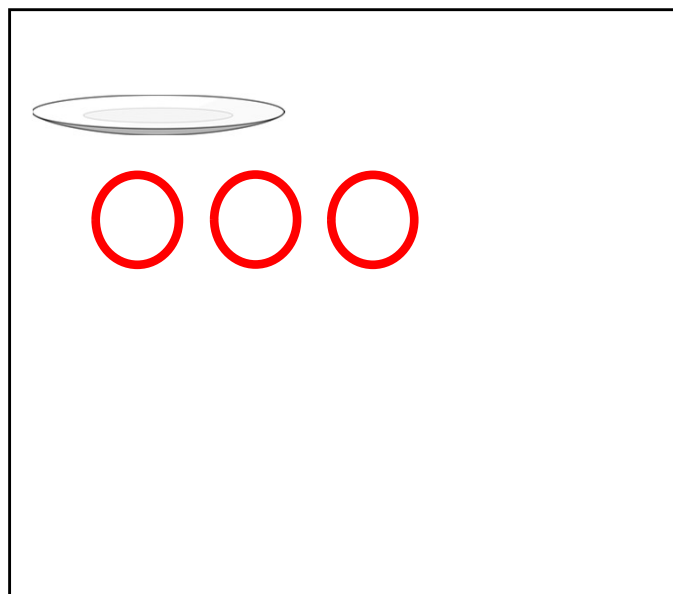
同じものが入っている箱が4箱あります。一つを開けてみると、下のようないろんなものが入っていました。4箱とも開けると、それぞれの物は、合わせていくつになりますか。その数だけ、それぞれのお部屋に丸を描きましょう。



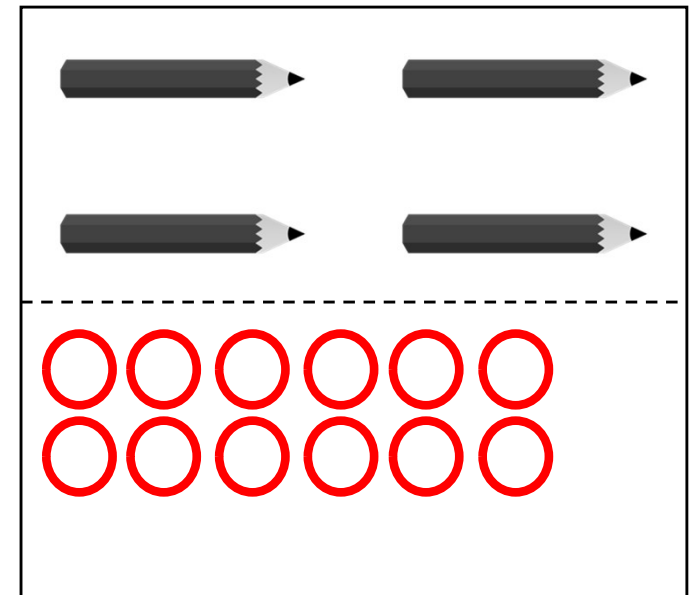
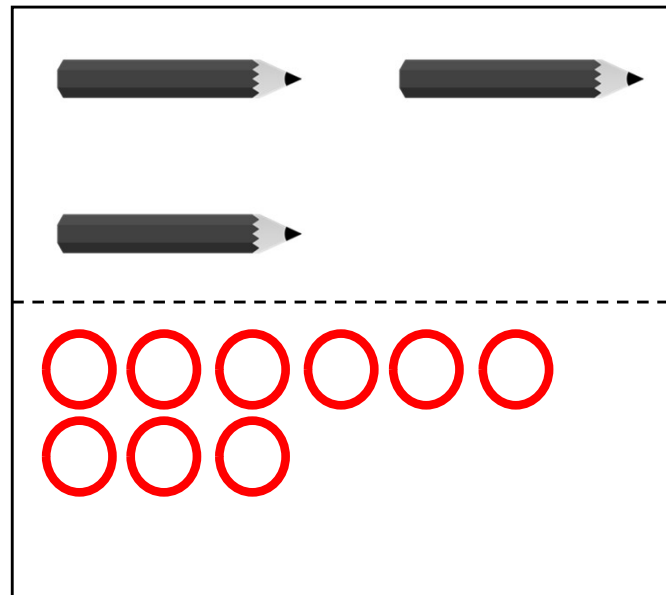
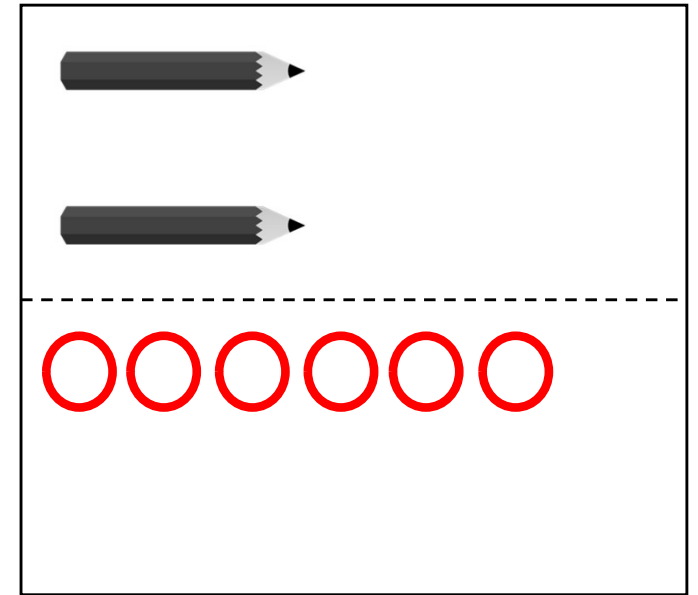
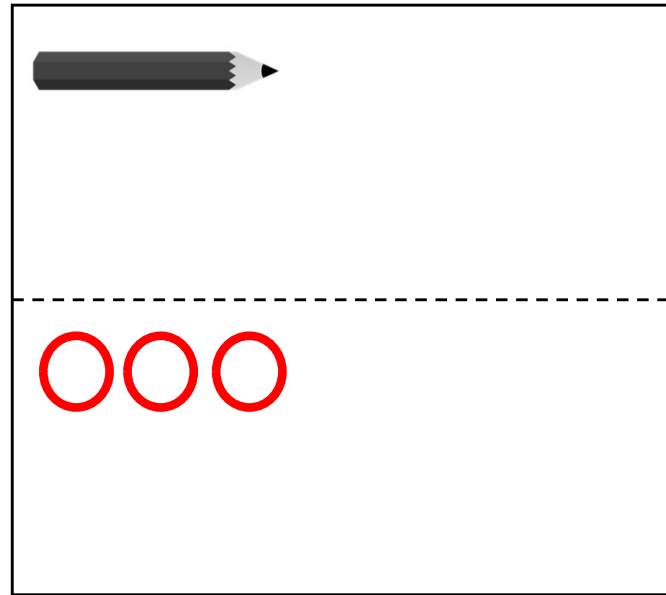
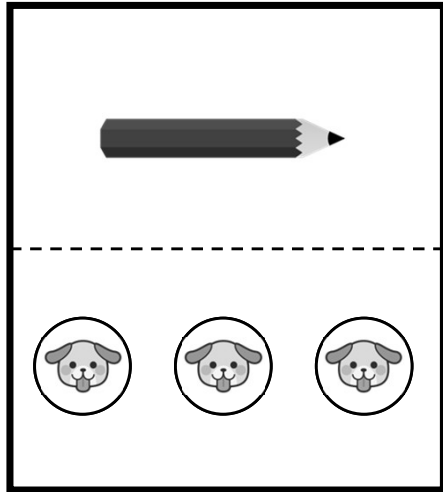
同じものが入っている箱が4箱あります。一つを開けてみると、下のように入っていました。4箱とも開けると、それぞれの物は、合わせていくつになりますか。その数だけ、それぞれのお部屋に丸を描きましょう。



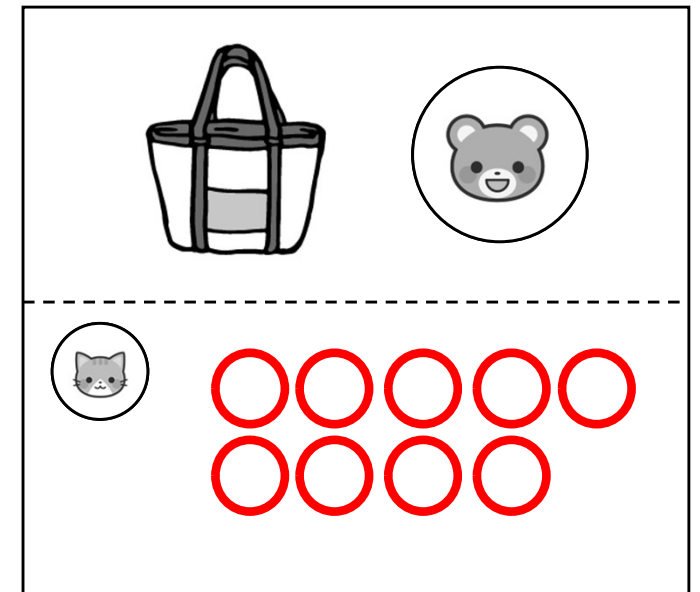
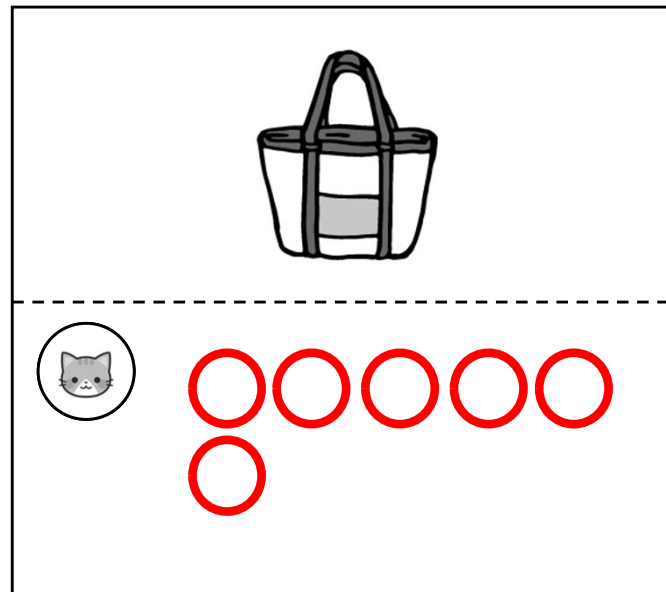
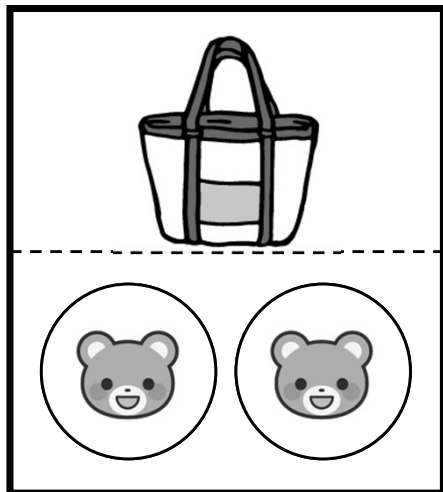

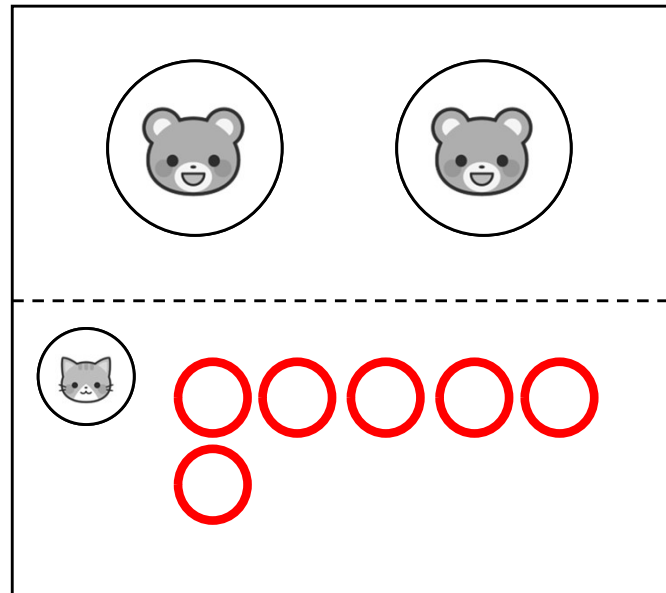
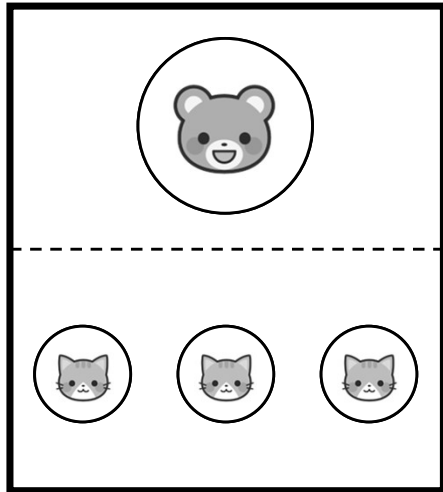
下のようなケーキを3つ作ろうと思います。お皿、蠟燭、いちごはそれぞれいくつ要りますか。それぞれ要る数だけ、お部屋に丸を描きましょう。







シールを3枚集めると、鉛筆が1本もらえます。それぞれのお部屋にある鉛筆をもらうには、シールを何枚集めれば良いでしょうか。その数だけ、お部屋の中に丸を描きましょう。






猫のシールを3枚集めると熊のシールを1枚もらえます。そして熊のシールを2枚集めると、カバンが一つもらえます。それぞれの上のお部屋にあるものをもらうには、点線のお部屋のシールを何枚集めれば良いでしょうか。その数だけ、お部屋の中に丸を描きましょう。





一つのコーンの後ろに2人ずつ並んでいきます。全部のコーンの後ろに同じように並ぶと、全員で何人並ぶことになるですか。その数だけ、下のお部屋の中に丸を描きましょう。

A horizontal rectangular box containing eight red circles, intended for drawing dots to represent the number of people.




一つのコーンの後ろに3人ずつ並んでいきます。全部のコーンの後ろに同じように並ぶと、全員で何人並ぶことになるか。その数だけ、下のお部屋の中に丸を描きましょう。

A rectangular box containing a horizontal row of nine empty red circles, intended for drawing or counting.


一つのコーンの後ろに2人ずつ並んでいきます。全部のコーンの後ろに同じように並ぶと、全員で何人並ぶことになるですか。その数だけ、下のお部屋の中に丸を描きましょう。




お皿には、おにぎりを2個ずつ載せます。またかごには、おにぎりを3個ずつ入れます。全部のお皿の上のおにぎりの数と、全部のかごの中のおにぎりの数では、どちらがいくつ多いでしょうか。多い方のお部屋に、多い数だけ、丸を描きましょう。




お皿には、おにぎりを2個ずつ載せます。またかごには、おにぎりを3個ずつ入れます。全部のお皿の上のおにぎりの数と、全部のかごの中のおにぎりの数では、どちらがいくつ多いでしょうか。多い方のお部屋に、多い数だけ、丸を描きましょう。





お皿には、おにぎりを2個ずつ載せます。またかごには、おにぎりを3個ずつ入れます。全部のお皿の上のおにぎりの数と、全部のかごの中のおにぎりの数では、どちらがいくつ多いでしょうか。多い方のお部屋に、多い数だけ、丸を描きましょう。






お皿には、おにぎりを3個ずつ載せます。またかごには、おにぎりを5個ずつ入れます。全部のお皿の上のおにぎりの数と、全部のかごの中のおにぎりの数では、どちらがいくつ多いでしょうか。多い方のお部屋に、多い数だけ、丸を描きましょう。







お皿には、おにぎりを1個ずつ載せます。かごのそれぞれにも同じ数ずつおにぎりを入れて、全部のお皿の上のおにぎりの数と、全部のかごの中のおにぎりの数を同じにするためには、ひとつのかごには、いくつずつ入れたら良いでしょうか。その数だけ、かごのお部屋に丸を描きましょう。



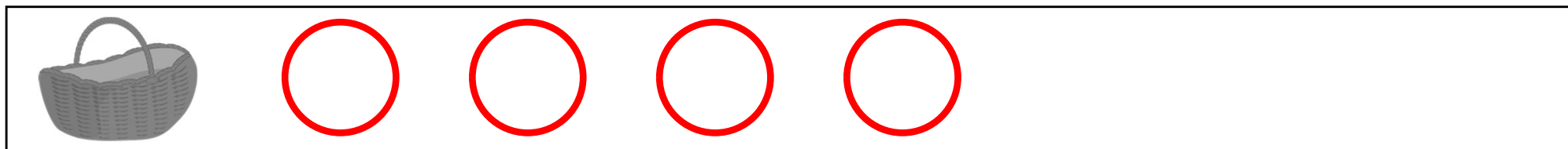

お皿には、おにぎりを2個ずつ載せます。かごのそれぞれにも同じ数ずつおにぎりを入れて、全部のお皿の上のおにぎりの数と、全部のかごの中のおにぎりの数を同じにするためには、ひとつのかごには、いくつずつ入れたら良いでしょうか。その数だけ、かごのお部屋に丸を描きましょう。



お皿には、おにぎりを2個ずつ載せます。かごのそれぞれにも同じ数ずつおにぎりを入れて、全部のお皿の上のおにぎりの数と、全部のかごの中のおにぎりの数を同じにするためには、ひとつのかごには、いくつずつ入れたら良いでしょうか。その数だけ、かごのお部屋に丸を描きましょう。



お皿には、おにぎりを2個ずつ載せます。かごのそれぞれにも同じ数ずつおにぎりを入れて、全部のお皿の上のおにぎりの数と、全部のかごの中のおにぎりの数を同じにするためには、ひとつのかごには、いくつずつ入れたら良いでしょうか。その数だけ、かごのお部屋に丸を描きましょう。



お皿には、おにぎりを3個ずつ載せます。かごのそれぞれにも同じ数ずつおにぎりを入れて、全部のお皿の上のおにぎりの数と、全部のかごの中のおにぎりの数を同じにするためには、ひとつのかごには、いくつずつ入れたら良いでしょうか。その数だけ、かごのお部屋に丸を描きましょう。

